

2020 年江苏省事业单位统考真题及答案
(完整版)

公考通网校

www.chinaexam.org



公考通 APP



微信公众平台

2020年江苏省事业单位统考真题及答案

客观题部分

一、综合知识

1、面对突如其来的新冠肺炎疫情，以习近平同志为核心的党中央统筹全局、果断决策，坚持把人民生命安全和身体健康放在第一位，全党全军全国各族人民上下同心、全力以赴，采取最严格、最全面、最彻底的防控举措，全国疫情防控阻击战取得重大战略成果。对此重大战略成果的意义，下列说法正确的是（ ）。

- ①彰显了中国特色社会主义制度的显著政治优势
- ②体现了改革开放以来我国日益增强的综合国力
- ③实现了环境卫生治理向全面社会健康管理的转变
- ④展现了全国人民同舟共济、众志成城的强大力量

- A、①②③
- B、①②④
- C、①③④
- D、②③④

2、2019年8月，习近平总书记在敦煌研究院座谈时的讲话中指出，敦煌文化延续近两千年，是世界现存规模最大、延续时间最长、内容最丰富、保存最完整的艺术宝库。下列关于敦煌文化的说法不正确的是（ ）。

- A、是各种文明长期交流融汇的结晶
- B、充分展示了中华民族的文化自信
- C、起源于先秦时期，兴盛于汉唐时期
- D、集建筑艺术、彩塑艺术、壁画艺术、佛教文化于一身

3、在几千年的历史流变中，中华民族遇到了无数艰难困苦，但都挺过来、走过来了。习近平总书记曾分别引用毛泽东《忆秦娥娄山关》《七律人民解放军占领南京》和李白《行路难》中的诗句，描绘中华民族的昨天、今天和明天。下列诗句不属于这三首诗词的是（ ）。

- A、雄关漫道真如铁
- B、人间正道是沧桑
- C、长风破浪会有时
- D、莫言下岭便无难

4、2020年我国将发行1万亿元抗疫特别国债，全部转给地方，建立特殊转移支付机制，资金直达市县基层、直接惠企利民，主要用于保就业、保基本民生、保市场主体。关于此次发行的特别国债，下列说法不正确的是（ ）。

- A、纳入中央财政国债余额管理
- B、服务于特定政策和支持特定项目

C、纳入中央政府性基金预算并列入财政赤字

D、需要国务院提请全国人大常委会审议和批准

5、为主动适应常态化疫情防控形势，中央文明办明确要求，在今年全国文明城市测评指标中，不再将占道经营、马路市场、流动商贩列为文明城市测评考核内容。对此，下列说法正确的是（ ）。

A、这表明全国文明城市测评的主导方向发生了根本性转变

B、这只是缓解经济压力的临时性举措，无助于激发市场活力

C、这种对“地摊经济”的放任政策，只能使城市越来越难管

D、这对保障民生有重要意义，也对城市治理提出了更高要求

6、我国古人关于职业操守有很多经典论述，如《礼记中庸》就提出了“君子遵道而行，半途而废，吾弗能已矣”的主张。下列最能体现这一主张的是（ ）。

A、小田任劳任怨，认真负责，多次被单位评为“先进工作者”

B、小钱苦心钻研业务，不断提升工作技能，被评为“岗位标兵”

C、老马长期扎根基层，办事公道，乡亲们亲切地叫他“一杆秤”

D、老牛从没有因个人原因耽误过工作，同事都说他是“老黄牛”

7、自电动自行车驾乘人员须佩戴安全头盔的规定出台以来，某市市场上的头盔价格随之“水涨船高”，市场监管部门随即对商家进行了检查并发放了提醒告诫函。对市场监管部门向商家发放提醒告诫函的做法，下列说法正确的是（ ）。

A、这是为了规范商家的经营行为

B、这是为了禁止商家的涨价行为

C、这是为了协调商家的竞争关系

D、这是为了提醒商家有市场风险

8、老子的《道德经》是一部论述有关道与德的经典专著。“道”是《道德经》的核心概念，老子用“道”来说明宇宙万物的演变，提出“道生一，一生二，二生三，三生万物”的观点。老子的上述观点体现的思维方式是（ ）。

A、线性思维方式

B、形象思维方式

C、直觉思维方式

D、辩证思维方式

9、古代中国产生了灿若星辰的文艺大师，留下了浩如烟海的文艺精品，不仅为中华民族提供了丰厚滋养，而且为世界文明贡献了华彩篇章。下列作品与其作者对应关系正确的是（ ）。

A、屈原——《橘颂》

- B、杜甫——《蜀道难》
- C、韩愈——《新婚别》
- D、苏轼——《山居秋暝》

10、中国共产党自成立之日起就致力于建设人民当家作主的新社会。土地革命时期，中国共产党在江西中央苏区建立了中华苏维埃共和国。抗日战争时期，中国共产党按照“三三制”原则，建立了以延安为中心、以陕甘宁边区为代表的抗日民主政权。下列关于“三三制”原则说法正确的是（ ）。

- A、工人阶级、农民阶级、知识分子及其他爱国人士各占三分之一
- B、共产党员、非党的左派进步分子和不左不右的中间派各占三分之一
- C、工人阶级、农民阶级、民族资产阶级及城市小资产阶级各占三分之一
- D、乡、区、县、省、全国工农兵代表大会中工农兵的代表各占三分之一

11、为了帮助企业应对疫情冲击，顺利复工复产，各级政府出台了一系列含金量高且操作性强的支持政策。下列属于财政支持政策的是（ ）。

- A、对疫情防控重点企业的贷款给予补贴并免收担保费
- B、降低暂时性生产经营困难企业复工复产申请的审批门槛
- C、下调工业生产的水价、气价和打折收取企业物流的货车通行费
- D、鼓励业主对承租房产从事生产经营的企业免收三个月的租金

12、最近发布的《海南自由贸易港建设总体方案》提出要把海南自贸港打造成我国开放型经济新高地，同时也将带给个人最直接的红利。下列属于这种“最直接的红利”的是（ ）。

- A、离岛免税购物额度从每人每年3万元提至10万元
- B、对服务贸易实行“既准入又准营”的自由化便利化制度
- C、在投资自由便利方面实行“非禁即入”的登记制度
- D、坚决不允许影响和破坏环境的国内外投资项目落地

13、下列关于慈善活动的说法正确的是（ ）。

- A、企业为救助病残职工可以在内部设立基金会，开展募捐
- B、企业和社会团体可以组织商业演出，定向捐赠演出收入
- C、国家、组织和个人应对红十字会兴办的公益事业给予扶持
- D、慈善组织应建立募捐平台，便于求助者自行发起慈善募捐

14、中国古代有子产铸刑书于鼎，古巴比伦有汉谟拉比刻法典石碑。对这种做法的象征意义理解不正确的是（ ）。

- A、法律是国之重器
- B、法律须向民众公开

- C、法律应保持稳定
- D、法律体现民众意志

15、某商场新安装了一个LED显示屏用于播放广告。该显示屏正对小王家窗户，严重影响小王的正常休息。对此，依据法律规定小王不可以采取的维权措施是（ ）。

- A、向环保部门投诉
- B、向法院提起民事侵权诉讼
- C、向法院提起环境污染公益诉讼
- D、向环保部门申请公开环评报告

二、言语理解与表达

16、突发公共卫生事件是对人民群众生命健康和国家经济社会发展的重大威胁，也是对国家治理能力和治理体系的重大考验。突发公共卫生事件紧急处置权的实施运行，特别是对公民权利的限缩，是否以及如何符合法治要求，都是重要的理论和实践问题。

这段文字接下来最有可能讨论的是（ ）。

- A、突发公共卫生事件对公民的权利会有哪些限制
- B、应对突发公共卫生事件时应遵循哪些法治原则
- C、突发公共卫生事件紧急处置权应如何有序实施
- D、国家治理体系在突发公共卫生事件中如何运作

17、《文心雕龙》有言，“情者文之经，辞者理之纬；经正而后纬成，理定而后辞畅”。这是行文的典范，又何尝不是语言的真义？话语真情充沛、逻辑严谨，自然能生发出直抵人心的力量。穆青采访焦裕禄事迹时情动于中，挥洒热泪，多年后，其采访日记上仍依稀可见斑斑泪痕。有了真情的贯注，那么语言和作品就都有了永不枯竭的活力，可以抵御时光而历久弥新。

下列说法与文意不符的是（ ）。

- A、言之成理是言辞畅达的基础
- B、情理兼具是遣词造句的要点
- C、语言的真义在于历久弥新
- D、语言的力量贵在贯注真情

18、研究证实，血清总胆固醇水平与血压之间都存在着正向关系，以上的高血压患者存在其他危险因素，其中最常见的是血脂异常（ ），而血糖升高会引起一系列代谢紊乱及血管壁增厚，导致血管病变，一旦患者饮食不注意，就容易造成高血脂，增加心血管疾病风险。此外，长期吸烟、酗酒也会改变血脂构成，使高密度脂蛋白减少、低密度脂蛋白增加、血清抗氧化作用减少，促进了动脉粥样硬化、心梗和脑梗的发生和发展。

下列对文意的概括最恰当的是（ ）。

- A、血脂异常与心脑血管各种疾病之间的关系
- B、血清总胆固醇水平异常所导致的相关疾病
- C、心血管疾病与各种不良生活方式间的关系
- D、血脂异常的诱发因素及其引发的相关疾病

19、唐诗是诗歌史上的一座高峰，宋代诗人的终极性目标便是走出唐诗的巨大光环。所以宋诗的任何创新都是以唐诗为参照对象的，宋人惨淡经营的目标便是在唐诗的境界之外另辟新境。从内容而言，唐诗表现社会生活几乎达到了巨细无遗的程度，宋人所能做的便是在唐人开采过的矿井里继续深挖。宋诗在题材方面较为成功的开拓，便是向平凡的日常生活倾斜。

这段文字重在说明（ ）。

- A、宋诗在题材开拓方面已超越了唐诗
- B、宋诗难以在诗歌艺术方面超越唐诗
- C、宋诗力图在唐诗既有辉煌之外有所创新
- D、宋诗的所有创作方法都不得不参照唐诗

20、科学技术的能量越来越大，把控不好它的危险也会日益加剧。如果任其无约束地发展，它的潜在成果就既有可能造福人类，也有可能摧毁人类的生存与社会秩序。特别是基因编辑技术、人工智能技术、辅助生殖技术等前沿科技迅猛发展，在给人类带来巨大福祉的同时，也不断突破着人类的伦理底线和价值尺度。如何让科学始终向善，是人类亟须解决的问题。加强科技伦理制度化建设，推动科技伦理规范全球治理，已成为全社会的共同呼声。

这段文字意在强调（ ）。

- A、科学技术既有可能造福人类，也可能破坏既有社会秩序
- B、目前已有一些前沿科学技术给人类带来了伦理困扰
- C、科技界不能放任科技发展突破伦理底线和价值观念
- D、社会亟待加强科技伦理建设积极引导科学技术向善

21、浓郁的民族色彩、自然的生态环境和_____的气候条件相结合，形成了别具特色的村落景观。无论是坐落于山地或是河谷两岸的村寨，都最大限度地体现了保留地形地貌和环境要素的理念，呈现出_____地形、自然衍生的形态特征。

依次填入画横线处最恰当的一项是（ ）。

- A、不可多得 衬托
- B、风调雨顺 迎合
- C、得天独厚 顺应
- D、相辅相成 依托

22、学术、科技评价体系事关改革创新大局、国家兴衰，虽前路漫漫，_____，但只要我们立足中国国情，尊重科技和人才发展规律，勇于_____，自我变革，必然能够走出一条中国特色评价体系的康庄大道。

依次填入画横线处最恰当的一项是（ ）。

- A、任重道远 破旧立新
- B、艰难险阻 突破重围
- C、筚路蓝缕 摧枯拉朽
- D、云遮雾罩 不断进取

23、城市的物联网数据来自城市建设和运维活动，相关的数据具有公共产权属性。物联网数据开放_____全社会的共同意愿，数据的利用也需要考虑全体公民的福祉。因此，_____商业价值的同时，社会效益也必须得到重点_____。

依次填入画横线处最恰当的一项是（ ）。

- A、基于 兼顾 考量
- B、出于 体现 保障
- C、反映 顾及 提升
- D、因应 满足 保证

24、中国的传统社会属于农耕社会，然而，即使在这种远比工业社会单调的生活形态里，人们夜间的文化生活同样_____。创作于五代时期的名画《韩熙载夜宴图》，就_____地展示了古人设夜宴载歌行乐的风雅场面，琵琶、观舞、宴间休息、清吹、欢送宾客，其程式之考究、歌舞之精美。足见这种文化生活的_____之高。

依次填入画横线处最恰当的一项是（ ）。

- A、美不胜收 清晰 素质
- B、多姿多彩 直观 品质
- C、五彩缤纷 精准 质量
- D、琳琅满目 完美 品格

25、由此可见，无论是依据生物进化论还是历史唯物论，农业起源都应该是一个非常_____的渐变过程，而不是_____的骤然变革。这个观点得了考古发现的_____。考古资料显示，中国农业起源的过程经历了数千年之久，大约起始自距今一万年前，完成于距今五千年前后。

依次填入画横线处最恰当的一项是（ ）。

- A、缓慢 突如其来 实证
- B、久远 一步到位 支持
- C、悠长 翻天覆地 证明

D、漫长 一蹴而就 证实

三、判断推理

26、下列排序最合理的一项是（ ）。

- ①有人问王徽之原因
- ②王徽之连夜乘舟去拜访戴逵
- ③到了戴逵门口王徽之忽然返航
- ④雪夜，王徽之想起了好友戴逵
- ⑤王徽之说，乘兴而来，尽兴而归

A、④-②-③-①-⑤

B、①-⑤-④-②-③

C、④-①-②-③-⑤

D、①-④-②-③-⑤

27、排序最合理的一项是（ ）。

- ①孙教授乘坐长途汽车去了 S 县城
- ②孙教授报告的视频进入网民视线
- ③孙教授的报告内容令现场听众震撼
- ④孙教授受邀给 S 县骨干教师作报告
- ⑤孙教授乘出租车到了 S 县实验中学

A、④-⑤-①-③-②

B、④-①-⑤-③-②

C、①-⑤-③-②-④

D、①-⑤-④-②-③

28、下列排序最合理的一项是（ ）。

- ①了解民情
- ②交通不便
- ③建成公路
- ④山货畅销
- ⑤政府出资

A、①-⑤-②-③-④

B、⑤-③-①-④-②

C、②-①-⑤-③-④

D、②-④-⑤-①-③

29、下列排序最合理的一项是（ ）。

- ①游客蜂拥而至，观赏古莲开花
- ②圆明园考古发掘出 11 颗古莲子
- ③6 颗古莲子在播种之后成功发芽
- ④长叶结藕的古莲花移植回圆明园
- ⑤中科院植物研究所对古莲子进行培育

A、②-⑤-③-④-①

B、①-③-④-②-⑤

C、②-③-①-⑤-④

D、③-①-②-④-⑤

30、下列排序最合理的一项是（ ）。

- ①在马达加斯加推广高产杂交水稻规模化种植
- ②中国专家带着杂交水稻最新技术来到马达加斯加
- ③马达加斯加水稻产量低，近 200 万人面临饥荒威胁
- ④马达加斯加人民为表达感谢，将中国杂交水稻印到新版货币上
- ⑤水稻每公顷产量跃升至 10.8 吨，解决了马达加斯加的粮食短缺问题

A、④-③-②-⑤-①

B、③-②-①-⑤-④

C、①-②-③-⑤-④

D、②-①-③-⑤-④

31、左顾：右盼

A、冷嘲：热讽

B、天昏：地暗

C、早出：晚归

D、旁敲：侧击

32、淡：淡墨：淡季

A、热：热点：热带

B、美：美貌：美名

C、香：香料：香水

D、贵：贵宾：贵族

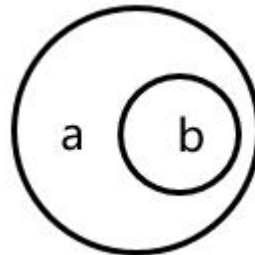
33、不以规矩，不成方圆

- A、不以为耻，反以为荣
- B、不以物喜，不以己悲
- C、不求有功，但求无过
- D、不经一事，不长一智

34、教师：音乐教师：美术教师

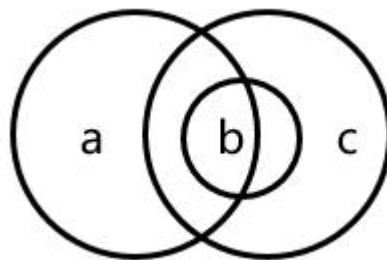
- A、厨师：中国厨师：法国厨师
- B、课程：汉语课程：英语课程
- C、医院：综合医院：专科医院
- D、律师：刑事律师：民事律师

35、如果用一个圆来表示词语所指称的对象，则以下哪项中两个词语之间的关系符合下图？（ ）



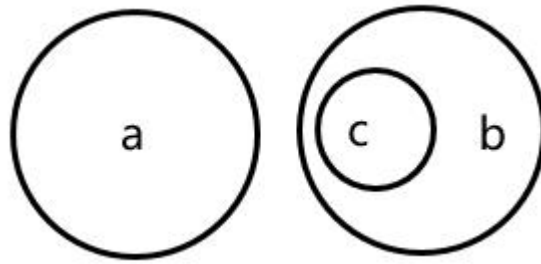
- A、a 银河系，b 太阳系
- B、a 北京市，b 直辖市
- C、a 亚洲人，b 中国人
- D、a 电动车，b 锂电池

36、如果用一个圆来表示词语所指称的对象，则以下哪项中三个词语之间的关系符合下图？（ ）



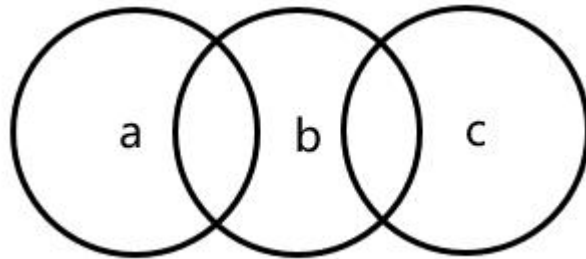
- A、a 古代小说，b 长篇小说，c 武侠小说
- B、a 程序员，b 文艺青年，c 青年
- C、a 哺乳动物，b 鱿鱼，c 海洋生物
- D、a 蔬菜，b 西红柿，c 水果

37、如果用一个圆来表示词语所指称的对象，则以下哪项中三个词语之间的关系符合下图？（ ）



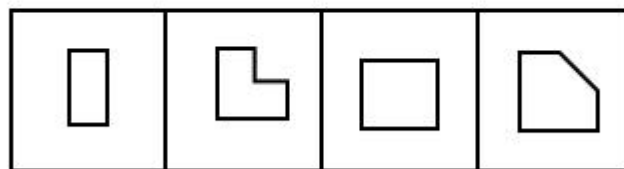
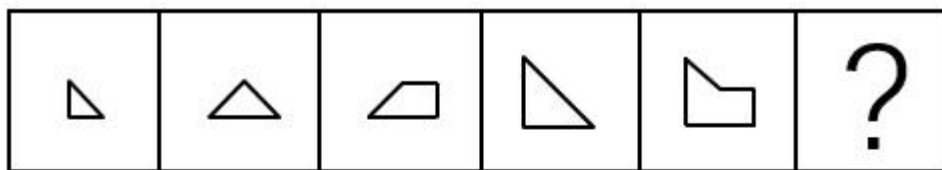
- A、a 会计师, b 审计师, c 女审计师
- B、a 高山, b 大海, c 海水
- C、a 田野, b 建筑物, c 楼房
- D、a 浙江, b 江苏, c 南京

38、如果用一个圆来表示词语所指称的对象, 则以下哪项中三个词语之间的关系符合下图? ()



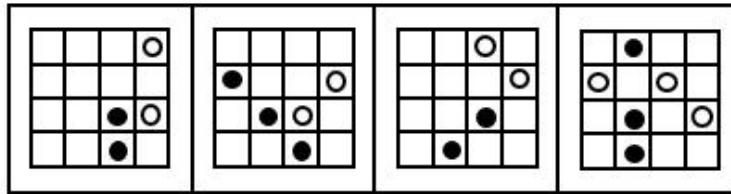
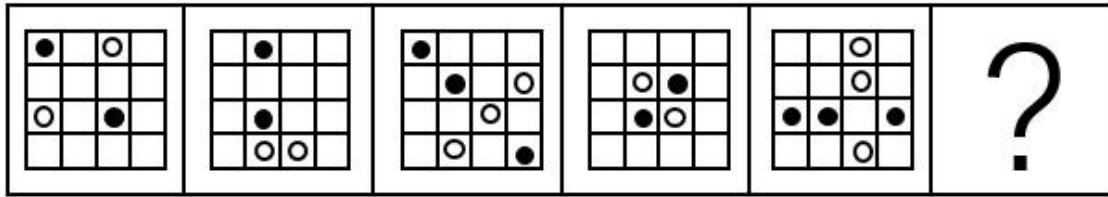
- A、a 工人, b 工程师, c 妇女
- B、a 诗人, b 书法家, c 歌手
- C、a 儿童, b 选举人, c 候选人
- D、a 党员, b 公务员, c 无党派人士

39、请从所给的四个选项中, 选出最合适的一个填入问号处, 使之呈现一定的规律性。 ()




A B C D

40、请从所给的四个选项中, 选出最合适的一个填入问号处, 使之呈现一定的规律性。 ()



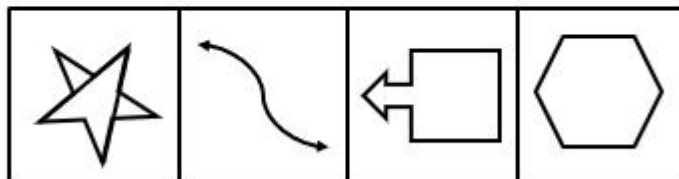
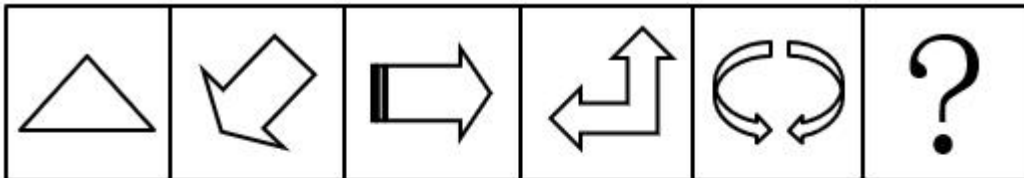
A B C D

41、请从所给的四个选项中，选出最合适的一个填入问号处，使之呈现一定的规律性。（ ）



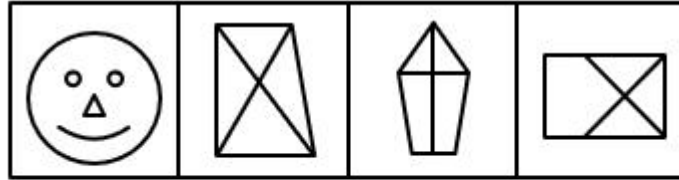
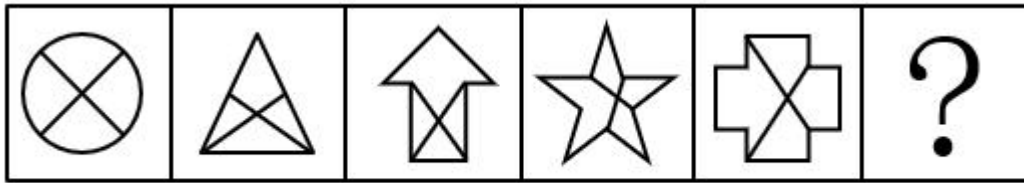
A B C D

42、请从所给的四个选项中，选出最合适的一个填入问号处，使之呈现一定的规律性。（ ）



A B C D

43、请从所给的四个选项中，选出最合适的一个填入问号处，使之呈现一定的规律性。（ ）



A B C D

44、对于古代中国社会的女性，一般人会想象她们深居闺中，“大门不出，二门不迈”。但近来有学者发现，宋代福建地区大户人家的女性已能乘轿出行，打破儒家伦理对她们的许多禁锢，拥有了自己应有的社会活动空间。该学者由此断言，宋代女性并未被闭锁在属于“私领域”的家内生活中，而是拥有多种权利和自由，和男性一起承担家庭、国家和社会的各种责任。

以下哪项如果为真，最能质疑上述学者的断言？（ ）。

- A、在古代中国社会，决定女性权利和自由的因素并非其主观能动性，而是其社会地位
- B、精英女性在公共生活中的活跃，不能证明女性作为一个群体已普遍享有权利和自由
- C、宋代女性虽然拥有一定的权利和自由，但这些权利和自由并未获得社会的普遍承认
- D、宋代很多精英士绅对待女性的态度务实而灵活，儒家礼仪并未被当成铁板一块的教条

45、某医院护士小娟从抗疫前线胜利归来，单位同事小红、小丽和小明三人结伴来看望她。他们送给小娟一束鲜花及一些慰问品。小娟问这些礼物是谁买的？三人笑着回答：

小红：我没有买，小丽也没有买；

小丽：我没有买，小明也没有买；

小明：我没有买，是她们两人共同买的。

后来小娟得知，他们三人每人说的话都是一半对、一半错。

根据上述信息，可以得出以下哪项？（ ）。

- A、礼物是小红买的
- B、礼物是小丽买的
- C、礼物是小明买的
- D、礼物是三人共同买的

46、植物是自然的生命，人类文明的建立与发展离不开植物的贡献，文学作品更是常常赋予植物许多象征意义，例如松竹梅兰菊等植物，它们都被中国文人寄托了许多优美的品德与节操。但有专家指出，这种做法让

植物的象征意义压抑了植物的自然意义，严重干扰了人们对于植物自然属性的认识。

以下哪项如果为真，最能支持上述专家的论断？（ ）。

A、中国第一部诗歌总集《诗经》一共写了 136 种植物，但今天我们很多人连身边最平常的植物都叫不出名字

B、玉米、土豆和红薯等外来作物对于中国人口的稳定增长有重要贡献，但它们很少受到中国文人的称颂

C、竹，常被中国文人当作具有谦谦之风的君子，但竹鞭在地下肆意蔓延，到处侵略其他植物的生存空间

D、有些俄罗斯文学作品很仔细地描绘各种树木、花草、果实，能让读者客观认知到它们的自然属性和美

47、小天、小亮和小星三位小朋友分别居住在三个不同但相邻的行政村。这三个行政村是王村、李村和江村。一天，三位小朋友一块儿在王村的晒场上玩耍时，走来一位陌生人，问他们各自是哪个村的？小天、小亮争先恐后地机智回答：

小天：小亮是李村的，或者是江村的；

小亮：小星是王村的。

事实上，小星也说了话，但三人中只有家在李村的小朋友说了真话。

根据以上信息可以得出，小天、小亮、小星三人居住的行政村分别是（ ）。

A、王村、李村、江村

B、王村、江村、李村

C、李村、江村、王村

D、江村、王村、李村

48、作为 AI 领域目前最成熟的技术，人脸识别正在深入教育行业，在刷脸签到、学员身份查询、校园安防、课堂教学效果检测等诸多场景中逐渐得到应用。有些人脸识别技术甚至可以记录学生上课的行为、表情、专注度等多维度课堂数据，将对人脸的识别上升到“对人的深刻理解”，为课堂教学评估提供强有力辅助资料。当下，人脸识别技术正在飞速发展，但有专家预测，学校会谨慎甚至限制使用人脸识别技术，这项技术不会有较大的校园市场。

以下哪项如果为真，最能支持上述专家的预测？（ ）

A、学生、老师和家长都高度重视课堂教学效果

B、人脸识别技术的应用涉及侵犯学生的隐私权

C、人脸识别只用于监控而非实质改善教学效果

D、人脸信息的收集与存储目前仍存在安全隐患

49、盛夏观莲，是一件赏心乐事。某公园今年别出心裁，将红莲、白莲和黄莲栽种在一起，组成一幅幅优美的图案，引得游人驻足忘返。每幅图案都是一个正六边形，由 6 个正三角形构成，每个三角形各栽种红、白、黄三种莲花中的一种。每个三角形与其他三角形要么相邻，要么相对，要么既不相邻又不相对。已知：

- (1) 每种莲花均在六边形中出现两次，但彼此并不相邻；
- (2) 栽种红莲的两个三角形中间只隔着一个三角形，这个三角形中栽种了黄莲。

根据上述信息，可以得出以下哪项？（ ）。

- A、红莲与白莲相对
- B、红莲与黄莲相对
- C、黄莲与白莲相对
- D、白莲与白莲相对

50、为摸清青山乡的贫困状况，某调查组决定在该乡东坡村、南江村、西河村及北山村展开实地调查。调查组由张军、王刚、李伟、蒋松 4 位中年人与赵新、钱芳、朱海、程明 4 位年青人组成。为了方便调查，调查组决定两人一组，中青搭配，各选一村展开调查，各组所调查的村落并不相同。因各人对青山乡贫困状况的了解差异，所以有如下情况：

- (1) 张军选择去北山村，赵新选择去南江村；
- (2) 东坡村和南江村，钱芳至少选择一个；
- (3) 如果王刚去西河村，则朱海也去西河村；
- (4) 如果钱芳去东坡村，则程明去西河村。

事实上，四村调查顺利展开，上述 8 人的选择也都得以实现。

根据上述信息，可以得出下列哪两人一定没有结伴调查？（ ）。

- A、张军和朱海
- B、王刚和程明
- C、李伟和钱芳
- D、蒋松和赵新

四、数量关系

51、 4, 1, 7, -5, 19, ()

- A、-60
- B、-29
- C、2
- D、33

52、 $\frac{9}{4}, -3, 1, \frac{2}{3}, \frac{5}{9}, ()$

- A、 $\frac{17}{15}$
- B、 $\frac{23}{18}$

C、 $\frac{47}{25}$

D、 $\frac{80}{27}$

53、0, 1, 8, 24, 52, ()

A、95

B、99

C、106

D、113

54、1, $\frac{1}{2}$, $\frac{2}{3}$, $\frac{6}{5}$, $\frac{30}{11}$, ()

A、 $\frac{137}{25}$

B、 $\frac{241}{32}$

C、 $\frac{330}{41}$

D、 $\frac{451}{56}$

55、-9, -2, 17, 54, 115, ()

A、198

B、202

C、206

D、212

六、资料分析

材料

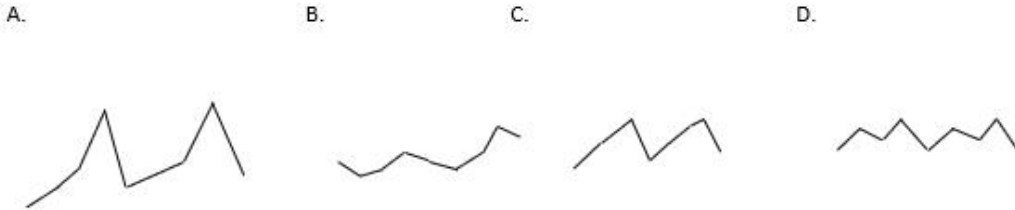
2020年一季度,我国农林牧渔业实现总产值18193亿元,比上年同期增加2915亿元。2018年一季度至2020年一季度我国农、林、牧、渔业总产值情况见下表。

季度	农业	林业	牧业	渔业
2018年一季度	4854	765	7231	2156
二季度	12880	1385	5240	2466
三季度	19260	1158	6828	2936
四季度	24459	2125	9398	4574
2019年一季度	5299	815	6961	2203
二季度	14339	1461	5894	2609
三季度	20783	1204	7658	3073
四季度	25646	2296	12551	4687
2020年一季度	5687	816	9533	2157

56、2020 年一季度，我国农林牧渔业总产值同比增速为（ ）。

- A、4%
- B、9%
- C、14%
- D、19%

57、下列图形能反映 2018 年一季度至 2020 年一季度牧业总产值变动态势的是（ ）。



58、2018 年一季度至 2020 年一季度，农业总产值占当季农林牧渔业总产值的比重超过 50%的有（ ）。

- A、7 个季度
- B、6 个季度
- C、5 个季度
- D、4 个季度

59、2019 年二季度至四季度，我国渔业总产值的季平均增加量是（ ）。

- A、621 亿元
- B、693 亿元
- C、828 亿元
- D、1039 亿元

60、关于 2018 年一季度至 2020 年一季度我国农、林、牧、渔业总产值，下列判断正确的有（ ）。

- (1) 2020 年一季度农、林、牧、渔业总产值同比均有所增长
- (2) 四季度农、林、牧、渔业总产值均分别高于同年其它 3 个季度
- (3) 有 4 个季度的林业总产值不及农业的 10%

- A、0 项
- B、1 项
- C、2 项
- D、3 项

主观题部分

一、给定材料

材料 1

“轧神仙”是传承了几千年的活态吴文化。这一由吕祖传说衍化而来的民俗活动以祈福、求健康为主旨，内容丰富多彩，在S市已有800多年历史，2014年被列入国家级非物质文化遗产名录。活动每年吸引大量市民和游客参加，被老百姓称为“自己的狂欢节”，不仅体现了市民对地域文化的认同，也聚集了商业人气。5月6日，以“‘云’上轧闹猛，祈福千万家”为主题的2020年“轧神仙”活动在千年老街拉开了帷幕。为期三天的“狂欢节”跟以往有所不同，通过七大板块的“云”上活动，吸引了120多万人次在线上“轧闹猛”。优秀传统文化传播模式的发展变化，为民俗节庆赋予了新内涵、注入了新活力。

“老一辈们特别重视‘轧神仙’，我们也年年都盼着，今年闹疫情，以为会泡汤，没想到这样办更方便更火爆！”周阿姨吃着女儿在网上买的“神仙糕”开心地说。“神仙糕”是“轧神仙”时必吃的时令美食。“目前，我们店制作传统款、创新款两种‘神仙糕’。”在直播镜头中，糕团制作技艺非遗传承人杨大师正在向网友介绍“神仙糕”的制作技艺，开启了线上带货模式。他还向网友展示了“一切准”绝活，分切成菱形的糕点每块都在80克左右，实力圈粉。线下，“神仙糕”售卖一如既往的火爆。做代购生意多年的尤女士特地赶来老街，一口气买了三四百元的糕点。她说：“通过网络直播，很多外地的网友都知道了‘轧神仙’这项民俗活动，也想尝尝‘神仙糕’，沾一沾仙气。”

在某中医馆，首席老药工管师傅一边配制“神仙香囊”，一边面对镜头介绍香囊的功用和使用方法。当天，直播在线观看人数多达18.3万，品种多样、造型各异的“神仙香囊”广受喜爱，线上、线下销售都十分红火。“轧神仙”时买盆仙气与香气兼备的“神仙花草”，是很多老市民的习惯。“白兰花要放在室内养，要勤施肥……”买回家的花草该如何养护，非遗项目白兰花栽培技艺传承人老黄在镜头中现场教学。吹糖人、虎头鞋制作等以往“轧神仙”期间喜闻乐见的老手艺展示也都被搬到了线上。市民足不出户，就能感受“轧神仙”民俗文化的深厚底蕴。

为了激发广大网友的参与热情，活动主办方还开通了线上答题板块，内容涉及民俗文化、疫情防控、安全防护等诸多领域，网友们在答题后即可参与抽奖，获得现金红包。与此同时，主办方还启动了首届“轧神仙”文化IP创意设计大赛，为大家带来了一场创意盛宴。组委会共收到来自全国各地的参赛作品一百余件。不少作品的设计者是90后甚至95后，他们将文化创意元素与“轧神仙”民俗主题相结合，用当代个性化的设计语言诠释了年轻一代对传统民俗的独特理解，让人耳目一新。10件作品脱颖而出，被评为2020年度“轧神仙”民俗文化活动十佳文创设计。

大赛评委、S市民俗博物馆馆长说：“这次疫情促使文旅行业在求新求变中求生存求发展。我们博物馆也面临着同样的问题，也应当尝试‘走上云端’，让‘云刷馆’成为新的观展方式。”

材料2

月初，N市G区开通了“归鸿热线”，安排具有专业知识的医护人员24小时在线，通过电话、微信等方式，与因海外疫情回到家乡的留学生及其家长保持联系，帮助他们消除“心理疫情”，给归国学子穿上心理“防护服”，“归鸿热线”负责某街道社区卫生服务中心的李医生用专业的知识、贴心的话语温暖着归国学子的心。

“江海一身真客燕，云天万里看归鸿”。“欢迎回家”，每位住进隔离观察点的留学生都会收到李医生发来的这条信息。留学生小华好久没见到亲人，一回来就要隔离，情绪非常低落。“到了这里，就当是到了自己家，我们就是你的亲人，有什么困难尽管说。”李医生了解到这一情绪后，拨通小华的电话耐心开导告诉她暂时的隔离是为了她本人的健康，也是为了她家人的安全，让她调整好心态，洗个热水澡好好休息，有问题及时联系。第二天，李医生收到了小华的微信，说不再那么委屈和慌张了，睡得很踏实。

在欧洲读书的小张，一路辗转 60 小时，途径 4 个国家才回到 N 市，有点烦躁。李医生很担心，主动打电话给他：“人生难免会遇到各种各样的突发事件，回家的路虽然艰辛，但也能磨练意志，这是成长过程中的历练”，小张感到很温暖，说自己现在心情好多了。

好多留学生离开隔离点前都会特地向李医生道别：“我不知道您长什么样，但我记住了您亲切的声音，真的谢谢您！感谢你们的付出！”留言本上也贴满了爱心贴，写满了感谢的话。

材料 3

“在社区派出所完成博士学位论文答辩，我也是独一份了”，近日，一则“博士生在派出所完成答辩”的消息刷爆朋友圈。

5 月 28 日是 N 大学博士生小陈毕业论文答辩的日子，因受新冠疫情影响，学校采取了线上答辩的方式。小陈为了能有个安静的环境专心答辩，特意提前在学校附近的青年公寓定了一个房间，等待 8:30 准时开始的视频答辩会。没想到 7 点多的时候，公寓突然停电，等了很久也没有恢复供电，眼看答辩的时间越来越近，小陈急得团团转。抱着试一试的心态，他到附近的 H 派出所求助。民警得知情况后，立即为小陈腾出了一个独立办公室，为他调试好网络，开了空调，点了蚊香。为了答辩不受影响，民警还在工作的微信群里告知同事，让他们暂时不要进入该办公室。整个上午 H 派出所的这间办公室变成了临时答辩会场，民警还不时向里望一眼，看看有没有什么需要的地方，最终小陈顺利完成了 2 个多小时博士论文答辩。

今年是小陈硕博连读的第六年，学习生涯即将画上一个圆满的句号，万万没想到答辩当天遇到这样的意外。“现在是毕业季，老师们都很忙，6 位答辩委员好不容易协调好了时间，如果当天不能答辩，再找其他时间就难了，多亏了派出所民警在关键时刻给了我这么大帮助。”小陈感动地说。事后，他把这段经历发在朋友圈，由衷地感慨：“有困难还是要找警察”，网友们纷纷为民警点赞：加鸡腿！

材料 4

近日，家住 X 市 S 镇滨湖花苑的姚大爷心里乐开了花，他终于可以去镇上的居家养老服务中心了。“前段时间不知道怎么用手机操作扫码，哪儿也进不去，可把我憋坏了，现在好了，终于可以和两个多月没见的票友们一起拉胡弹唱了。”姚大爷乐滋滋地来到服务中心，拿出市民卡，在街道工作人员的协助下，很快就完成了绿码刷取验证、测温登记等防疫操作，顺利地进入了服务中心。

据悉，为了进一步加强对全镇居家养老服务中心的防疫管控，保证日常服务安全有序开展，S 镇引入了市民健康码查验系统设备，但是，不少老年人由于不会使用智能手机而出行不便，着急上火。为了方便这一群体，

中心将市民卡和健康码联通，老人们通过刷市民卡就可以实现健康码即时验证。“之前健康码家人帮忙申领了，智能手机也买了，可我不会用，每次点进去，找半天也找不到，干脆不去了。现在到活动中心只要测一下体温，拿出市民卡刷一下就解决了，”姚大爷说。

“引入这个系统，主要是为了解决老年人不会用手机出示健康码的难题”，S镇相关负责人介绍，“来这里活动的老人，大多还不会用智能手机，健康码是由子女帮他们申领的，工作人员不能看到相关信息，现在只要申领过健康码，老人带上市民卡就行，我们工作也好做了，皆大欢喜。”

材料5

“这个措施太贴心了！以前路边临时停车提心吊胆的，就怕吃罚单，现在有了绿色泊位，办点小事安心多了。”最近，H市新出台了20分钟“限时停车位”政策。消息一出，众多市民纷纷点赞，称之为“绿色泊位”。

日常生活中，类似接送孩子、买早点、如厕、买药等临时停车的需要很多，但市民因为担心被贴罚单，时常办不好这些“临时”的事情，为了缓解市民短时停车难题，去年10月，H市交警部门就开始酝酿20分钟内放心停车的便民措施，试点期间，“绿色泊位”集中设在医院、菜市场、学校附近。试点之后，更多主城区的“绿色泊位”选址也已基本明确。目前，统筹智控的相关配套措施也在跟进实施中，停车超过15分钟系统就会通知车主前来取车，提醒超时收费。

相关负责人表示，这些场所的道路空间资源原本就比较吃紧。如何在寸土寸金的城区中划出这样的便民空间，并且不影响到安全管理、道路畅通、人员视线等交通要素，需要对路面宽度、人车流量、公共业态等不同指标进行综合测算，工作量很大，但是为了解决市民的“停车痛点”，这项人性化的措施一定会推广下去。

材料6

“民为邦本，民心至上”是中国传统文化的核心精神之一，习近平总书记多次强调，民生是人民幸福之基、社会和谐之本，要坚持以人民为中心的发展思想，不断实现人民对美好生活的向往，扎实办好民生实事。

连心才能润心，暖心凝聚民心。只有永远保持对百姓的赤子之心，始终把人民的需求摆在至高无上的地位，才能为人民创造更美好、更幸福的生活，让社会焕发出前所未有的生机活力。

二、作答要求

问题1

请结合“给定材料1”，谈谈“轧神仙”活动的成功举办对民俗博物馆“走上云端”有何启示。（10分）

要求：理解准确，分析透彻，条理清晰。篇幅250字左右。

问题2

“给定资料2~5”列举了不同单位在服务工作中一些人性化的做法，请对此加以归纳总结。（10分）

要求：紧扣“给定资料”，概括准确，条理清楚，语言精练。篇幅不超过200字。

问题3

请结合对“给定资料6”中“连心才能润心，暖心凝聚民心”这句话的理解，联系实际，自拟题目，写一

篇文章。（30分）

要求：

- （1）观点鲜明，结构严谨，感情真挚，语言流畅；
- （2）结合“给定资料”，但不拘泥于“给定资料”；
- （3）篇幅800字左右。

参考答案（客观题部分）

1.正确答案是：B

解析 本题考查时事政治。

2020年6月2日，习近平主持专家学者座谈会并发表重要讲话。他表示，面对突如其来的新冠肺炎疫情，党中央统筹全局、果断决策，坚持把人民生命安全和身体健康放在第一位，全党全军全国各族人民上下同心、全力以赴，采取最严格、最全面、最彻底的防控举措，全国疫情防控阻击战取得重大战略成果。这些成就的取得，彰显了中国共产党领导和我国社会主义制度的显著政治优势，体现了改革开放以来我国日益增强的综合国力，展现了全党全军全国各族人民同舟共济、众志成城的强大力量。因此①②④正确。

2.正确答案是：C

解析

本题考查中国特色社会主义理论体系。

A项正确，习近平总书记在敦煌研究院座谈时的讲话中指出：“敦煌文化是各种文明长期交流融汇的结晶。敦煌作为中国通向西域的重要门户，古代中国文明同来自古印度、古希腊、古波斯等不同国家和地区的思想、宗教、艺术、文化在这里汇聚交融。”

B项正确，习近平总书记在敦煌研究院座谈时的讲话中指出：“敦煌文化展示了中华民族的文化自信。只有充满自信的文明，才会在保持自己民族特色的同时，包容、借鉴、吸收各种不同文明。”

C项错误，从汉代起，敦煌就是我国和印度半岛、中亚文化交流的要地。自前秦开始的一千多年里，人们在鸣沙山的断崖上开凿洞窟。其中，隋唐时的洞窟占十分之六七，最精美的佛像和壁画，大都是这个时期的作品。故敦煌文化并非起源于先秦时期。

D项正确，习近平总书记在敦煌研究院座谈时的讲话中指出：“敦煌文化集建筑艺术、彩塑艺术、壁画艺术、佛教文化于一身，历史底蕴雄浑厚重，文化内涵博大精深，艺术形象美轮美奂，给我留下了很深的印象。”

本题为选非题，故正确答案为C。

3.正确答案是：D

解析

本题考查文学常识。

A 项正确，“雄关漫道真如铁”出自毛泽东的《忆秦娥·娄山关》。诗句在字里行间，不仅歌颂了红军的顽强意志，抒写人民的胜利信心，而且对敌人的鄙夷与蔑视也溢于言表。

B 项正确，“人间正道是沧桑”出自毛泽东的《七律·人民解放军占领南京》，意为不断地变异、不断地发展、不断地前进，是人类社会发展的必然规律。

C 项正确，“长风破浪会有时”出自唐代诗人李白的《行路难》，意为尽管前路障碍重重，但仍将有一天会乘长风破万里浪，挂上云帆，横渡沧海，到达理想的彼岸。

D 项错误，“莫言下岭便无难”出自宋朝诗人杨万里的《过松源晨炊漆公店》，其包含了下岭前艰难攀登的整个上山过程，以及对所历艰难的种种感受。

本题为选非题，故正确答案为 D。

4. 正确答案是：C

解析

本次考查宏观经济。

2020 年 5 月 22 日上午，李克强总理作政府工作报告，对今年发展主要目标和下一阶段工作进行了总体部署，提出今年赤字率拟按 3.6% 以上安排，财政赤字规模比去年增加 1 万亿元，同时发行 1 万亿元抗疫特别国债。

C 项错误，A、B 项正确，不同于一般国债，特别国债是服务于特定政策、支持特定项目需要而发行的国债。特别国债纳入中央财政国债余额管理，在发行时调整国债余额，但其纳入中央政府性基金预算，而不列入财政赤字。

D 项正确，在特别国债发行流程上，首先需要国务院提请人大常委会审议增发特别国债，调整年末国债余额限额，然后财政部根据议案决定发行特别国债，并按特定投向使用。

本题为选非题，故正确答案为 C。

5. 正确答案是：D

解析

本次考查时事政治。

A 项错误，“地摊经济”不纳入“文明创建”测评考核内容，并不意味着全国文明城市测评的主导方向发生了根本性转变，而是释放出施政者不再单纯追求整齐划一的城市面貌，着重考量城市包容度、市民生活舒适度的强烈信号，也为更多身处社会底层的民众提供了生存发展的良机，这也是文明城市创建的应有之义。

B 项错误，不将占道经营、马路市场、流动商贩列为文明城市测评考核内容，释放出升级“地摊经济”的积极信号，有助于激发市场活力，对于保障民生、促进就业、刺激居民消费和经济恢复具有重要意义；但如果任由摊贩占道经营、马路市场、流动商贩野蛮生长，也会妨碍城市卫生和市容市貌，影响交通秩序和安全，因此这一政策对城市治理也提出了更高要求。

C 项错误，不将占道经营、马路市场、流动商贩列为文明城市测评考核内容，这是放开“地摊经济”的一个

明确信号，但是放开不等于放任，完全放任不管、任其发展是对政策的曲解。既要放开地摊经济，也要尽力规避其带来的不良影响，这就需要有关部门进一步制定放开细则，精准实施，比如，在哪些路段、什么时间允许摆摊，市场卫生维护等都要规定得清清楚楚、明明白白，既要明确管理部门的责任，也要明确经营者的责任，促使地摊经营者依法守规经营。

D项正确，文明城市测评做“减法”，对于保障民生、促进就业、刺激居民消费和经济恢复具有重要意义，但同时也必然会给城市治理增加难度、带来挑战。这就要求政府部门敢于给自己添麻烦，善于在城市治理上做“加法”，用高效能城市治理为地摊经济赋能，也为底层人民带来温暖，为城市注入温情。

故正确答案为D。

6.正确答案是：D

解析

本题考查道德。

题干句子意为：有些君子遵循中庸之道行事，但往往半路上终止，我是不会中途停止的。比喻做事情有始有终，不半途而废。

A项错误，小田任劳任怨，认真负责，主要体现了爱岗敬业的职业道德。

B项错误，小钱钻研业务，提升工作技能，主要体现了爱岗敬业的职业道德。

C项错误，老马办事公道，被乡亲们称为“一杆秤”，主要体现了办事公道的职业道德。

D项正确，老牛从没有因个人原因耽误过工作，说明老牛办事有始有终，体现了题干主张。

故正确答案为D。

7.正确答案是：A

解析

本题考查行政管理。

市场监管部门下发告诫函的目的是规范商家的经营行为，主要是提醒企业不得哄抬价格、囤积居奇，不得相互串通，操纵市场价格，不得限制生产销售数量，分割市场，损害其他经营者或者消费者的合法权益。

故正确答案为A。

8.正确答案是：D

解析

本题考查马克思主义哲学。

A项错误，线性思维是一种直线的、不变的、单一的、单维的思维方式，一切都随着初始条件的给定而给定。

B项错误，形象思维方法是指直接将眼睛看到的图画、耳朵听到的声音、鼻子嗅到的气味、舌头品到的口味、皮肤碰到的触觉这些感知形象记忆在头脑中的一种方法。

C项错误，直觉思维方式，是指对一个问题未经逐步分析，仅依据内因的感知迅速地对问题答案作出判断、猜想、设想，或者在对疑难百思不得其解之中，突然对问题有“灵感”和“顿悟”，甚至对未来事物的结果有“预感”“预言”等。

D项正确，辩证思维方式，是根据客观事物自身的辩证本质进行思维与分析的科学方法。辩证法把客观世界的各种事物和现象，看作是普遍联系和永恒变化着的，并把世界的发展变化看成是自身所固有的各种矛盾发展变化的结果。“道生一，一生二，二生三，三生万物”表示“道”生万物从少到多，从简单到复杂的一个过程，体现的是辩证思维方式。

故正确答案为D。

9.正确答案是：A

解析

本题考查文学常识。

A项正确，《橘颂》的作者是屈原，是一首咏物抒情诗。诗人用拟人的手法塑造了橘树的美好形象，从各个侧面描绘和歌颂，橘树的形象是诗人用以激励自己坚守节操的榜样。

B项错误，《蜀道难》是中国唐代大诗人李白的代表作品。再现了蜀道峥嵘、突兀、强悍、崎岖等奇丽惊险和不可凌越的磅礴气势，借以歌咏蜀地山川的壮秀。

C项错误，《新婚别》是唐代诗人杜甫创作的新题乐府组诗“三吏三别”之一。此诗描写了一对新婚夫妻的离别，塑造了一个深明大义의少妇形象。

D项错误，《山居秋暝》是唐代诗人王维的作品。此诗描绘了秋雨初晴后傍晚时分山村的旖旎风光和山居村民的淳朴风尚，表现了诗人寄情山水田园并对隐居生活怡然自得的满足心情，以自然美来表现人格美和社会美。

故正确答案为A。

10.正确答案是：B

解析

本题考查人文历史。

三三制是中国抗日战争时期在根据地建立的抗日民主政权在人员组成上采取的制度。对于孤立顽固势力，发展进步势力，争取中间势力，打败日本侵略者发挥了重要作用。

B项正确，A、C、D项错误，根据三三制的规定，在政权机构和民意机关的人员名额分配上，代表工人阶级和贫农的共产党员、代表和联系广大小资产阶级的非党左派进步分子和代表中等资产阶级、开明绅士的中间分子各占三分之一。

故正确答案为B。

11.正确答案是：A

解析

本题考查财政政策。

A 项正确，财政部印发的《关于支持金融强化服务 做好新型冠状病毒感染肺炎疫情防控工作的通知》中明确对 2020 年新增的疫情防控重点保障企业贷款，在人民银行专项再贷款支持金融机构提供优惠利率信贷的基础上，中央财政按人民银行再贷款利率的 给予贴息，贴息期限不超过 1 年。这属于财政政策。免收担保费则是指贷款所需的担保费用也予以免除，同样属于财政手段。

B 项错误，降低暂时性生产经营困难企业复工复产申请的审批门槛是对受到疫情冲击企业的支持政策，属于行政手段，但并非财政支持政策。

C 项错误，下调工业生产的水价、气价和打折收取企业物流的货车通行费，水价、气价和通行费是由物价局和发改委核定价格，因此属于采用行政手段调整物价水平，属于行政手段。

D 项错误，根据中国政府网发展改革委等 8 部门发表的权威回应：“对承租国有房屋（包括国有企业和政府部门、高校、科研院所等行政事业单位房屋）用于经营、出现困难的服务业小微企业和个体工商户，免除上半年 3 个月房屋租金。转租、分租国有房屋的，要确保免租惠及最终承租人。承租非国有房屋，鼓励出租人考虑承租人实际困难，在双方平等协商的基础上，减免或延期收取房屋租金。”故国家对承租国有房屋从事生产经营、出现困难的企业免除上半年 3 个月房屋租金。D 项不是政府的强制性要求，只是鼓励和宣传业主减免租金，且钱不是政府支出，不属于财政政策。

故正确答案为 A。

12. 正确答案是：A

解析

本题考查时政。

习近平总书记对海南自由贸易港建设作出重要指示，中共中央、国务院印发《海南自由贸易港建设总体方案》。

A 项正确，海南有 940 万居民，中央充分考虑到了人民的日常消费，以正面清单的方式，允许岛内居民免税购买进境商品，在全力推进自贸港建设的同时，让建设成果切实惠及人民。同时，个人每年离岛免税购物额度提高至 10 万元，在当前国家疫情防控进入常态化的情况下，海南可以依靠离岛免税购物的政策，将中国人民在海外“买买买”花掉的真金白银引流回海南，这不仅可以促进海南的旅游消费，打造国际旅游消费中心，同时还可以刺激海南进出口货物贸易发展。

B、C 项错误，海南自由贸易港实行“非禁即入”，除非有强制性的标准和法律的禁止，原则上政府取消许可和审批，对企业实行备案制、承诺制，承诺符合条件就可以开展业务。对货物贸易，实行以“零关税”为基本特征的自由化便利化制度安排；对服务贸易，实行以“既准入又准营”为基本特征的自由化便利化政策举措等。这是针对企业的，并非个人的。

D项错误，海南自贸港建设一定会守住生态底线，不管项目有再多的GDP、再多的税收，只要对环境造成影响和破坏的，都坚决不要，这不是对个人最直接的红利。

故正确答案为A。

13. 正确答案是：A

解析

本题考查行政法。

A项正确，企业可以为特定的公益目的而设立基金会。

B、D项错误，根据《慈善法》第二十三条规定：“开展公开募捐，可以采取下列方式：（一）在公共场所设置募捐箱；（二）举办面向社会公众的义演、义赛、义卖、义展、义拍、慈善晚会等；（三）通过广播、电视、报刊、互联网等媒体发布募捐信息；（四）其他公开募捐方式。慈善组织采取前款第一项、第二项规定的方式开展公开募捐的，应当在其登记的民政部门管辖区域内进行，确有必要在其登记的民政部门管辖区域外进行的，应当报其开展募捐活动所在地的县级以上人民政府民政部门备案。捐赠人的捐赠行为不受地域限制。慈善组织通过互联网开展公开募捐的，应当在国务院民政部门统一或者指定的慈善信息平台发布募捐信息，并可以同时在其网站发布募捐信息。”

C项错误，《红十字会法》第十八条规定：“国家对红十字会兴办的与其宗旨相符的公益事业给予扶持。”

故正确答案为A。

14. 正确答案是：D

解析

本题考查法理学。

A项正确，铸刑书于鼎，刻汉谟拉比法典于石碑，说明将法律作为治理的重器，说明法律的重要地位。

B项正确，铸刑书于鼎，刻汉谟拉比法典于石碑，都是将法律向百姓公布，国家的治理透明度大大增加，让百姓知道哪些可为，哪些不可为。

C项正确，铸刑书于鼎，刻汉谟拉比法典于石碑，都是将法律成文化，将行为规则和成文法律正式分开，避免朝令夕改，保持法律的稳定性。

D项错误，子产铸刑书、汉谟拉比法典都是体现的统治阶级的意志，这是当时社会性质决定的，并没有体现民众的意志。

本题为选非题，故正确答案为D。

15. 正确答案是：C

解析

本题考查民法。

A项正确，根据中华人民共和国环境保护部《环保举报热线工作管理办法》规定：“公民、法人或者其他组

织通过拨打环保举报热线电话，向各级环境保护主管部门举报环境污染或者生态破坏事项，请求环境保护主管部门依法处理”。故小王可以拨打 12369 环境保护举报热线对该商场就噪音污染等进行投诉。

B 项正确，商场设置的显示屏严重影响小王的正常休息是对小王的人身健康损害，侵犯了小王的健康权。根据《中华人民共和国民事诉讼法》第三条规定：“人民法院受理公民之间、法人之间、其他组织之间以及他们相互之间因财产关系和人身关系提起的民事诉讼，适用本法的规定”，故小王可以向法院提起民事侵权诉讼。

C 项错误，根据《中华人民共和国民事诉讼法》第五十五条规定：“对污染环境、侵害众多消费者合法权益等损害社会公共利益的行为，法律规定的机关和有关组织可以向人民法院提起诉讼。人民检察院在履行职责中发现破坏生态环境和资源保护、食品药品安全领域侵害众多消费者合法权益等损害社会公共利益的行为，在没有前款规定的机关和组织或者前款规定的机关和组织不提起诉讼的情况下，可以向人民法院提起诉讼。前款规定的机关或者组织提起诉讼的，人民检察院可以支持起诉。”可见，个人不是法律规定的提起公益诉讼的主体，而且就题干的描述并不涉及损害社会公共利益的行为。

D 项正确，根据《政府信息公开条例》第二十条规定：“行政机关应当依照本条例第十九条的规定，主动公开本行政机关的下列政府信息：……（十三）环境保护、公共卫生、安全生产、食品药品、产品质量的监督检查情况；……”建设项目环境影响报告书以及报告表的全本（除涉及国家秘密和商业秘密等内容外）属于环保部门主动公开的内容。故小王可以向环保部门申请公开该商场的环评报告，维护自身知情权。

本题为选非题，故正确答案为 C。

16. 正确答案是：B

解析

根据提问方式可知，本题为接语选择题，重点关注文段尾句。文段尾句围绕在面对突发公共卫生事件时，是否能够符合法治要求以及应该如何符合法治要求进行论述，并且告诉大家这是重要的理论和实践问题。既然是否以及如何符合法治要求很重要，故后文应与尾句核心话题一致，接下来应该具体介绍到底需要遵循哪些法治原则，对应 B 项。

A、C、D 三项均未体现“如何符合法治要求”这一核心话题，排除。

故正确答案为 B。

【文段出处】《应对突发公共卫生事件的法治原则与法理思维—摘要》

17. 正确答案是：C

解析

A 项，根据文段“理定而后辞畅”可知，言之成理才能言辞畅达，符合文意，排除；

B 项，根据文段“情者文之经，辞者理之纬；经正而后纬成，理定而后辞畅”可知，情理是文章的经线，文词是情理的纬线；经线端正了纬线才织得上去，情理确定了文词才会畅达，即情理要兼具，符合文意，排除；

C 项，根据首句“‘情者文之经……’又何尝不是语言的真义”可知，语言的真义在于情理兼具，而非“历久弥新”，

表述错误，当选；

D项，根据文段“有了真情的贯注，那么语言和作品就都有了永不枯竭的活力，可以抵御时光而历久弥新”可知，贯注真情对语言来说十分重要，符合文意，排除。

本题为选非题，故正确答案为C。

【文段出处】《善用语言的力量》

18. 正确答案是：D

解析

文段开篇通过“研究证实”引出“80%以上的高血压患者存在其他危险因素”，随后通过程度词“最”强调“血脂异常”这种危险因素最常见。接下来论述“血糖升高会引起一系列代谢紊乱及血管壁增厚……就容易造成高血脂”，即血脂异常的诱因，以及血脂异常会“增加心血管疾病风险”，引发疾病。接着通过“此外”表并列，“长期吸烟、酗酒也会改变血脂构成”依然在论述血脂异常的诱因，后文“促进了动脉粥样硬化、心梗和脑梗的发生和发展”论述血脂异常引发的疾病。文段通过“此外”构成并列结构，前后均在论述各种导致血脂异常的因素，及出现血脂异常后引发的相关疾病，并列结构需全面概括提取共性，对应D项。

A项，未涉及诱发血脂异常因素的部分，表述片面，且关系表述不明确，应为“血脂异常引发相关疾病的发生”。

B、C两项，不包含主题词“血脂异常”，排除。

故正确答案为D。

【文段出处】《我国血脂异常人数已超4亿，科学调脂不容忽视》

19. 正确答案是：C

解析

文段开篇指出“唐诗是……一座高峰，宋代诗人的目标是走出唐诗的巨大光环”，之后通过“所以”得出结论“宋诗的任何创新都是以唐诗为参照对象，目标是在唐诗的境界之外另辟新境”，最后通过“从内容而言”具体阐述了宋诗是怎么创新的。故文段重点是“所以”引导的结论，强调宋诗的目标是在唐诗的境界之外有创新，对应C项。

A项，“已超越唐诗”文段未提及，无中生有，排除。

B项，“难在诗歌艺术方面超越唐诗”与文意相悖，文段指出宋诗要深挖内容，并非完全难以超越，排除。

D项，文段论述宋诗的创新以唐诗为参照对象，但并不等同“不得不参考唐诗”，程度过重，排除。

故正确答案为C。

【文段出处】《关于“会通唐宋”的简单思考》

20. 正确答案是：D

解析

文段开篇引出话题，指出科学技术能量大，把控不好危险日益加剧，如果不约束，科学技术就会出现问

随后通过程度词“特别是”，强调“前沿科技迅猛发展的同时也突破着人类伦理底线和价值尺度”这一具体问题，最后通过“亟待”引出对策“要让科学始终向善”，并且在尾句通过“加强科技伦理制度化建设，推动科技伦理规范全球治理，已成为全社会的共同呼声”，强调具体如何引导科学技术向善，即要加强科技伦理方面的建设治理，对应 D 项。

A 项，“可能造福”、“可能破坏”对应文段开篇引出话题，非重点部分，文段重点是对策，排除。

B 项，“带来了伦理困扰”为问题表述，文段重点是对策，排除。

C 项，“不能放任”表述不明确，应当通过加强科技伦理制度建设来让科学向善，排除。

故正确答案为 D。

【文段出处】《科技伦理的底线不容突破》

21. 正确答案是：C

解析

第一空，搭配“气候条件”。

A 项，“不可多得”形容非常稀少，很难得到（多指人才或稀有物品），搭配不当，排除；

B 项，“风调雨顺”形容风雨适合农作物生长，也可比喻天下安宁，如“风调雨顺，五谷丰登”，一般单独使用，不搭配“气候条件”，排除；

C 项，“得天独厚”指独具特殊的优越条件，符合文意，保留；

D 项，“相辅相成”指两件事物互相配合，互相补充，缺一不可，文段并无缺一不可之意，而且一般表述为“……与……相辅相成”，排除。

验证第二空，C 项“顺应”指顺着某种趋势，“顺应地形”指依靠地形衍生，符合文意，当选。

故正确答案为 C。

【文段出处】《贵州黔东南传统村落原真性保护与营造》

22. 正确答案是：A

解析

第一空，根据转折词“但”可知，横线处所填词语与后文语义相反。后文“必然能走出康庄大道”说明科技评价体系前方是宽阔平坦的大路，前途光明美好，故横线处需体现出道路曲折艰辛之意。

A 项，“任重道远”指担子很重，路程遥远。比喻责任重大，需要经过长期的艰苦奋斗，保留；

B 项，“艰难险阻”指前进道路上的困难、危险和障碍，为名词，用在此处句子缺少成分，缺少谓语动词，常表述为“面对艰难险阻”、“充满艰难险阻”，用法错误，排除；

C 项，“筚路蓝缕”形容创业艰苦，文段未提及创业，排除；

D 项，“云遮雾罩”指云雾遮挡视线，看得很模糊，体现不出道路艰难曲折之意，排除。

验证第二空，A 项“破旧立新”指破除旧的，建立新的，对应后文“自我变革”，符合文意，当选。

故正确答案为 A。

【文段出处】《评价与时俱进 科研回归初心》

23. 正确答案是：A

解析

第一空，横线搭配“共同意愿”，根据前文“相关的数据具有公共产权属性”可知，数据开放是符合社会期望的。

A 项，“基于”指根据、由于、在……基础之上；B 项，“出于”指从某角度出发；C 项，“反映”比喻从客观事物的实质表现出来；D 项，“因应”指适应、顺应或采取措施应付，均可搭配“共同意愿”，且可体现“物联网数据开放”是“全社会的共同意愿”之意。

第二空，横线搭配“商业价值”，根据横线前后内容可知，横线处应表达“商业价值”和“社会效益”二者要同时考虑到。

对应 A 项“兼顾”，指在同一个时间考虑到两个或更多的事情，符合文意，当选。B、C、D 三项均无法体现出同时照顾到两方面的意思，排除。

验证第三空，A 项“考量”对应前文“也要考虑公民的全体福祉”，验证无误。

故正确答案为 A。

24. 正确答案是：B

解析

第一空，根据转折前后语义相反，横线应体现与单调的传统社会相反的夜间文化生活。

B 项，“多姿多彩”指丰富多彩；C 项，“五彩缤纷”指色彩繁多，均可以形容文化生活丰富多彩，保留。

A 项，“美不胜收”指美好的东西多，一时接收不过来；D 项，“琳琅满目”同样指美好的事物多，常用于商品或工艺品，A、D 两项均不能搭配文化生活，排除。

第二空，搭配“《韩熙载夜宴图》”，体现夜宴图对风雅场面的展示。

对应 B 项“直观”，符合画作直接明了展示的特点，让人们可以直接观察到。C 项“精准”，强调非常精确、准确，一般用来形容时间、空间位置、对准目标时的准确无误，无法体现画作让人们可以直接观察到的特点，排除。

第三空，验证 B 项，“高品质的文化生活”，常见搭配，当选。

故正确答案为 B。

【文段出处】《夜经济更需要文化支撑》

25. 正确答案是：D

解析

第一空，根据“是……而不是……”构成反义并列，横线处所填词语要跟后文语义相反，后文提到“骤然变革”，

指时间较短、速度较快，故横线处应体现过程较慢。

A项“缓慢”、D项“漫长”都可体现过程慢，保留；B项“久远”指长久，如“年代久远”，与“过程”搭配不当，排除；C项“悠长”形容深长，也指声音徐缓持久，与“过程”搭配不当，排除。

第二空，搭配“骤然变革”，需体现变革速度之快。

A项“突如其来”形容出乎意料地突然发生，侧重于出人意料，与文意不符，排除；D项“一蹴而就”表示一下子就能完成，强调完成速度快，当选。

验证第三空，“观点得到了证实”符合文意，当选。

故正确答案为D。

【文段出处】《中国农业起源研究的新思考和新发现》

26. 正确答案是：A

解析

第一步：先确定最为明显的逻辑顺序。

观察题干，发现题干是围绕“王徽之找好友的事件”展开的。逻辑关系比较明显的是②和④，先“王徽之想起了好友戴逵”，再“连夜乘舟去拜访”，④在②之前，且因为在交代背景，故④应该放在首句，排除B、D两项。

第二步：逐一对照选项并判断正确答案。

根据第一步的结果可以判断A、C两项符合，通过分析事件①和⑤可知，先“有人问原因”，再“王徽之回答”，故①应该在⑤之前，且二者应挨着，排除C项。

故正确答案为A。

27. 正确答案是：B

解析

第一步：先确定逻辑关系最为明显的逻辑顺序。

观察题干，发现题干是围绕“孙教授做报告”展开的。逻辑关系比较明显的是①和④，先“孙教授受邀给S县骨干教师作报告”，再“乘坐长途汽车去了S县城”，④在①之前，排除C、D两项。

第二步：逐一对照选项并判断正确答案。

根据第一步的结果可以判断A、B项符合，通过分析事件①和⑤可知，先“坐长途汽车去了S县城”，再“乘出租车到了S县实验中学”，故①应该在⑤之前，排除A项。

故正确答案为B。

28.

正确答案是：C

解析

第一步：先确定逻辑关系最为明显的逻辑顺序。

观察题干，发现题干是围绕“政府帮助群众解决交通问题”展开的。逻辑关系比较明显的是②和⑤，先“交通不便”，再“政府出资”，②在⑤之前，排除 A、B 两项。

第二步：逐一对照选项并判断正确答案。

根据第一步的结果可以判断 C、D 两项符合，通过分析事件①和⑤可知，先“了解民情”知道了问题和优势，再“政府出资”解决，故①应该在⑤之前，排除 D 项。

故正确答案为 C。

29. 正确答案是：A

解析

第一步：先确定逻辑关系最为明显的逻辑顺序。

观察题干，发现题干是围绕“发现古莲子”展开的。逻辑关系比较明显的是①和②，先“圆明园考古发掘出 11 颗古莲子”，再“游客蜂拥而至，观赏古莲开花”，②在①之前，排除 B、D 两项。

第二步：逐一对照选项并判断正确答案。

根据第一步的结果可以判断 A、C 两项符合，通过分析事件①和⑤可知，先“中科院植物研究所对古莲子进行培育”，再“游客蜂拥而至，观赏古莲开花”，故⑤应该在①之前，排除 C 项。

故正确答案为 A。

30. 正确答案是：B

解析

先确定逻辑关系最为明显的逻辑顺序。观察题干，五件事主要围绕“解决马达加斯加饥荒问题”展开。第③句“闹饥荒”是一切事件的起因，作为首句，剩下的都为围绕解决饥荒问题展开的经过和结果。观察选项只有 B 项符合。

故正确答案为 B。

31. 正确答案是：A

解析

第一步：判断题干词语间逻辑关系。

“左”与“右”构成反义关系，“顾”与“盼”构成近义关系。

第二步：判断选项词语间逻辑关系。

A 项：“冷”与“热”构成反义关系，“嘲”与“讽”构成近义关系，与题干逻辑关系一致，当选；

B 项：“天”与“地”不构成反义关系，“昏”与“暗”构成近义关系，与题干逻辑关系不一致，排除；

C 项：“早”与“晚”构成反义关系，“出”与“归”构成反义关系，与题干逻辑关系不一致，排除；

D 项：“旁”与“侧”构成近义关系，“敲”与“击”构成近义关系，与题干逻辑关系不一致，排除。

故正确答案为 A。

32. 正确答案是：A

解析

第一步：判断题干词语间逻辑关系。

“淡”字有多种释义。“淡墨”中的“淡”指的是液体或气体中所含的某种成分少，稀薄（与“浓”相对）；“淡季”中的“淡”指的是营业不旺盛。后两个词语分别取了第一个词的不同释义。

第二步：判断选项词语间逻辑关系。

A项：“热点”指的是某时期引人注目的地方或问题，故“热点”中的“热”指的是受很多人欢迎的；“热带”中的“热”指的是温度高（与“冷”相对）。后两个词语分别取了第一个词的不同释义，与题干逻辑关系一致，当选；

B项：“美貌”和“美名”中的“美”指的均是好的（与“丑”相对），与题干逻辑关系不一致，排除；

C项：香料是指能被嗅觉嗅出香气或被味觉尝出的香味的物质，故“香料”和“香水”中的“香”指的均是（气味）好闻，与题干逻辑关系不一致，排除；

D项：“贵宾”和“贵族”中的“贵”指的均是地位优越，与题干逻辑关系不一致，排除。

故正确答案为A。

33. 正确答案是：D

解析

第一步：判断题干词语间逻辑关系。

“不以规矩”是“不成方圆”的充分条件。

第二步：判断选项词语间逻辑关系。

A项：“不以为耻”不是“反以为荣”的充分条件，二者为并列关系，与题干逻辑关系不一致，排除；

B项：“不以物喜”不是“不以己悲”的充分条件，二者为并列关系，与题干逻辑关系不一致，排除；

C项：“不求有功”不是“但求无过”的充分条件，二者为并列关系，与题干逻辑关系不一致，排除；

D项：“不经一事”是“不长一智”的充分条件，与题干逻辑关系一致，当选。

故正确答案为D。

34. 正确答案是：D

解析

第一步：判断题干词语间逻辑关系。

音乐教师和美术教师为并列关系中的反对关系，都是教师的一种。

第二步：判断选项词语间逻辑关系。

A项：中国厨师和法国厨师为并列关系中的反对关系，都是厨师的一种，与题干逻辑关系一致，保留；

B项：汉语课程和英语课程为并列关系中的反对关系，都是课程的一种，与题干逻辑关系一致，保留；

C项：综合医院和专科医院是并列关系中的矛盾关系，都是医院的一种，与题干逻辑关系不一致，排除；

D项：刑事律师和民事律师是并列关系中的反对关系，都是律师的一种，与题干逻辑关系一致，保留。

比较A、B、D三项，题干中都是对于人的职业的划分，排除B项；且题干是根据职业的不同专业领域划分的，A项是根据地域划分的，D项是根据专业领域划分的，故D项与题干关系更一致。

故正确答案为D。

35.正确答案是：C

解析

第一步：判断题干词语间逻辑关系。

b是a的一种，二者为种属关系。

第二步：判断选项词语间逻辑关系。

A项：太阳系是银河系的组成部分，二者为组成关系，与题干逻辑关系不一致，排除；

B项：北京市是直辖市，二者为种属关系，但顺序与题干相反，与题干逻辑关系不一致，排除；

C项：中国是亚洲人，二者为种属关系，与题干逻辑关系一致，当选；

D项：锂电池是电动车的组成部分，二者为组成关系，与题干逻辑关系不一致，排除。

故正确答案为C。

36.正确答案是：B

解析

第一步：判断题干词语间逻辑关系。

a和b为交叉关系，a和c为交叉关系，b是c的一种，二者为种属关系。

第二步：判断选项词语间逻辑关系。

A项：古代小说、长篇小说和武侠小说两两交叉，与题干逻辑关系不一致，排除；

B项：程序员和文艺青年为交叉关系，程序员和青年为交叉关系；文艺青年是青年的一种，二者为种属关系，与题干逻辑关系一致，当选；

C项：鱿鱼是软体动物，和哺乳动物无关，与题干逻辑关系不一致，排除；

D项：蔬菜和水果是并列关系，与题干逻辑关系不一致，排除。

故正确答案为B。

37.正确答案是：A

解析

第一步：判断题干词语间逻辑关系。

a和b为并列关系，c是b的一种，二者为种属关系。

第二步：判断选项词语间逻辑关系。

A项：会计师和审计师为并列关系，女审计师是审计师的一种，二者为种属关系，与题干逻辑关系一致，

当选；

B项：高山和大海为并列关系，海水是大海的组成部分，二者为组成关系，与题干逻辑关系不一致，排除；

C项：田野和建筑物不是并列关系，与题干逻辑关系不一致，排除；

D项：浙江和江苏为并列关系，南京是江苏的组成部分，二者为组成关系，与题干逻辑关系不一致，排除。

故正确答案为A。

38.正确答案是：D

解析

第一步：判断题干词语间逻辑关系。

a和b为交叉关系，b和c为交叉关系，a和c为并列关系。

第二步：判断选项词语间逻辑关系。

A项：工人和工程师是两种不同职业，两者为并列关系；工程师和妇女是交叉关系；工人和妇女是交叉关系，与题干逻辑关系不一致，排除；

B项：诗人、书法家、歌手两两交叉，与题干逻辑关系不一致，排除；

C项：选举人和儿童不是交叉关系，与题干逻辑关系不一致，排除；

D项：党员和公务员是交叉关系，党员和无党派人士是并列关系，公务员和无党派人士是交叉关系，与题干逻辑关系一致，当选。

故正确答案为D。

39.正确答案是：B

解析

元素组成不同，且无明显属性规律，优先考虑数量规律。观察发现，图形中每幅图都包含图一的直角三角形，包含的直角三角形个数分别是1、2、3、4、5、？，故？处应该选一个包含6个小直角三角形的图形，只有B项符合。

故正确答案为B。

40.正确答案是：C

解析

元素组成不同，优先考虑属性规律。将每幅图中黑球相连、白球相连，可以发现，每幅图中，二者的连线都是相互垂直的，排除A、D两项；继续观察，题干每幅图中，黑球数量等于白球数量，排除B项，只有C项符合。

故正确答案为C。

41.正确答案是：D

解析

元素组成不同，且无明显属性规律，考虑数量规律。题干出现了类似“心电图”的图形，封闭空间明显，考虑数面。题干图形面数量均为 3，排除 A、C 两项。继续观察发现，题干中直线的倾斜方向不同，图 1 从左下到右上倾斜，图 2 从左上到右下倾斜，方向依次交替变化，所以“？”处应为直线方向从左上到右下倾斜的图形，只有 D 符合。

故正确答案为 D。

42. 正确答案是：A

解析

元素组成不同，优先考虑属性规律。图 1 出现了等腰三角形，图 2、图 3、图 4 出现了箭头，考虑对称性。观察发现，题干图形对称轴均只有 1 条，且按照顺时针方向依次旋转 45° ，只有 A 项符合。

故正确答案为 A。

43. 正确答案是：D

解析

元素组成不同，优先考虑属性规律。整体观察图形，等腰元素明显，优先考虑对称性。题干均为轴对称图形，排除 B 项。继续观察发现，题干图形均类似于“田”字的变形图，考虑笔画数，题干均为 2 笔画图形，排除 A 项。再观察图形，内部均有 2 条线，且两条线长度相等，只有 D 项符合。

故正确答案为 D。

44. 正确答案是：B

解析

第一步：找出论点和论据。

论点：宋代女性并未被闭锁在属于“私领域”的家内生活中，而是拥有多种权利和自由，和男性一起承担家庭、国家和社会的各种责任。

论据：宋代福建地区大户人家的女性已能乘轿出行，打破儒家伦理对她们的许多禁锢，拥有了自己应有的社会活动空间。

论点讨论的是宋代女性的权利自由和承担的社会责任，论据讨论的是宋代女性有自己的社会活动空间，话题不一致，考虑拆桥。

第二步：逐一分析选项。

A 项：论点讨论的是宋代女性有了权利和自由，该项说的是社会地位决定中国古代女性的权利和自由，话题不一致，无法削弱，排除；

B 项：选项强调公共生活中的活跃不能证明该群体有权利和自由，那么就不能通过论据中宋代女性有了社会活动的空间，得到论点宋代女性有了权利和自由，拆断了论点和论据之间的联系，为拆桥项，当选；

C 项：论点讨论的是宋代女性有了权利和自由，该项说的是宋代女性的权利和自由没有被承认，话题不一

致，无法削弱，排除；

D项：论点讨论的是宋代女性有了权利和自由，该项说的是宋代精英士绅对女性务实的态度，话题不一致，无法削弱，排除。

故正确答案为B。

45.正确答案是：B

解析

题干信息不确定，优先考虑代入法。

代入A项，小红前半句错，后半句对；小丽前半句对，后半句也对，和题干要求一半对、一半错矛盾，排除；

代入B项，小红前半句对，后半句错；小丽前半句错，后半句对；小明前半句对，后半句错，符合题干要求，当选；

代入C项，小红前半句对，后半句对，和题干要求一半对、一半错矛盾，排除；

代入D项，小红前半句错，后半句错，和题干要求一半对、一半错矛盾，排除。

故正确答案为B。

46.正确答案是：C

解析

第一步：找出论点和论据。

论点：这种做法（植物被中国文人寄托了许多优美的品德与节操）让植物的象征意义压抑了植物的自然意义，严重干扰了人们对于植物自然属性的认识。

论据：无。

本题只有论点，没有论据，优先考虑采用补充论据的方式加强论点。

第二步：逐一分析选项。

A项：该项说的是《诗经》写了很多植物，且今天我们身边很多人叫不出植物的名字，但如何描写我们并不确定，是否这些植物被寄予了象征意义并不明确，无法加强，排除；

B项：论点说的是赋予植物象征意义会干扰人们对于植物自然属性的认识，该项说的是一些外来作物很少受到称颂，话题不一致，无法加强，排除；

C项：该项说的是“竹”被寄托了“谦谦君子”这样的象征意义，让人忽略了它自然属性，竹鞭四处蔓延侵略其他植物，说明植物的象征意义确实干扰了人们对于植物自然属性的认识，补充论据，当选；

D项：俄罗斯文学作品能否让读者认识到植物的自然属性和我国的情况无关，无法加强，排除。

故正确答案为C。

47.正确答案是：D

解析

题干信息不确定，采用代入法，将选项逐一代入验证。

代入 A 项，小亮住在李村，则他说的是真话，小星应该住在王村，但该选项中小星住在江村，与题干信息矛盾，排除；

代入 B 项，小星住在李村，则他说的是真话，其余两人的话均为假话；通过条件（1）为假可知，小亮既不住在李村也不住在江村，但该选项中小亮住在江村，与题干信息矛盾，排除；

代入 C 项，小天住在李村，则他说的是真话，其余两人均为假话。小天说真话，结合条件（1）可知小亮应该住在李村或者江村，该选项中小亮住在江村，剩余小星应住在王村，与条件（2）小亮的话为假相矛盾，排除；

代入 D 项，小星住在李村，则他说的是真话，其余两人的话均为假话；通过条件（1）为假可知，小亮既不住在李村也不住在江村，条件（2）为假可知小星不住王村；所以小亮住在王村，小天住在江村，与题干信息一致，当选。

故正确答案为 D。

48. 正确答案是：B

解析

第一步：找出论点和论据。

论点：学校会谨慎甚至限制使用人脸识别技术，这项技术不会有较大的校园市场。

论据：无。

本题只有论点，没有论据，优先考虑采用补充论据的方式加强论点。

第二步：逐一分析选项。

A 项：论点说的是学校会不会使用人脸识别技术，该项说的是学生、老师和家长重视教学效果，话题不一致，无法加强，排除；

B 项：该项说的是人脸识别技术会侵犯学生隐私权，那么学校可能会因为保护学生隐私而限制使用，保留；

C 项：该项说的是人脸识别不能实质改善教学效果，也就是说该技术不能给学校和学生带来实质好处，那么学校也可能会谨慎使用，保留；

D 项：该项说的是人脸信息收集与储存目前存在安全隐患，而论点讨论的是对未来的预测，并不明确未来的安全隐患问题，不明确选项，无法加强，排除。

对比 B、C 两项，题干论点明确指出“谨慎甚至限制使用”，只有 B 项提到了“侵犯隐私”，更符合题干论点的“限制”；而 C 项说的是教学效果，与“限制”无关，对比择优，排除 C 项。

故正确答案为 B。

附：通过查证原文，本题答案为 B 项。

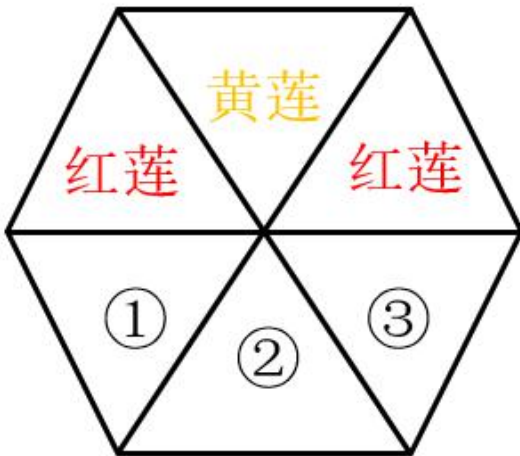
近日，某大学在部分教室“试水”人脸识别系统，该系统不但可以识别每个进出教室的学生，自动签到签退，还能识别学生发呆、打瞌睡、玩手机等行为。有网友认为，该系统在校园广泛应用或涉嫌“侵犯隐私”。

雷朝滋指出，人脸识别进校园，既有数据安全也有个人隐私问题，“教育部已经在开始关注这个事情，组织专家论证研究。”“包含学生的个人信息都要非常谨慎，能不采集就不采。能少采集就少采集，尤其涉及到个人生物信息的。”雷朝滋谈到。

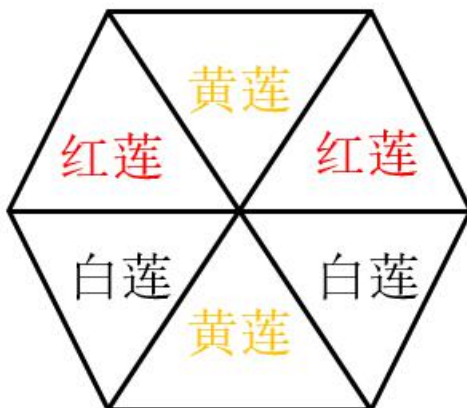
49. 正确答案是：A

解析

由确定信息入手，将条件（2）两个红莲中间隔着一个黄莲，填入表格：



此时还有一个黄莲，若黄莲种植在①号，则②③都种植白莲，与题干条件（1）每种莲花彼此不相邻矛盾；若黄莲种植在③号，则①②都种植白莲，与题干条件（1）每种莲花彼此不相邻矛盾；故黄莲只能种植在②号，则①③种植白莲；



故正确答案为 A。

50. 正确答案是：B

解析

分析题干。

- (1) 中年人：张军、王刚、李伟、蒋松；年青人：赵新、钱芳、朱海、程明；中青搭配，各选一村；
- (2) 张军去北山村，赵新去南江村；
- (3) 钱芳东坡村或钱芳南江村；
- (4) 王刚西河村→朱海西河村；
- (5) 钱芳东坡村→程明西河村。

由确定信息入手，已知条件(2)张军去北山村，赵新去南江村，赵新与钱芳均为年青人，不能去同一个地方，因此钱芳不去南江村，结合条件(3)得到钱芳去东坡村，再结合条件(5)得到程明去西河村；又因程明与朱海均为年青人，不能去同一个地方，因此朱海不能去西河村，结合条件(4)得到王刚不去西河村，结合程明去西河村，最终得出王刚和程明没有结伴。

故正确答案为 B。

51. 正确答案是：B

解析

观察数列，无明显特征，考虑作差，作差之后得到-3，6，-12，24，为以-2为公比的等比数列，推出下一项为-48，故所求项为 $19-48=-29$ 。

故正确答案为 B。正确答案是：D

解析

观察数列，存在倍数关系，考虑作商，得到 $-\frac{4}{3}, -\frac{1}{3}, \frac{2}{3}, \frac{5}{3}$ ，为以1为公差的等差数列，推出下一项为 $\frac{8}{3}$ ，

故所求项为 $\frac{10}{9} \times \frac{8}{3} = \frac{80}{27}$ 。

故正确答案为 D。

53. 正确答案是：A

解析

观察数列，无明显特征，考虑作差，作一次差之后得到新数列1，7，16，28，（ ），仍然无明显特征，再作一次差得到6，9，12，为以3为公差的等差数列，推出下一项为15，上一级数列（ ）处应为 $15+28=43$ ，故所求项为 $43+52=95$ 。

故正确答案为 A。

54. 正确答案是：C

解析

题干和选项大多数是分数，特征明显，是分数数列。观察数列，将1反约分成 $\frac{1}{1}$ 后，后一项的分子是由前一

项的分子和分母做乘法得到的，后一项的分母是由前一项的分子和分母做加法得到的。所求分数的分子为

$30 \times 11 = 330$ ，分母为 $30 + 11 = 41$ ，故所求项为 $\frac{330}{41}$ 。

故正确答案为 C。

55. 正确答案是：C

解析

方法一：观察数列，发现题干数字可转化成幂次数，通过幂次数列修正寻找规律。原数列每一项可表示成幂次数列， $1^3 - 10, 2^3 - 10, 3^3 - 10, 4^3 - 10, 5^3 - 10$ ，下一项为 $6^3 - 10$ ，故所求项为 $6^3 - 10 = 206$ 。

方法二：若未发现幂次特征，可考虑按无特征数列处理，优先考虑多级数列。作差后得到新数列 7, 19, 37, 61, ()，新数列无明显规律，二次作差得到 12, 18, 24，是一个公差为 6 的等差数列，下一项应为 30，新数列 () 处应为 $60 + 30 = 91$ ，所求项为 $115 + 91 = 206$ 。

故正确答案为 C。

56. 正确答案是：D

解析

根据题干“2020 年一季度，我国……同比增速为”，判定此题为一般增长率问题。定位文字材料可知，2020 年一季度，我国农林牧渔业实现总产值 18193 亿元，比上年同期增加 2915 亿元，根据增长率 $= \frac{\text{增长量}}{\text{基期量}} = \frac{2915}{18193 - 2915} = \frac{2915}{15278} \approx 20\%$ ，最接近 D 项。

故正确答案为 D。

57. 正确答案是：B

解析

根据题干“下列图形能反映 2018 年一季度至 2020 年一季度牧业总产值变动态势的是”，判定此题为简单计算问题。定位表格材料，可知 2018 年一季度至 2020 年一季度牧业总产值分别为 7231、5240、6828、9398、6961、5894、7658、12551、9533，可知 2018 年第二季度相比第一季度下降，结合选项排除 A、C、D 项。

故正确答案为 B。

58. 正确答案是：B

解析

根据题干“2018 年一季度至 2020 年一季度，农业总产值占当季农林牧渔业总产值的比重超过 50% 的有”，判定此题为现期比重问题。农业占当季农林牧渔业总产值的比重大于 50%，只需农业总产值 > 林牧渔业总产值的合计。

定位表格材料可知，2018 年一季度至 2020 年一季度，各个季度农业总产值 > 林牧渔业总产值的有：

2018 年二季度， $12880 > 1385 + 5240 + 2466 = 9000^+$ ；

2018 年三季度 $19260 > 1158 + 6828 + 2936 = 11000^-$;

2018 年四季度 $24459 > 2125 + 9398 + 4574 = 16000^+$;

2019 年二季度 $14339 > 1461 + 5894 + 2609 = 10000^-$;

2019 年三季度 $20783 > 1204 + 7658 + 3073 = 12000^-$;

2019 年四季度 $25646 > 2296 + 12551 + 4687 = 20000^-$ 。

共有 6 个季度满足题目要求。

故正确答案为 B。

59. 正确答案是: C

解析

根据题干“……季平均增加量是……”，判定本题为季均增长量的计算问题。定位表格，渔业产值，2019 年一季度和 2019 年四季度渔业总产值分别为 2203 亿元和 4687 亿元，则题目所求季平均增加量为 $\frac{4687 - 2203}{3} = 828$ 亿元。

故正确答案为 C。

60. 正确答案是: C

解析

(1) 定位表格，2020 年一季度渔业总产值为 2157 亿元，2019 年一季度渔业总产值为 2203 亿元，渔业总产值同比下降，与题中“总产值同比均有所增长”不符，错误；

(2) 定位表格，2018 年四季度农、林、牧、渔总产值数值分别为 24459、2125、9398、4574，分别高于同年其它三个季度，2019 年四季度农、林、牧、渔总产值数值分别为 25646、2296、12551、4687，分别高于同年其它三个季度，正确；

(3) 定位表格，满足“林业总产值 $<$ 农业总产值 $\times 10\%$ ”的季度有：2018 年三季度， $1158 < 19260 \times 10\% = 1926$ ；2018 年四季度， $2125 < 24459 \times 10\% = 2445.9$ ；2019 年三季度， $1204 < 20783 \times 10\% = 2078.3$ ；2019 年四季度， $2296 < 25646 \times 10\% = 2564.6$ 。有 4 个季度的林业总产值不及农业的 10%，正确。

判断正确的有 2 项。

故正确答案为 C。

参考答案（主观题部分）

问题 1

“轧神仙”活动的成功举办，体现了文旅行业在危机中求新求变，求生存求发展的转型之路，值得肯定。

具体启示如下：

一、创新传播模式。借助互联网平台，丰富活动形式和内涵，提高线上展览关注度。

二、开启直播带货模式。以市民需求和习惯为导向，推出品种多样、造型各异的个性化的产品，刺激线上线下消费，创造经济效益。

三、展现民俗底蕴。传承人直播讲解、线上教学，介绍文化产品的制作技艺、功用和使用方法。

四、激发参与热情。开通线上答题板块，内容多元，提升互动性、知识性；举办文创产品大赛，鼓励年轻设计者参与，激发设计创意，融合文化创意元素与民俗主题。

问题 2

1. 社区开展心理辅导。开通热线，安排医护人员全天在线，利用专业知识，主动贴心沟通，消除归国学子的“心理疫情”。

2. 派出所助力论文答辩。及时腾出空间，做好周到服务，营造安静环境，帮助顺利毕业。

3. 养老服务中心优化健康验证。引入健康码查验系统设备，将市民卡与健康码联通，方便老年人智能出行。

4. 交警部门推出“限时停车位”政策。试点“绿色泊位”，科学选址，完善统筹智控的配套措施，超时提醒，解决短时停车难题。

问题 3

用心服务，暖心群众

“连心才能润心，暖心凝聚民心”。这句话的意思是指要凝聚民心，拉近干群关系，必须先贴近群众，解决民众所忧、所困，让群众暖心。作为公共服务部门，该如何让群众感受到温度？


我认为，唯有心中有民，以百姓心为己心，唯有扎根基层，创新工作方法，唯有科学规划，灵活办事方式，方能贴近民心、永固民心，方能让群众过上美好的生活，有获得感、安全感和幸福感。

为民服务，关键在一个“心”字，即心有人民，以百姓心为己心，想民众之所想，解决群众难题。习近平说过“群众对美好生活的向往，就是我们的奋斗目标”，我们应该情系百姓，学习范仲淹的“先天下之忧而忧，后天下之乐而乐”；权为民用，学习周总理的情牵百姓、“俯首甘为孺子牛”；利为民谋，学习人民的好书记——“焦裕禄精神”，学习他呕心沥血为乡亲谋幸福的精神。我们应将百姓的痛点、难点和群众的困难、问题放在心中，有责任、有担当，并落实到脚下，提升能力，化解矛盾，保障群众的权利。

浸润民心，重点在一个“新”字，即与时俱进，利用互联网技术，创新工作方式，提供智能化、精细化服务。历史潮流浩浩荡荡，政府部门也应该与时偕行，做一个时代的奋进者、搏击者、创新者。正如江苏实行的“不见面审批”，创新“互联网+政务”，打造“智慧政府”，让群众少跑路，不再犯愁；又如疫情期间开通的“归鸿热线”，通过电话、微信等方式，帮助归国学子消除“心理疫情”，不再担忧；再如宁归来、掌上公交、云文化馆等的建设，整合了多部门的资源，针对性地提供服务和产品。对此，为了更好地为民服务，我们要勇立潮头，善用互联网，从而提高工作效率，让群众过上美好的生活。

凝聚民心，核心在一个“情”字，即考虑群众感受，从实际出发，做事人性化，有温度 and 人情味。试想，如果我们只是一味地推行自己的制度，方式简单、粗暴，不考虑群众感受，那么受伤的不仅仅是群众，也会让政府部门失去公信力。对此，我们要向“为博士搭建临时答辩会场”的警察学习，向“将市民卡和健康码联通，方便老年人”的街道工作人员学习，向“缓解市民短时停车难题，设立‘绿色泊位’”的交警部门学习，做到有“耳”，听取群众意见；做到有“眼”，看得全面，科学规划；做到有“爱”，爱民为民，解决群众需求。

为群众服务，我们要拿出“我将无我，不负人民”的姿态，拿出“苟日新，日日新，又日新”的心态，拿出“些小吾曹州县吏，一枝一叶总关情”的情怀，踏踏实实，勤勤恳恳，做好工作，让精细化的服务以涓涓细流之势，化作浩浩长河涌入人民群众的心窝里！



美好的事情即将发生...

something wonderful is about to happen



公考通