

2021年5月29日福建省事业单位联考
《综合基础知识》试题（网友回忆版）

公考通网校

www.chinaexam.org



公考通 APP



微信公众平台

2021年5月29日福建省事业单位联考《综合基础知识》试题（网友回忆版）

一、公共基础知识。根据题目要求，在四个选项中选出一个最恰当的答案。

1、2021年4月22日，国家主席习近平在北京以视频方式出席领导人气候峰会并发表重要讲话，首次提出“_____”重要观念，引发各界广泛关注。

- A、人类社会命运共同体
- B、人与自然生命共同体
- C、人与生态环境共同体
- D、人与社会命运共同体

2、2021年4月29日，中国空间站（ ）成功发射升空并准确进入预定轨道，这标志着我国空间站建造进入了全面实施阶段，为我国载人航天工程“三步走”战略后续任务的展开奠定了坚实基础。

- A、天和核心舱
- B、天宫空间站
- C、问天实验舱
- D、梦天实验站

3、习近平总书记在党史学习教育动员大会上号召全党同志要做到学史明理、学史增信、学史崇德、学史力行，学党史、悟思想、办实事、开新局，以昂扬姿态奋力开启全面建设社会主义现代化国家新征程，以优异成绩迎接建党一百周年，加强党史教育（ ）。

- A、是把握历史规律和大势，建设现代化强国的必然选择
- B、才能自觉抵制历史虚无主义、避免社会发展的直线论
- C、对坚定理想信念，推动经济社会发展起决定性的作用
- D、能为我们解决现代化建设中出现的问题提供根本遵循

4、有专家指出，世界经济深度调整是一个长周期。一定伴随着中国从大国走向强国的整个历史发展周期。所以中国要有长期发展的战略眼光，保持战略实力。该观点强调（ ）。

- A、重视事物的直接联系，赋予经济发展直接动力
- B、重视事物的长远联系，准确把握经济发展趋势
- C、把握事物的主观联系，积极探索经济发展新思路
- D、把握事物的内部联系，用中国发展刺激世界发展

5、重塑一个更有效、更健康的全球卫生治理体系，不仅呼吁人道主义精神和国际上的互助帮扶，也需要真正梳理人类命运共同体的意识，用更加包容、公平与可持续的国际政治经济体系夯实全球卫生合作的基础。该认识主要体现了（ ）。

- A、事物普遍联系的观点

- B、事物矛盾运动的观点
- C、人民群众是历史创造者的观点
- D、物质生产是社会生活的基础的观点

6、虽然面对国内外各种风险挑战，我国经济稳中向好、长期向好的基本趋势没有改变。我们有党的坚强领导和中国特色社会主义制度的显著优势，有改革开放以来积累的雄厚物质技术基础，有超大规模的市场优势和内需潜力，有庞大的人力资本和人才资源，全党全国坚定信心、同心同德，一定能战胜各种风险挑战。这体现的哲学道理是（ ）。

- A、矛盾具有普遍性，具体问题具体分析
- B、意识具有反作用，充分发挥主观能动性
- C、发展是直线上升的，要对未来充满信心
- D、实践是认识的源泉，坚持一切从实际出发

7、“大鹏之动，非一羽之轻也；骐骥之速，非一足之力也”，中国要飞得高、跑得快，就要汇集和激发 14 亿人民的磅礴力量。这体现的哲学道理是（ ）。

- A、联系具有多样性，要看到本质的、长远的联系
- B、整体和部分不可分割，坚持整体与部分的统一
- C、矛盾具有普遍性，要用全面的观点看问题
- D、量变的不断积累最终会引发质变

8、着眼“放水养鱼”，增强发展后劲并考虑财政可持续性，我国实施大规模减税的政策，且坚持普惠性减税与结构性减税并举，重点降低制造业和小微企业的税收负担。这表明，我国（ ）。

- A、稳健的货币政策松紧适度
- B、积极的财政政策加力提效
- C、通过行政手段支持实体经济发展
- D、未来财政将面临较大不可持续性

9、在超低利率甚至负利率和货币极度超发的支撑下，量化宽松政策在诱导经济逐步走出衰退并进入持续复苏上具有积极意义，但同时也会产生一定的副作用。对量化宽松政策副作用的认识，下列说法错误的是（ ）。

- A、助长了资产价格泡沫
- B、拉大了收入分配差距
- C、加大了政府债务风险
- D、增加了国际贸易赤字

10、国务院办公厅印发的《降低社会保险费率综合方案》指出，在征收体制改革过程中不得自行对企业历史欠费进行集中清缴，不得采取任何增加小微企业实际缴费负担的做法，避免造成企业生产经营困难。该方案

对企业发展能产生积极影响，其传导路径是（ ）。

- A、下调缴费比例—促进企业发展—降低企业成本—促进企业利润
- B、下调缴费比例—增加企业利润—降低企业成本—促进企业发展
- C、下调缴费比例—增加企业利润—促进企业发展—降低企业成本
- D、下调缴费比例—降低企业成本—增加企业利润—促进企业发展

11、乡村产业融合发展是跨界配置农业、农村与现代产业要素，催生新产业、新业态、新规模的经营方式。

农村一、二、三产业融合发展正成为新趋势。下列关于农村一、二、三产业融合发展说法正确的是（ ）。

- A、完善国有资产管理体制，推动国有农场做大做强
- B、决定新产业链、价值链、供应链、利益链的分配
- C、显著增强农村产业活力，培育乡村振兴新动能
- D、提高非公有制经济在我国市场经济中的地位

12、《你好，李焕英》是今年春节票房收入最高的电影，电影院几乎场场爆满。某影院该电影的线下票价为98元，中学生小张在某团购网上，实际花费48元就买到该电影票。此案例中，人民币执行了货币的职能分别是（ ）。

- A、流通手段、虚拟货币
- B、支付手段、价值尺度
- C、价值尺度、流通手段
- D、虚拟货币、支付手段

13、金融要把为实体经济服务作为出发点和落脚点，全面提升服务效率和水平，把更多金融资源配置到经济社会发展的重点领域和薄弱环节，创造引导资源有效配置的货币金融环境，促进融资便利化、降低实体经济成本，解决期限错配和资源错配难题。下列措施不利于改变我国金融体系期限错配和资源错配状况的是（ ）。

- A、进一步发展多层次、区域性资本市场
- B、坚持股票发行审核制，提高直接融资比重
- C、规范发展债券市场，支持银行发行永续债
- D、发展和完善各类政策性长期信用担保机构

14、垃圾分类管理与人民群众的生活质量息息相关，是现代社会文明水平的重要体现。某小区鼓励通过垃圾分类积分兑换生活用品，推行垃圾分类。这一兑换过程属于（ ）。

- A、商品交换过程
- B、货币创造过程
- C、商品流通过程
- D、资源再生过程

15、许多一线城市，居民住处与地铁（公交）站点间都有一段距离，上班赶时间就得乘坐出租车，从而增加了生活费用和时间成本，共享单车的出现有效地解决了这一空间距离问题。“地铁（公交）+共享单车”成了经济便捷的居民出行方式。对于这种出行方式，下列说法正确的是（ ）。

- A、共享单车作为地铁（公交）的延续，两者互为互补品
- B、共享单车完全替代出租车，两者之间互为替代品
- C、共享单车、地铁（公交）、出租车之间互为替代品
- D、共享单车、地铁（公交）、出租车之间互为互补品

16、甲为某校在校大学生，现年 20 岁，无经济来源，1 年前向乙借款 5000 元，现在无力偿还。按照相关法律，负有偿还这笔借款的义务主体是（ ）。

- A、甲的父母
- B、甲所在的大学
- C、甲与其父母
- D、甲本人

17、地方政府规章可以设定行政处罚的范围是（ ）。

- A、没收违法所得
- B、责令停产停业
- C、警告或者一定数量罚款的行政处罚
- D、一定数量的罚款或者没收违法所得

18、根据《行政诉讼法》的规定，下列情形不属于法院受理范围的是（ ）。

- A、张某认为工商管理局对其违章经营的罚款决定有误
- B、李某认为单位免除其行政职务的处罚决定不合理
- C、王某认为某大学取消其硕士学位的决定错误
- D、林某符合法定条件申请颁发营业执照，但行政机关拒绝办理或不予答复

19、根据《公务员法》的规定，下列人员符合公务员报考条件的是（ ）。

- A、郭某，30 周岁，华侨，拥护中华人民共和国宪法，大专毕业
- B、陈某，30 周岁，高中学历，被依法列入失信联合惩戒对象
- C、陆某，39 周岁，研究生学历，刑满释放人员
- D、黄某，17 周岁，身体健康，大专毕业

20、我国刑罚的适用对象是（ ）。

- A、犯罪的人或者单位
- B、违法犯罪分子

- C、严重违反党纪的人
- D、严重违反行政法规的人

21、我国的法律监督机关是（ ）。

- A、中央纪律检查委员会
- B、国家监察机关
- C、人民检察院
- D、人民法院

22、下列关于国有经济的表述，符合我国宪法规定的是（ ）。

- A、国有经济是社会主义市场经济的重要组成部分
- B、国有经济是我国社会主义经济制度的唯一基础
- C、国有经济是国民经济中的领导力量
- D、国有经济是国民经济中的主导力量

23、改革开放以来，我国公民由不熟悉竞争性选举，到投票时能够根据自己的判断投下神圣的一票；由对公共事务“事不关己，高高挂起”，到自觉利用网络监督公共权力的运行；由写信反映民情民意，到在微博、微信里“晒”自己的政治观点与主张……这表明我国公民（ ）。

- A、享有更加广泛的民主权利
- B、政治参与意识不断增强
- C、能自由地参与政治决策过程
- D、直接参与国家管理的渠道多

24、《关于促进劳动力和人才社会性流动体制机制改革的意见》提出，全面取消城区常住人口 300 万以下的城市落户限制，推进常住人口享有与户籍人口同等的教育、就业创业、社会保险、医疗卫生、住房保障等基本公共服务。这些措施（ ）。

- A、旨在保护公民的合法权益
- B、彰显了我国人民民主的真实性
- C、说明我国常住人口与户籍人口享有相同的权利
- D、反映了满足群众意愿是我们党一切工作的出发点和落脚点

25、从“一带一路”倡议提出至今，中巴经济走廊建设全面展开，中蒙俄经济走廊建设稳步推进，亚欧大通道建设步伐加快，一批高速公路积极推进。海上互联互通蓄势待发，亚欧大陆朝着海、陆、空、网立体化的连接迈进。对“一带一路”的认识，下列正确的是（ ）。

- A、它是我国适应全球化发展趋势的必然选择
- B、它的出发点是为我国谋求更多海外利益

- C、我国与“一带一路”沿线国家成功结盟
- D、它是解决我国经济发展问题的根本出路

26、推进全面依法治国，法治政府建设是重点。《法治政府建设与责任落实督察工作规定》要求加强法治政府建设，健全依法决策机制，深化行政执法体制改革，完善党政主要负责人履行推进法治建设第一责任人职责的约束机制。下列有关加强法治政府建设的措施表述错误的是（ ）。

- A、规范督察程序，细化工作规则，解决好“怎样督责”的问题
- B、注重结果运用，做到奖惩分明，解决好“怎样追责”的问题
- C、明确职责分工，强调依法执政，解决好“担什么责”的问题
- D、压紧压实职责，形成责任闭环，解决好“要不要担责”的问题

27、我国第一艘国产航空母舰“山东舰”的入列使中国成为世界上拥有双航母编队的国家之一。中国海军的发展壮大不仅能更好地保卫国家的海洋权益，为中国的和平发展提供坚实保障，也将为世界和平贡献力量。由此可见（ ）。

- A、中国在国际事务中一直发挥着主导作用
- B、军事是维护国家主权和世界和平的主要力量
- C、增强综合国力是主权国家对外活动的出发点和落脚点
- D、我国坚定地维护国家的主权、安全和发展利益，维护世界和平

28、某市通过“接诉即办”来回应民众的诉求。市民服务热线将街道（乡镇）管辖权属清晰的群众诉求直接派给街乡镇。街乡镇迅速响应“接诉即办”，区政府同时接到派单，负责督办。“接诉即办”有利于（ ）。

- A、杜绝行政权力的滥用，建设服务型政府
- B、竭尽全力多管事，改变照章办事的做法
- C、提升公民的基本政治权利，增强公众参与度
- D、转变政府职能，加强各部门之间的合作和相互监督

29、少数民族戏剧是中国戏剧的活化石和中华文化的重要基因，但时至今日，不少少数民族戏剧名存实亡或濒临消失。若围绕“少数民族戏剧的传承与发展”这一主题向政府部门建言献策，下列不合理的是（ ）。

- A、创办少数民族戏剧示范基地
- B、推动少数民族戏剧的产业化发展
- C、设立少数民族戏剧人才培养专项资金
- D、把少数民族戏剧的传承与发展纳入文化惠民工程

30、关于公文中“决定”的表述，下列错误的是（ ）。

- A、审议机构成立或撤销，用“决定”
- B、授予荣誉称号或给予处分，用“决定”

C、“决定”不一定经过法定会议讨论通过这一程序

D、“决定”只有“部署性决定”才要求下级机关执行

二、言语理解与表达。本部分包括表达与理解两方面的内容。请根据题目要求，在四个选项中选出一个最恰当的答案。

31、大造海堤令威胁水鸟种群的污染_____，沿岸和海洋环境_____，沿海人口更容易遭遇_____天气。

依次填入横线处最恰当的是（ ）。

A、加剧 恶化 极端

B、恶化 恶劣 反常

C、恶劣 反常 恶化

D、加重 反噬 恶劣

32、校园不单要让学生“文明其精神”，还要“野蛮其体魄”。体育是促进青少年身心全面发展_____的手段。

青少年体育则是提高青少年体质健康和身心健康水平最积极的干预方式，也是_____各年龄阶段人群体有发展并形成终身体育的基础。

依次填入横线处最恰当的是（ ）。

A、立竿见影 促进

B、必不可少 推行

C、行之有效 推动

D、卓有成效 督促

33、科技排毒，是个时髦词儿，一些电影桥段提供了方法，比如：找个_____规避掉所有通讯设备，放空大脑。如此方法固然有效，但说到底是一种暂时的逃离。现实生活中，我们要工作要养家，假期有限，几个人能真正做到_____？逃离，不是最好的办法。

依次填入横线处最恰当的是（ ）。

A、栖息之所 比屋而封

B、洞天福地 门可罗雀

C、世外桃源 与世隔绝

D、海市蜃楼 离群索居

34、有人说汪曾祺的散文比小说好，虽非定论，却有道理，其散文，记人事、写风景、谈文化、述掌故，兼及草木虫鱼，瓜果食物，皆有_____。间作小考证，亦可喜。_____，态度亲切，不_____作态、文求雅洁，少雕饰，如_____。

依次填入横线处最恰当的是（ ）。

A、韵味 侃侃而谈 扭捏 清水芙蓉

- B、趣味 娓娓道来 拘谨 一气呵成
- C、雅致 促膝长谈 装腔 大道无形
- D、情致 娓娓而谈 矜持 行云流水

35、下列各句中，加横线的成语使用恰当的是（ ）。

- A、野花肆意开放，花丛间常见一对对小面伶俐的麻褐色野兔，在那里追逐嬉戏，天真烂漫，活灵活现
- B、看到果园里汗牛充栋的黄灿灿的橙子，我深感欣慰，因为这说明我们研发的新品种产量高、品质好
- C、此起彼伏的悠悠虫鸣、盈盈满耳的阵阵蛙鼓，将落寞的静夜和旷野喧嚣得如同一支乐队一般，热情洋溢，生机勃勃
- D、近几年，由于市场竞争加剧，小家电生产企业加速整合，目前只剩下五六家分庭抗礼，占据了全省 60% 的市场份额

36、品牌不仅是一家企业的名片，也是一个国家软实力的象征。由人民日报社发起并编制的“中国品牌发展指数”正式发布，指数表明我国品牌经济接近趋热发展区间，向着高质量发展目标稳步迈进。作为一项新指数，“中国品牌发展指数”的研究刚刚起步，还需要不断丰富完善。发挥好“中国品牌发展指数”引导市场资源优化配置、推动产融结合、促进动能转换等方面的作用。将为中国品牌发展注入新动能。

这段文字重在强调（ ）。

- A、品牌不仅是一家企业的名片，也是一个国家软实力的象征
- B、我国品牌经济接近趋热发展区间，正向着高质量稳步迈进
- C、“中国品牌发展指数”的研究刚刚起步，还需要不断完善
- D、发挥好“中国品牌发展指数”将助力中国经济高质量发展

37、“大多数作家，即使优秀的那些，擅长写能够被写出的东西；而非常伟大的那些作家，则能写无法被写出的东西，譬如塞巴尔德。”

“塞巴尔德的作品风格以杂糅为主，这将在多大程度上影响小说的类型，现在预测为时尚早，但毫不夸张地说，他是自博尔赫斯以来，从根本上抹除并重划小说界限的作家。”

“塞巴尔德的作品，有一种身死灵不朽的气质，他是二十世纪晚期最有创造性的作家。”

根据上述评论，下列判断有误的是（ ）。

- A、塞巴尔德擅长将人们心中感知的却难以言说的东西付诸笔端
- B、塞巴尔德因其艺术的创造性直接影响了现有小说的类型界定
- C、塞巴尔德将多种风格杂糅于创作中，拓展了现有小说的规制
- D、塞巴尔德因写出无法被写出的创造性作品而成为伟大的作家

38、管理交通噪音污染一直让研究人员很为难，部分原因在于人们在路上遇到的噪音频率范围非常广。日前，研究人员提出了一种新方法，并且展示了能减轻道路噪音的折纸晶格原型。该技术通过调整噪音传播要素

之间的距离，选择性地抑制处于各种频率的噪音。在折纸声障中，传播噪音的四柱体内含物被放置在弯曲成“三浦折叠”的铝片上。“三浦折叠”是一种常见的折纸折叠方法。随着由此导致的晶格折叠出现，内含物之间变得越来越近，或者进一步分开，从而在不同的频率范围内传播噪音。

根据这段文字，下列说法正确的是（ ）。

- A、噪音的频率范围广是管理交通噪音污染的最主要难题
- B、“三浦折叠”能选择性地抑制处于各种频率的噪音
- C、针对不同频率的噪音，折纸晶格原型采用不同材质的设备
- D、折纸晶格原型通过调整噪音传播要素之间的距离抑制噪音

39、连环画因其题材广泛、内容多样、兼具艺术性和通俗性而备受人民群众喜爱。深入挖掘和阐发优秀传统文化，让书写在古籍里的文字活起来，是当代连环画家的时代使命。新时代的连环画家用连环画来讲述中国优秀经典故事，并以此为蓝本，开发动画电影，打造新媒体艺术产品。他们在传承经典的同时，也在激烈的阅读市场竞争中争取到更多的读者。

这段文字重在说明（ ）。

- A、连环画内容新颖且风格丰富多彩，备受人民群众喜爱
- B、新时代连环画让中华经典“活”起来，也“火”起来
- C、中华经典与新媒体合作是当下连环画发展的必由之路
- D、连环画正在成为讲述中国故事、彰显中国精神的载体

40、职业病的机理和发生规律的基础研究是许多工作推进的基础。当前对职业病的认定仍然停留在 2013 年制定的《职业病分类和目录》，10 大类 132 种，以呼吸系统、皮肤、眼睛、耳鼻喉口腔等为主。但随着我国经济转型升级，新技术、新材料的广泛应用，新业态的产生，新的职业危害因素不断出现。与工作相关的肌肉骨骼系统疾病和心理健康等职业健康问题已引起广大劳动者和社会各界的广泛关注。_____，如何认定、如何核查、如何治疗都是我们不得不面对的问题。

联系上下文，填入横线处最恰当的是（ ）。

- A、新的职业危害引发的安全与健康问题
- B、新的经济形势下职业病的分类和目录
- C、经济转型期职业病的机理和发生规律
- D、职业病的出现与新业态新技术的关系

41、尽管历史语境和社会环境对文学批评的影响是巨大的。有时甚至是决定性的。但任何事物的改变，必须要在外在与内在两个方面去寻找原因。文学批评必须在冷静面对外在环境的前提下，清醒的认识自我，积极地寻求更新之路。

根据这段文字可以看出作者意在强调（ ）。

- A、文学批评受历史语境和社会环境的影响很大
- B、事物的改变要从外在与内在两个方面找原因
- C、文学批评应保有独立的品格来面对外部环境
- D、文学批评对自我要有清醒对认识并努力更新

42、儿童期是血友病治疗的黄金时期，标准预防治疗并不能使已有的关节病变逆转，但可降低出血频率，延缓关节病变的进展并提高生活质量。临床研究表明，12岁以下儿童患者中接受艾美赛珠单抗每周一次预防治疗58周后，年化出血率仅0.3%，零治疗出血率达77%，且无论患者年龄大小以及体内是否存在抗体。随着治疗时间的延长，治疗效果将明显改观，可使99%以上的靶关节停止频繁出血，避免关节病变和残疾的发生。但由于社会对血友病的认知相对不足、药物可及性较低、现有治疗手段还存在一定局限，许多血友病家庭常常面临沉重的疾病负担。

根据这段文字，下列说法正确的是（ ）。

- A、及早治疗血友病能避免关节病变和残疾的发生
- B、对血友病患者来说治疗的时间越长效果越明显
- C、儿童期采取标准预防治疗有利于血友病的治疗
- D、标准预防治疗可帮助血友病家庭消除疾病负担

43、最近，一则“女子感冒不就医，喝‘神奇果汁’后离世”的消息引发热议。消息中提到，该女子生病后拒绝就医，靠喝“神奇果汁”治病，最终不幸身亡。该“神奇果汁”是否有奇效暂且不论，但生病后不接受治疗的行为确实不妥。据调查，很多人不愿意吃药的原因是担心药物的不良反应，有些不法商家借此宣扬“药物无用论”“药物有害论”，声称“人体免疫系统就能对抗疾病，无需吃药”。

这段文字的作者所持的观点是（ ）。

- A、生病一定要吃药
- B、生病应接受治疗
- C、药物有毒副作用
- D、神奇果汁无疗效

44、古典经济学认为，劳动是一种被迫性的活动，是让人感到痛苦和不快乐的活动，亚当·斯密更是把劳动视为“诅咒”和“牺牲”。但马克思认为，人类之所以会对劳动产生厌恶感，是因为随着人类社会的发展，劳动发生了异化，人类真正逃避的是异化的劳动，而不是劳动本身。在马克思看来，劳动是人类区别于动物的类属性，正因为人类有意识的劳动行为才塑造了人类本身以及人类社会，异化劳动只是劳动的一个历史形态。

根据以上材料可知（ ）。

- A、厌恶并逃避劳动是人类的共性
- B、劳动是人类谋生的工具

C、异化劳动将被社会发展所抛弃

D、被迫性的劳动就是异化劳动

45、世界各国在综合国力的竞争中，不仅十分重视硬实力的建设，而且越来越注重软实力的建设，使软实力成为综合国力竞争的又一战略重点。无论从软实力的提出，软实力在综合国力竞争中的战略作用，还是从软实力在各国发展中的战略定位来看，这一点都毋庸置疑。

这段文字重在强调（ ）。

A、软实力是综合国力竞争的战略重点

B、软实力在综合国力竞争中的作用十分重要

C、硬实力和软实力的建设在综合国力竞争中不可或缺

D、软实力具有非常丰富的内涵，是衡量国力重要组成部分

46、上元节赏灯的习俗肇始于汉代，南北朝时得到较大发展。隋时，上元张灯盛行，还出现了“灯市”。唐代上元节时，从宫廷到寺观，都竞设灯棚，规模很大。到宋代，该习俗在民间得到广泛传播，宋太祖还下诏延长放灯时间，将上元节观灯游赏习俗扩大化。宋代的花灯上出现了谜诗，灯与谜相结合，从此成为元宵节期间一项重要的节日习俗。

这段文字主要介绍的是（ ）。

A、上元节赏灯习俗的发展

B、上元节赏灯的不同习俗

C、宋代赏灯习俗的民间化

D、灯谜源自上元赏灯习俗

47、对于家庭伦理文化悠久的中国来说，家庭是认识农民进城逻辑最合适的单位。这里所说的家庭并非西方家庭社会学和人口学意义上的核心家庭、直系家庭等结构性单位，而是包含着“祖先-子孙”的绵长脉络、兼具文化性、宗教性的“三位一体”的家。因此，家庭的生计决策就不仅仅局限于在世的户籍意义上的家庭成员，更包括过去以及未来的“家人”。因此，中国农民的城市化路径是一种接力式进城的模式，它以具有绵延性和伸缩性的家为单位，以农村为根基，藉此实现体面进城的目标。

上述材料作为论据最能支撑下列哪个观点（ ）。

A、中国农民工进城“离土不离乡”

B、中国农村人口迁移以家庭为单位

C、接力式转移是农民工进城的特色

D、农民城市化具有绵延性、伸缩性

48、目前，石油、煤炭、天然气等传统能源仍然是世界经济的能源支柱。但它们都是资源有限的化石能源，其大量开发和利用，是造成大气和其他多种类型环境污染与生态破坏的主要原因之一。如何解决长期用能问题，

并在开发和利用资源的同时保护好地球环境及生态系统，已经为全球关注的问题。开发利用清洁的新能源，是可持续发展的必然选择。这些资源多是可再生、洁净的能源，既可长期利用，又基本不会对环境造成污染。

这段话重在强调（ ）。

- A、传统能源资源仍然是世界经济的能源支柱
- B、传统能源是化石能源，容易对环境造成危害
- C、新能源具有传统能源无法比拟的优势
- D、开发利用清洁的新能源，是可持续发展的必然选择

49、史料记载的历史都是特定视角的历史，而非全景的历史，特别是涉及社会冲突的历史，无不带有特定立场并反映特定主体的利益。在传统正史中，执政者的反对者往往被描述为乱臣贼子，而被成功的政变推翻的前任或前朝则被记载为无道、无能。把史料等同于真实的历史，这是历史研究中的史料陷阱。应该学会史料批判，应该给缺失的史料留下相应的位置。研究者应该具有学术的理性，在史料和史实间建立一道“防火墙”。

根据这段文字，下列说法不正确的是（ ）。

- A、史料反映的是特定视角的历史观
- B、史料往往带有修史者的主观意愿
- C、史料并不完全等同于真实的历史
- D、缺失的史料在历史描述中意义非凡

50、为什么有些成年人很快就能掌握第二语言，而另一些人却表现得很困难？研究人员利用一种叫弥散张量成像的磁共振技术观测一批外国学生的大脑语言回路连接情况。连接情况越好，意味着学习能力可能越强。结果显示，外国学生参与沉浸式强化培训的时间越长，大脑语言回路连接越好。有些人的语言回路连接更好一些，有些人则稍差一些，显示出第二语言的学习存在个体差异。研究人员又分析了这些学生的 DNA 样本，发现一种叫 COMT 的基因变异与强化培训期间的大脑语言回路连接变化相关。总体上，COMT 基因变异与大脑语言回路连接对一个成年人学好第二语言的影响占 46%。

根据上文，不属于论述范围的一项是（ ）。

- A、成年人能否掌握好第二语言与先天因素有关
- B、个体的 COMT 基因变异强化了大脑语言回路连接
- C、大脑语言回路连接情况与成年人语言学习密切相关
- D、一个人的大脑语言回路与基因影响了其语言学习

51、在中国，人工秩序与自然之物的互动，体现在城市中的“礼乐相成”、园林中的“宅园并置”、聚落中的“栖居于自然”。“云上栖舍”采用苏式园林别致的庭院设计，结合太湖西山中的淡远静谧，旨在为每位客人创造一个清静别致的空间，让他们远离都市喧嚣，在静心生活过程中体悟智慧、闲适的中式雅致生活。

这段文字主要介绍了（ ）。

- A、云上栖舍的设计理念
- B、云上栖舍的服务宗旨
- C、云上栖舍的建筑格局
- D、云上栖舍的诗化空间

52、冬瓜、黄瓜、甜瓜等葫芦科作物有着共同的祖先，但在历史的发展中逐渐演变成不同形态。在目前已知的瓜类作物中，冬瓜的基因组最大，包含 27000 多个基因。而且，冬瓜还是所有瓜类作物中保留祖先基因状态最多的。研究人员以此推断出所有瓜类作物起源于一个拥有 15 条染色体的祖先基因组，经过染色体多次断裂和融合等过程形成了丰富多彩的瓜类家族。野生冬瓜果实只有鸡蛋大小，现在大多数冬瓜品种果实巨大，在冬瓜进化过程中上千个基因发生变化，研究人员从中找到两个控制冬瓜果实大小的基因。

最适合做这段文字标题的是（ ）。

- A、冬瓜基因为何如此强
- B、冬瓜为何变得这么大
- C、瓜类基因之历史演变
- D、冬瓜基因之科学探究

53、人们常常进行理性地计算：我的钱有限，要么出去玩，要么买东西。如果出去玩，是很不错，但很快就结束了；如果买东西，却可以永远拥有它。这在事实上是正确的，但在心理层面却未必，因为东西一旦买到手，我们很快就会对自己拥有的物质财富习以为常。另一方面，旅行虽然很快结束了，但我们可以经常与他人共享自己的经历。不但能与他人有更广泛的联系，还有利于形成认同感，因此，经历往往能够满足我们更多潜在的心理需求。

上述材料所要阐述的观点是（ ）。

- A、旅行经历相比物质财富能带来更持久的价值
- B、很多人认为满足潜在的心理需求更重要
- C、人们对已拥有的物质财富很容易习以为常
- D、丰富的旅行经历让我们的人生更加充实

54、在最新的一项研究中，专家用桥梁把每个蚁群与一种食物来源相连，选用不同宽度的桥梁和不同规模的蚁群进行搭配，从而更好地控制单位面积中的蚂蚁密度。然后科学家监控 170 例实验中的蚂蚁的交通状况，并记录蚂蚁的流量、速度和碰撞的次数。他们发现，即使在桥梁容量达到 80%时，蚂蚁的交通流量仍然保持顺畅和稳定。

上述材料意在说明（ ）。

- A、桥梁的密度不会对蚂蚁交通产生任何影响
- B、蚁群规模的大小不会影响蚂蚁的交通流量

C、蚂蚁会调整自己的行为以适应变化的环境

D、拥挤路况下蚁群仍能保持顺畅稳定的通行

55、2020年4月，在航空工业飞机强度研究所，新舟700飞机顺利完成了全机静力首项试验，标志着新舟700飞机全机静力试验正式拉开了帷幕。全机静力试验是首飞前必须经历的“大考”，将对飞机设计、制造等环节予以验证，为首飞提供重要保障，是研制中最为重要的全机试验。试验中加载过程平稳，加载精度满足任务书和大纲要求，测量数据完整有效，得到了试验委托方的认可。新舟700飞机全机静力试验的开门红，也为后续工作打下了一个良好的开端。

这段文字意在强调（ ）。

A、新舟700飞机全机静力首项试验顺利完成

B、新舟700飞机首项静力试验正式拉开帷幕

C、静力试验是新舟700飞机最为重要的试验

D、新舟700飞机首项试验测量数据完整有效

三、判断推理。本部分包括图形推理、定义判断、类比推理和逻辑判断四种类型的试题，在四个选项中选出一个最恰当的答案。

56、填入问号处最恰当的是（ ）。

企	南	陌	芋	？
---	---	---	---	---

东	西	茶	迈
---	---	---	---

A B C D

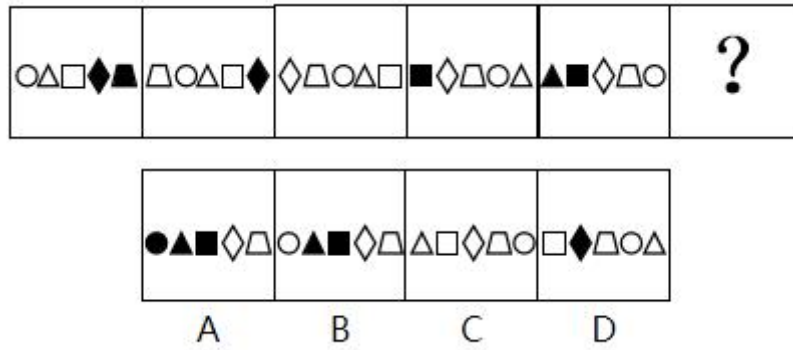
A、A

B、B

C、C

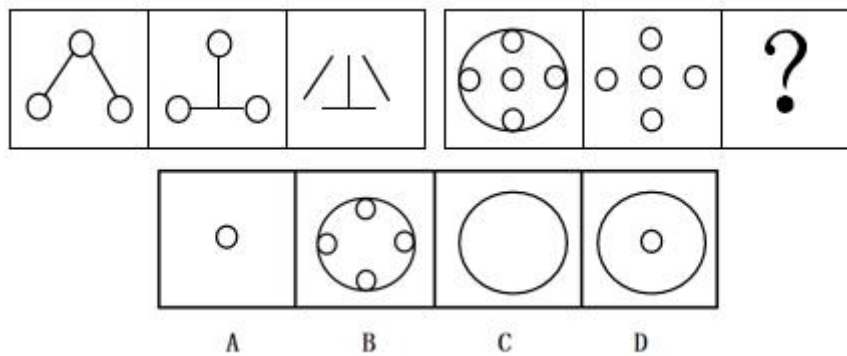
D、D

57、填入问号处最恰当的是（ ）。




- A、A
- B、B
- C、C
- D、D

58、填入问号处最恰当的是（ ）。



- A、A
- B、B
- C、C
- D、D

59、填入问号处最恰当的是（ ）。

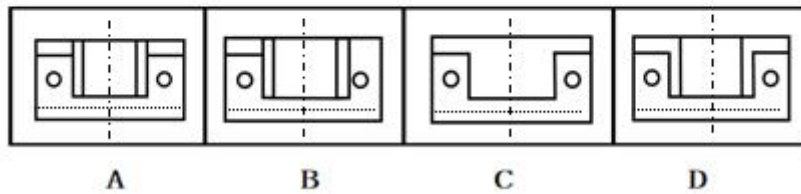


- A、A
- B、B

C、C

D、D

60、下图是对称的立体图，从它的正上方向下看它得到的平面图与下列 4 个选项中的哪个最相似（ ）。



A、A

B、B

C、C

D、D

61、①不会痒

②小脑发出信息

③自己咯吱自己

④告诉人脑其他部分

⑤不对刺激给予反应

A、②④⑤③①

B、⑤②③④①

C、④③②⑤①

D、③②④⑤①

62、①温度高的云底部聚集负电，温度低的云顶部带正电

②凝结成小冰晶

③形成积雨云

④相互感应就电闪雷鸣

⑤热空气上升到高空

A、⑤②③①④

B、①②⑤③④

C、①③②⑤④

D、⑤①④②③

63、①景区告别过载模式

②人员聚集存在安全风险

③“预约游览”产生

④预约消费应运而生

⑤“先预约”成为常态

A、④③①⑤②

B、②⑤①③④

C、④②①③⑤

D、②④③①⑤

64、①沸水堆是采用沸腾的水来冷却核燃料的一种反应堆

②利用分离出的蒸汽推动汽轮进行发电

③温度升高并逐渐气化，形成蒸汽和水的混合物

④结构和运行相对简单

⑤冷却水从反应堆底部流进堆芯，带走裂变产生的热能

A、⑤①④③②

B、①⑤③②④

C、①④③②⑤

D、⑤③②①④

65、①干出业绩，树立口碑

②隆重表彰，授予勋章

③迎难而上，开拓进取

④地处山区，发展滞后

⑤带着使命，走马上任

A、④⑤③①②

B、④②③①⑤

C、①⑤③②④

D、⑤①③②④

66、淡泊：澹泊（ ）。

A、联播：连播

B、门槛：门坎

C、腊梅：蜡梅

D、飘渺：缥渺

67、冷兵器：刀剑（ ）。

A、热兵器：火器

B、唐三彩：陶俑

C、自媒体：微博

D、高丽参：红参

68、自力更生：独立（ ）。

A、一知半解：深入

B、海宴河清：平静

C、井井有条：纷乱

D、无微不至：周到

69、反：正：反正（ ）。

A、横：竖：横竖

B、矛：盾：矛盾

C、因：果：因果

D、开：关：开关

70、耳边风：充耳不闻（ ）。

A、打圆场：缓和僵局

B、哈巴狗：摇头摆尾

C、墙头草：审时度势

D、地头蛇：称霸一方

71、间接正犯，又称为“间接实行犯”，不同于“直接正犯”，它是指行为人为实现自己的犯罪意图，利用无责任能力的人或无犯罪意识的人实施犯罪行为。在一些国家的刑法理论中，间接正犯按照正犯进行处罚，被利用者则无需承担刑事责任。

根据上述定义，下列关于间接正犯的判断不正确的是（ ）。

A、甲乙两人相约去丙家盗窃，到丙家门口时，乙让甲先进去。甲进去之后，乙转身溜走。乙为间接正犯

B、甲乙两人在山上打猎，甲明知前方是人却对乙说前面是只熊，乙信以为真，开枪导致被害人死亡。甲为间接正犯

C、甲教唆 11 岁的乙杀人，甲为间接正犯

D、医生甲欲杀害病人丙，将毒针交给不知情的护士乙。乙给丙注射后，致丙死亡。甲为间接正犯

72、小镇青年，年龄在 16-40 岁之间，不同于北上广深等一线城市的青年，他们普遍生活在县乡镇村或有长期生活在县乡镇村的经历。小镇青年主要有三种类型：一直以来主要生活和工作在县乡镇村的青年为“原住小镇青年”；近一年主要生活在县级市和乡镇村，且有过一年以上大城市工作经历的为“回流小镇青年”；近一年主要生活在直辖市、省会城市和地级市的为“游侠小镇青年”。

根据上述定义，下列属于小镇青年的是（ ）。

- A、甲，41 岁，安徽人，高中毕业至今承包当地山林，种植果树
- B、乙，22 岁，北京人，中国农业大学大四学生，刚到云南某乡实习
- C、丙，38 岁，湖南人，一直在家务农，年前到天津某企业当保安
- D、丁，30 岁，重庆人，市农业局三级主任科员，经常下乡调研、指导农民农业技术

73、政府采购，是指各级国家机关、事业单位和团体组织为了开展日常政务活动或为公众提供服务，在财政监督下，以法定的方式、方法和程序，通过公开招标、公平竞争，由财政部门以直接向供应商付款的方式，从国内、外市场上为政府部门或所属团体购买货物、工程和劳务的行为。

根据上述定义，下列不属于政府采购的是（ ）。

- A、为修缮办公室，乙市统计局向社会公开招标
- B、郑某以询价方式为甲市政府防汛抗旱购买各类救灾物资
- C、丙区政协以询价方式从香港采购多功能扫描仪等办公用品
- D、为确保安全，丁市博物馆以邀请招标的方式采购警用设备

74、无关言语效应，是指与记忆任务无关的言语的听觉输入会干扰个体当前视觉记忆任务的现象。简单来说，就是指当你在看材料进行记忆时，同时听到了与你记忆的内容无关的言语输入，那么你的记忆效果会受到影响。

根据上述定义，下列属于无关言语效应的是（ ）。

- A、小明正在背诵古诗，妈妈喊他吃饭，小明回应后，忘了刚才背诵的内容
- B、礼堂响起婚礼进行曲，一对新人走进殿堂，礼堂外烟花爆竹声震耳欲聋
- C、大学生刘某喜欢边听音乐边做作业，但音乐打断了同宿舍同学的推理思考过程
- D、二年 3 班全体同学正在练习合唱，隔壁班的歌声盖过了他们的声音

75、医联体，是指区域医疗联合体，将同一个区域内的医疗资源整合在一起，通常由一个区域内的三级医院与二级医院、社区医院、村医院或村卫生服务中心，构建“1+X”医联体，纵向整合医疗资源，推动医疗资源下沉，形成资源共享、分工协作的管理模式。

根据上述定义，下列属于医联体的是（ ）。

- A、南京市和平专科医院为龙头，联合 2 家三甲医院打造“血液透析专科”“呼吸疾病专科”“疼痛专科”“精神病

专科”，建成市域内专科联盟

B、重庆市三甲医院联合建立特殊群体健康智能系统，对智障、残疾、传染病等特殊人群进行健康监测，自动提示回访时间、用药时间、服用禁忌等

C、安徽省妇幼保健院助力颍城县妇幼保健院，先后派驻专家 200 余人次，诊治门诊患者 8100 余人次，指导开展手术 1144 例

D、上海交通大学医学院附属瑞金医院领衔，带动、整合区域内的 6 个一二级医疗机构，建立上海卢湾区医疗服务网，解决百姓看病难的问题

76、在本学期校际联考中，甲校的平均分高于乙校和丙校，而致远中学的平均分比丙校高又低于毅高中学。由此可以推出以下哪项？（ ）

- A、乙校的平均分高于丙校
- B、甲校的平均分高于致远中学
- C、在五所中学的平均分排名中，丙校最多名列第四
- D、在五所中学的平均分排名中，致远中学至少名列第二

77、早在 2015 年，中央就提出“把军民融合发展上升为国家战略”，军民融合可以分为“军转民”和“民参军”两部分。因此有人说军民融合是民营企业的必由之路。

下列哪项如果为真，最能削弱上述论证？（ ）

- A、2015 年，国家就强调要“实施军民融合发展战略”
- B、军品市场要求严格，许多企业产品质量很难过关
- C、加强“军转民”工作，有利于推进供给侧结构性改革
- D、加快推进“民参军”，可以让更多社会资源进入军品领域

78、今年上半年，A 省的“虚拟币”式传销案件多达 70 余起，涉案金额 9700 万元，这个数字仅是去年全年涉案金额的 38%。由此可知，今年的“虚拟币”式传销案件案值一定会比去年少。

下列哪项如果为真，最能质疑上述结论？（ ）

- A、去年该类案件的涉案金额的六成是在三月前完成的
- B、人们对“虚拟币”式传销案件的诈骗本质认识越来越清楚了
- C、由于国家加大打击力度，“虚拟币”式传销案件减少了很多
- D、根据“虚拟币”金融周期特点，该类案件的发案率高峰期一般在下半年

79、亚运会男子体操团体赛竞争激烈，观众对六组决赛队伍的得分进行预测：如果 A 队的分数多于 B 队，并且 C 队的分数多于 D 队，那么 E 队是冠军；如果 B 队的分数多于 A 队或者 F 队的分数多于 G 队，那么 H 队是冠军；如果 D 队的分数多于 C 队，那么 F 队是冠军。

最后只有 H 队是冠军，如果上述预测都能成立，那么以下哪项一定是真的？（ ）

- A、A 队的分数比 B 队多
- B、A 队和 G 队的分数一样多
- C、D 队的分数不比 C 队多
- D、F 队的分数比 G 队多

80、几只猴子分一筐桃子，结果没有两只猴子分到的桃子数量完全相同；没有一只猴子恰好是分到 5 个桃子；没有猴子分到的桃子数等于或超过全部猴子数。

如果上述统计是真实的，则下列哪项断定也一定是真的？（ ）

- I.这些猴子中，有一只猴子 1 个桃子都没有分到
 - II.这些猴子的数量，不少于 3 只
 - III.这些猴子的数量，不多于 5 只
- A、只有 I 和 II
 - B、只有 I 和 III
 - C、只有 I
 - D、I、II 和 III

81、全班 17 位同学中有 9 位同学参加了舞蹈课外兴趣小组，7 人参加了合唱课外兴趣小组。如果以上陈述为真，不能推出以下哪项？（ ）

- A、如果有 2 人两项都参加，则至少有 3 人两项都没参加
- B、可能有人两项课外兴趣小组都参加了
- C、肯定有人两项课外兴趣小组都没有参加
- D、肯定有人两项课外兴趣小组都参加

82、构建个人诚信体系，充分发挥失信惩戒作用，才能建设出理想的诚信社会，下列哪项如果为真，与以上论述意思一致？（ ）

- A、只要构建好个人诚信体系，就一定能建设出理想的诚信社会
- B、构建个人诚信体系，发挥失信惩戒作用，是建设诚信社会的基础
- C、想要建设出理想的诚信社会，只有依靠充分发挥失信惩戒的作用
- D、除非建设理想诚信社会，否则要构建个人诚信体系，发挥失信惩戒作用

83、学校通知：从我校当年省级大创项目中评选出 10% 的项目，推荐申报本年度国家级大创项目。小张的大创项目是我校当年优秀的省级大创项目，所以小张的项目可能推荐申报国家级大创项目。

下列哪项如果为真，是能加强上述论证？（ ）

- A、该校省级大创项目的优秀率只有 10%
- B、只有国家级大创项目，才是优秀省级大创项目

- C、想要成为国家级大创项目，一定要是省级大创项目
- D、除非是省级大创项目，否则就不是一个国家级大创项目

84、没有买房的人说房子应该降价，不然太贵了买不起；买了房的人说房子不能降价，否则欠银行贷款的钱远大于房子的价值，房子就成了负资产了。

下列哪句话的逻辑与上述论述最接近？（ ）

- A、理论能够指导实践，实践又是理论创新的主要途径
- B、每天老人要控制盐的进食量，有些病人需要挂生理盐水补充盐分
- C、2016 年我国智能手机产量占全球的 30%以上，但是国产的手机操作系统市场占有率不到 1%
- D、只有全民注意网络安全，才可能有真正的网络空间安全，否则黑客总能够寻找到网络中薄弱环节来攻击，破坏你的网络安全。

85、鱼与熊掌不可兼得，舍鱼而取熊掌。

下列论述如果都正确，哪项与上述的逻辑最为类似？（ ）

- A、丢了西瓜捡芝麻
- B、有的人为了美食可以不顾健康
- C、生活不仅有眼前的苟且，还要有诗和远方
- D、搜索引擎的查准率和查全率是一对既互相矛盾又重要的指标，但是实际上很多搜索引擎产品为了彰显其搜索速度快只注重查准率而忽略了查全率

四、数量关系。在这部分试题中，每道题呈现一段表述数字关系的文字，要求你迅速、准确地计算出答案。

86、

231， 84， 372， 7479， 969， 234， 1113， （ ）

- A、1251
- B、1333
- C、2885
- D、977

87、

$\frac{2}{17}$ ， $\frac{6}{23}$ ， $\frac{6}{31}$ ， （ ）， $\frac{6}{47}$

- A、 $\frac{1}{41}$
- B、 $\frac{2}{41}$
- C、 $\frac{3}{41}$

D、 $\frac{4}{41}$

88、

8, 14, 64, 18, 12, 74, 16, ()。

A、20

B、22

C、24

D、28

89、

1, 2, 5, 6, 13, 10, (), 6

A、8

B、15

C、22

D、29

90、

8, 49, 28, 56, 196, 112, (), 1372

A、14

B、24

C、33

D、60

91、某人花 10000 元买入一只股票，五天后他卖出了这只股票，净收益率为 3%，接着他把所得资金的 60% 投入股票 A，余下的投入股票 B。三天后股票 A 下跌 1%，股票 A 和 B 的市值共计 9970.20 元。问此时股票 B 的市值是多少元？（ ）

A、3852

B、4052

C、4252

D、4452

92、2009 年至 2013 年是 3G 建设周期，2014 年至 2018 年是 4G 建设周期，2019 年是 5G 建设元年，2020 年 5G 建设正式起量。在 4G 建设周期内国家对网络基础建设投资规模比 3G 的多 3750 亿元，2020 年网络基础建设计划投资规模为 3071 亿元，3G 和 4G 周期内基础网络建设总投资规模是 15390 亿元。2020 年对网络基础建设计划投资规模是 4G 周期内年均投资规模的多少倍？（ ）

A、0.3

B、1.3

C、1.6

D、2.6

93、把 100 克浓度为 20%和 200 克浓度为 30%的盐水溶液混合后再添加 20 克水，这时的盐水溶度是多少？

()

A、33%

B、30%

C、28%

D、25%

94、某游乐园团体门票售价如下：团体人数不超过 50 人（含）的每张票 13 元，超过 50 人且不超过 100 人（含）的每张票 11 元，超过 100 人的每张票 9 元，某学校有两个班级到该游乐园活动，一个班人数少于 50 人，两个班人数是 104 人，如果他们分班购买团体门票需花费 1240 元，那么人数较多的班级有多少人？（ ）

A、63

B、60

C、58

D、56

95、某项工程施工，如果增加 6 名工人，该工程将会比原计划提早 1 天完成。如果减少 9 名工人，该工程将延迟 2 天才能完成。那么这项工程原计划多少天完成？（ ）

A、12

B、10

C、8

D、6

96、某家庭去年旅游支出 10000 元，占家庭消费支出的 30%。今年该家庭消费支出增加了 20%，旅游支出占家庭消费支出的 45%，那么今年旅游支出多少元？（ ）

A、18000

B、15000

C、14500

D、13250

97、制造业 PMI（采购经理人指数）是由 5 个分类指数加权平均而成得到。5 个分类指数及其权数是：新订单指数，权数为 30%；生产指数，权数为 25%；从业人员指数，权数为 20%；供应商配送时间指数，权数为 15%；原材料库存指数，权数为 10%。假设某月份制造业的生产指数为 53.7，新订单指数为 50.2，原材料库存

指数为 48.2，从业人员指数为 50.2，供应商配送时间指数为 50.1，该月份的制造业 PMI 是多少？（ ）

- A、49.1
- B、50.8
- C、51.0
- D、51.6

98、小明骑车速度是每小时 12 千米，骑行 1 千米花的时间比步行少 7 分钟，那么他骑行速度是步行的多少倍？（ ）

- A、3
- B、2.8
- C、2.4
- D、2

99、流水线上生产小木球的涂色顺序是：先 4 个红色球，接着 5 个蓝色球，再 6 个绿色球，再 7 个白色球；然后依次又是 4 个红色球，5 个蓝色球，6 个绿色球，7 个白色球……如此不断重复下去，则第 2021^2 个小球的颜色为（ ）。

- A、红色
- B、蓝色
- C、绿色
- D、白色

100、某次百分制考试共有 50 名考生参加，每人的成绩均为正整数，所有考生平均成绩为 75 分，且所有考生成绩均不相同。则成绩低于 50 分的考生最多有多少人？（ ）

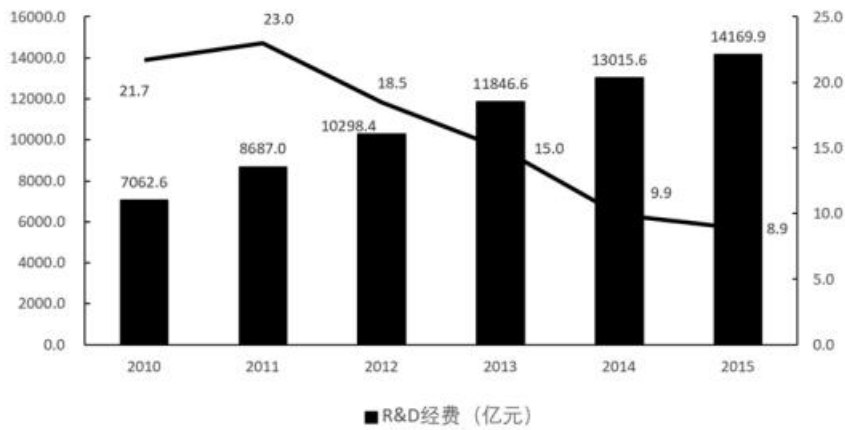
- A、2
- B、3
- C、4
- D、5

五、资料分析。所给出的图、表、文字或综合性资料均有若干个问题要你回答。你应根据资料提供的信息进行分析、比较、计算和判断处理。

（一）

近年来，我国科技经费投入一直保持稳定增长，国家财政科技支出稳步增加，研究与试验发展（R&D）经费投入力度加大。图 1 列出了 2010 年-2015 年期间全国研究与试验发展（R&D）经费的投入和增长情况。

图1 2010年-2015年期间全国研究与试验发展 (R&D)经费



地区	R&D 经费支出 (亿元)	R&D 经费投入强度 (%)	地区	R&D 经费支出 (亿元)	R&D 经费投入强度 (%)
全国	14169.9	2.07	河南	435.0	1.18
北京	1384.0	6.01	湖北	561.7	1.90
天津	510.2	3.08	湖南	412.7	1.43
河北	350.9	1.18	广东	1798.2	2.47
山西	132.5	1.04	广西	105.9	0.63
内蒙古	136.1	0.76	海南	17.0	0.46
辽宁	363.4	1.27	重庆	247.0	1.57
吉林	141.4	1.01	四川	502.9	1.67
黑龙江	157.7	1.05	贵州	62.3	0.59
上海	936.1	3.73	云南	109.4	0.80
江苏	1801.2	2.57	西藏	3.1	0.30
浙江	1011.2	2.36	陕西	393.2	2.18
安徽	431.8	1.96	甘肃	82.7	1.22
福建	392.9	1.51	青海	11.6	0.48
江西	173.2	1.04	宁夏	25.5	0.88
山东	1427.2	2.27	新疆	52.0	0.56

2015年, 全国研究与试验发展 (R&D) 经费支出 14169.9 亿元, 比上年增加 1154.3 亿元, 增长 8.9%, 研究与试验发展 (R&D) 经费投入强度 (与国内生产总值之比) 为 2.07%, 比上年提高 0.05 个百分点。按研究与试

验发展（R&D）人员（全时工作量）计算的人均经费支出为 37.7 万元，比上年增加 2.6 万元。

101、下列说法错误的是（ ）。

- A、2010 年-2015 年期间，全国基础研究经费支出增量最大的是 2011 年
- B、2010 年-2015 年期间，全国研究与试验发展（R&D）经费支出逐年上升
- C、2010 年-2015 年期间，全国研究与试验发展（R&D）经费的平均增幅超过 10%
- D、2010 年-2015 年期间，全国研究与试验发展（R&D）经费增制总体上呈收窄的趋势

102、从上面资料不能够推出的是（ ）。

- A、2014 年国内生产总值
- B、2015 年国内生产总值的增幅
- C、2014 年研究与试验发展（R&D）人员的人均经费支出
- D、2010 年到 2015 年期间，全国研究与试验发展（R&D）经费投入强度翻了一番

103、2015 年，福建省研究与试验发展（R&D）经费支出在全国研究与试验发展（R&D）经费支出中所占的比例是（ ）。

- A、3.61%
- B、3.48%
- C、2.77%
- D、2.51%

104、2015 年，研究与试验发展（R&D）经费支出在全国研究与试验发展（R&D）经费支出中占比超过 5% 的省份有（ ）个？

- A、5
- B、6
- C、7
- D、8

105、下列说法错误的是（ ）。

- A、2015 年，福建省生产总值约 26000 亿元
- B、2015 年，省（市）研究与试验发展（R&D）经费投入强度最高的是北京市
- C、2015 年，江苏、广东、山东、北京和浙江五省的研究与试验发展（R&D）经费支出总和超过全国研究与试验发展（R&D）经费支出的一半

D、2015 年，全国研究与试验发展（R&D）人员规模增幅高于全国研究与试验发展（R&D）经费支出增幅

（二）

根据中投产业研究院发布的《2020-2024 年中国电子商务市场投资分析及前景预测报告》显示，2019 年，

全国电子商务交易额达 34.81 万亿元。比上年增长 6.7%；其中网上零售额 10.63 万亿元，同比增长 16.5%。实物商品网上零售 8.52 万亿元。占社会消费品零售总额的比重上升到 20.7%；中国网民规模已超过 9 亿元。互联网普及率达 64.5%；电子商务从业人员达 5125.65 万人。

按交易主体分，对单位交易额 20.46 万亿元，比上年增长 1.5%；对个人交易额 13.3 万亿元，增长 15.5%。对个人交易中，商品类交易额和服务类交易额对增速分别为 17.1%和 12.8%。

按交易对象分，商品类交易额 25.50 万亿元，比上年增长 5.3%；服务类交易额 8.26 万亿元，增长 11.0%；合约类电子商务交易额 1.05 万亿元，增长 10.1%。



106、2011-2019 年中国电子商务市场规模平均年增长率为（ ）。

- A、20.9%
- B、24.83%
- C、25.82%
- D、96.75%

107、2011-2019 年，中国电子商务市场规模增长平均差值约为（ ）万亿。

- A、2.52
- B、3.19
- C、3.59
- D、5.28

108、2018 年我国电子商务市场中对个人交易额为多少万亿？（ ）

- A、11.52
- B、12.25
- C、22.34
- D、24.22

109、依据所给的参考材料，下列正确的是（ ）。

- A、2015 年电子商务从业人员逐年增长
- B、2015 年以后网购逐渐成为电子商务主体
- C、2019 年以后，中国电子商务市场规模将不断减少
- D、2014~2019 中国电子商务市场规模与增长率成反比

110、2011-2019 年中国电子商务市场规模增幅最小及增长率下降最大的年份分别是（ ）。

- A、2016；2013
- B、2012；2015
- C、2016；2018
- D、2012；2017

参考答案

1、本题考查政治常识。

2021 年 4 月 22 日，国家主席习近平 22 日晚在北京以视频方式出席领导人气候峰会，并发表主题为《共同构建人与自然生命共同体》的重要讲话，首次提出“人与自然生命共同体”重要理念。习近平指出，气候变化给人类生存和发展带来严峻挑战。面对全球环境治理前所未有的困难，国际社会要以前所未有的雄心和行动，共商应对气候变化挑战之策，共谋人与自然和谐共生之道，勇于担当，勠力同心，共同构建人与自然生命共同体。

故正确答案为 B。

2、本题考查政治常识。

2021 年 4 月 29 日，中国空间站天和核心舱发射升空，准确进入预定轨道，任务取得成功。中共中央总书记、国家主席、中央军委主席习近平致贺电，贺电指出，建造空间站、建成国家太空实验室，是实现我国载人航天工程“三步走”战略的重要目标，是建设科技强国、航天强国的重要引领性工程。天和核心舱发射成功，标志着我国空间站建造进入全面实施阶段，为后续任务展开奠定了坚实基础。

中国空间站是中国独立自主建造运营的载人空间站，由天和核心舱、问天实验舱、梦天实验舱三个舱段构成。天和核心舱是空间站的管理和控制中心，是发射入轨的第一个空间站舱段。

故正确答案为 A。

3、本题考查政治常识。

2021 年 2 月 20 日，党史学习教育动员大会在北京召开。中共中央总书记、国家主席、中央军委主席习近平出席会议并发表重要讲话。讲话指出，全党同志要做到学史明理、学史增信、学史崇德、学史力行，学党史、悟思想、办实事、开新局，以昂扬姿态奋力开启全面建设社会主义现代化国家新征程，以优异成绩迎接建党一百周年。

A 项正确，在党史学习教育动员大会上习近平总书记指出，进一步把握历史发展规律和大势，始终掌握党

和国家事业发展的历史主动。历史发展有其规律，但人在其中不是完全消极被动的。只要把握住历史发展规律和大势，抓住历史变革时机，顺势而为，奋发有为，我们就能够更好前进。

B项错误，习近平在党史学习教育动员大会上指出：要坚持以我们党关于历史问题的两个决议和党中央有关精神为依据，准确把握党的历史发展的主题主线、主流本质，正确认识和科学评价党史上的重大事件、重要会议、重要人物。要实事求是看待党史上的一些重大问题，既不能因为成就而回避失误和曲折，也不能因为探索中的失误和曲折而否定成就。要旗帜鲜明反对历史虚无主义，加强思想引导和理论辨析，澄清对党史上一些重大历史问题的模糊认识和片面理解，更好正本清源、固本培元。并未提及避免社会发展直线论。

C项错误，习近平总书记指出，在全党开展党史学习教育，是牢记初心使命、推进中华民族伟大复兴历史伟业的必然要求，是坚定信仰信念、在新时代坚持和发展中国特色社会主义的必然要求，是推进党的自我革命、永葆党的生机活力的必然要求。选项与题干无关，故排除。

D项错误，王沪宁在主持会议时表示，习近平总书记的重要讲话，高屋建瓴，视野宏大，思想深邃，深刻阐述了开展党史学习教育的重大意义，深刻阐明了党史学习教育的重点和工作要求，对党史学习教育进行了全面动员和部署，为我们开展好党史学习教育指明了方向，提供了根本遵循。选项与题干无关，故排除。

故正确答案为A。

4、本题考查政治常识。

A项错误，直接联系是在时间、空间和层次上比较接近的事物、要素之间所发生的相互依赖、相互制约的关系。题干强调的是经济发展的长远性，与题干观点不符。

B项正确，凡事既要看到眼前的联系，也要重视长远联系。根据题干观点，主要强调的是经济发展的长期性，故应重视事物的长远联系，准确把握经济发展趋势。

C项错误，唯物辩证法认为，联系具有客观性，要把握事物的客观联系，积极探索经济发展新思路。“把握事物的主观联系”说法错误。

D项错误，事物的内部联系是事物和现象运动、变化和发展的根本因素。用中国的发展可以刺激世界发展，但是题干强调的是经济发展的长远性，与题干观点不符。

故正确答案为B。

5、本题考查政治常识。

A项正确，联系是指事物内部矛盾双方和事物之间所发生的关系，具有普遍性、客观性、多样性、条件性。唯物辩证法认为联系具有普遍性，题干中提到要重塑一个更有效、更健康的全球卫生治理体系，不仅要呼吁人道主义精神和国际互帮互助，也需要梳理人类命运共同体的意识，故体现了事物的联系具有普遍性，当选。

B项错误，矛盾是指事物之间或事物内部各要素之间的对立、统一的关系，每一事物的发展过程中存在着自始至终的矛盾运动。题干未体现，故排除。

C项错误，历史唯物主义观点认为，人民群众是历史的创造者，原因：①人民群众是物质的创造者；②人

民群众也是精神的创造者；③人民群众是社会变革中的中坚力量。题干未体现，故排除。

D项错误，物质生产是社会存在和发展的基础，生产力是历史发展的最终决定力量，这是贯穿在马克思主义经典作家各个时期的著作中的基本原理。题干未体现，故排除。

故正确答案为A。

6、本题考查政治常识。

A项错误，矛盾的普遍性是指矛盾存在于一切事物中，贯穿于一切事物发展过程的始终，即矛盾无处不在，无时不有。承认矛盾普遍性是一切科学认识的前提。具体问题具体分析是指在矛盾普遍性原理的指导下，具体分析矛盾的特殊性，并找出解决矛盾的正确方法。题干未体现，故排除。

B项正确，物质决定意识，意识反作用于物质。正确的意识对客观事物的发展具有促进作用，错误的意识对客观事物的发展起阻碍作用。题干中“全党全国坚定信心、同心同德，一定能战胜各种风险挑战”体现了增加正确的意识对事物发展起促进作用，体现了意识具有反作用，要积极主动发挥主观能动性。

C项错误，马克思主义认为社会是不断向前发展的，进步的，但是这个过程又不是笔直的、平坦的而是波浪式前进、螺旋式上升的过程。所以，社会发展的总趋势是前进的、上升的，发展的过程是曲折的，故“发展是直线上升的”表述错误。

D项错误，实践和认识的辩证关系是：实践是认识的基础，实践对认识起决定作用。题干中未体现实践是认识的源泉，坚持一切从实际出发，故排除。

故正确答案为B。

7、本题考查政治常识。

题干中的意思为：大鹏冲天飞翔，不是靠一根羽毛的轻盈；骏马急速奔跑，不是靠一只脚的力量。喻指任何一件事情的成功都不是靠个别因素或者单枪匹马的力量，而是要综合各方面的因素或者整体的力量才能完成。

A项错误，联系的多样性是指世界上的事物千差万别，事物的联系也是多种多样的，既有内部联系和外部联系的区分，又有本质联系和非本质联系的不同。不同的联系对事物的发展起着不同的作用。这些不同的联系，对事物的存在、发展所起的作用亦不相同。联系的多样性要求我们注意分析和把握事物存在和发展的各种条件。因此，我们不仅要注意到眼前的、表面的、非本质的联系，还要重视内部的、长远的、本质的联系。

B项正确，整体与部分是相互联系、密不可分的，没有部分就不会有整体。这就要求我们坚持整体与部分的统一，树立全局观念，立足整体，统筹全局，选择最佳方案，实现整体的最优目标，从而达到整体功能大于部分功能之和的理想效果；同时必须重视部分的作用，搞好局部，用局部的发展推动整体的发展。每个人民都是中国这个整体的一部分，汇集和激发14亿人民的磅礴力量，就是立足整体，用局部的发展推动整体的发展。

C项错误，矛盾的普遍性是指矛盾存在于一切事物的发展过程之中，每一事物的发展过程中存在着自始至终的矛盾运动，矛盾无处不在，无时不有。因此，事物都是一分为二的，要用全面的观点看问题。选项表述正确，但与题干无关。

D项错误，量变是事物数量的增减或场所的变更，是一种渐进的、不显著的变化；质变是事物根本性质的变化，是渐进过程的中断。当量达到一定程度必然会在一定时期促成质的飞跃，即量变积累到一定程度会发生质变，题干并未提及积累的过程。选项表述正确，但与题干无关。

故正确答案为B。

8、本题考查经济常识。

A项错误，货币政策是指中央银行为实现既定目标，运用各种工具调节货币供应量来调节市场利率，通过市场利率的变化来影响民间的资本投资，影响总需求来影响宏观经济运行的各种方针措施。货币政策工具主要有利率、法定准备金率、再贴现率、公开市场业务等。减税政策不属于货币政策。

B项正确，财政政策是国家在一定时期内，为了实现社会经济持续稳定发展，综合运用各种财政调节手段，对一定的经济总量进行调节（使之增加或减少）的政策。积极的财政政策是以增加财政支出为主要内容的宏观调控政策，目的是带动民间投资、促进社会消费和扩大出口潜力。其具体措施包括扩大财政支出、增发国债、降低税率、提高政府购买和转移支付等。我国实施大规模减税的政策，能够减轻企业和居民税负，增加和刺激社会总需求，属于积极的财政政策。

C项错误，行政手段是指依靠行政机构，采取强制性的命令、指示、规定等行政方式来调节经济活动，以达到宏观调控目标的一种手段。减税政策不属于行政手段。

D项错误，财政可持续性研究的是政府债务清偿能力问题，其本质上是对财政政策宏观经济效应的研究。我国实施大规模减税的政策，短期内会造成财政收入下降，但是随着实体经济的发展，财政收入下降的局面会得到扭转，财政可持续增长的后劲会得到体现。

故正确答案为B。

9、本题考查经济。

A、C两项正确，量化宽松的最大弊端在于会引起通货膨胀，央行向经济注入大量流动性，会导致货币供应量大幅增加，加大了政府债务风险。但是，一旦经济出现恢复，货币乘数可能很快上升，已经向经济体系注入的流动性在货币乘数的作用下将直线飙升，流动性过剩在短期内就将构成大问题，助长了资产价格泡沫。

B项正确，量化宽松导致贫富差距扩大，是由于货币超发后的不同流向，均会带来财富的再分配。如流向商品市场，引发的通货膨胀对债务人有利；如流向资产领域，引发的资产泡沫对富人有利，且资产越多越有利。由于富人掌握更多信息、更强金融资源，超发的货币就更容易流向富人，呈现马太效应（两极分化现象）。

D项错误，实施量化宽松政策可在短期内改善国际贸易赤字，国际贸易赤字即贸易逆差。实施量化宽松政策的意图是借增发货币之机压低汇率，以提高出口竞争力。以往的实例表明，汇率贬值能使本国商品出口获得竞争优势，可在短时间内改善对外贸易收支逆差局面。

本题为选非题，故正确答案为D。

10、本题考查经济常识。

对于企业来讲，企业缴纳的社会保险费会计入企业的用工成本，方案下调了社会保险费的缴费比例，最直接的体现是企业用工成本降低，从而导致利润增加，企业有利可图，就会投入资金用于扩大再生产，进而促进企业发展壮大。因此，方案对企业发展的传导路径是：下调缴费比例—降低企业成本—增加企业利润—促进企业发展。

故正确答案为 D。

11、本题考查政治常识。

A 项错误，党的十九大报告指出，加快完善社会主义市场经济体制。要完善各类国有资产管理体制，改革国有资本授权经营体制，加快国有经济布局优化、结构调整、战略性重组，促进国有资产保值增值，推动国有资本做强做优做大，有效防止国有资产流失。与题干表述无关。

B 项错误，农村一二三产业融合发展，推动了农村产业链、价值链、供应链、利益链的重构，给乡村振兴提供了新的动能。

C 项正确，农业农村农民问题是关系国计民生的根本性问题。党的十九大报告提出，要实施乡村振兴战略，促进农村一二三产业融合发展；2018 年中央一号文件《中共中央国务院关于实施乡村振兴战略的意见》进一步强调，产业兴旺是乡村振兴的重点，要构建农村一二三产业融合发展体系。农村一二三产业融合发展，推动了农村产业链、价值链、供应链、利益链的重构，给乡村振兴提供了新的动能，能够显著增强农村产业活力。

D 项错误，习近平主席指出，非公有制经济在我国经济社会发展中的地位和作用没有变，我们鼓励、支持、引导非公有制经济发展的方针政策没有变，我们致力于为非公有制经济发展营造良好环境和提供更多机会的方针政策没有变。

故正确答案为 C。

12、本题考查经济常识。

A、D 两项错误，货币的职能包括价值尺度、流通手段、支付手段、贮藏手段和世界货币。虚拟货币不属于货币的职能。

B 项错误，货币的支付手段是指货币用来清偿债务或支付赋税、租金、工资等的职能，题干中并未出现用货币来清偿债务或支付赋税、租金、工资等场景。

C 项正确，货币的价值尺度是指货币充当衡量商品所包含价值量大小的社会尺度，线下电影票标价 98 元，这里的 98 元是用来衡量电影票所包含的价值量大小，故此时货币执行价值尺度职能；货币的流通手段是指货币作为商品交换的媒介，我们平常从商品买卖过程中所看到的货币的作用，就是属于这一种，小张花费 48 元买到该电影票，此时 48 元执行的是货币的流通手段职能。

故正确答案为 C。

13、本题考查经济常识。

期限错配是指如果风险缓释的期限比当前的风险暴露的期限短，则产生期限错配。资源错配是指在经济体

中，不同产业或是不同企业之间存在边际产出价值的不相等。

A 项正确，中国社会科学院原副院长李杨提到：“尽快制定改变我国金融体系期限错配和权益错配的方略包括进一步发展多层次资本市场。健全做市商、定向发行、并购重组等制度安排，建立健全不同层次市场间的差别制度安排和统一的登记结算平台等。”

B 项正确，股票发行的审核制度包括核准制、注册制等。中国社会科学院原副院长李杨提到：“尽快制定改变我国金融体系期限错配和权益错配的方略包括进一步推行股票发行注册制改革，根除我国股票主板市场的痼疾。”党的十九届五中全会也提出，全面实行股票发行注册制，建立常态化退市机制，提高直接融资比重，是“十四五”时期资本市场实现高质量发展的战略目标和重点任务。

C 项错误，中国社会科学院原副院长李杨提到：“尽快制定改变我国金融体系期限错配和权益错配的方略包括规范发展债券市场，其中最重要的工作有两项——允许发行市政债券，大力推行资产证券化。”市政债券则是指由州、地区、所属地及行政区划所发行的债券。而永续债券，又称无期债券，则是非金融企业（发行人）在银行间债券市场注册发行的“无固定期限、内含发行人赎回权”的债券。

D 项正确，中国社会科学院原副院长李杨提到：“尽快制定改变我国金融体系期限错配和权益错配的方略包括发展类似国家开发银行这样的长期信用机构，从机构层面全面增加长期资本和股权资本供给。”

本题为选非题，故正确答案为 C。

14、本题考查经济常识。

A 项正确，商品是用来交换，能够满足人的某种需要的劳动产品，具有使用价值和交换价值两种属性。使用价值是交换价值的物质承担者，交换价值首先表现为一种使用价值同另一种使用价值相互交换的量的关系或比例，决定商品交换比例的是商品的价值。题干中“通过垃圾分类积分兑换生活用品”中，“垃圾分类”付出了人类劳动，其价值通过“积分”表现，且“垃圾分类”能够让资源得到重复利用，再次实现其使用价值，同时生活用品又是一种商品，因此这一兑换过程属于商品交换过程。

B 项错误，商品的交换是以货币为媒介的，货币是在长期交换过程中形成的固定充当一般等价物的商品，题干中这一兑换过程并未涉及货币创造过程。

C 项错误，商品流通是以货币为媒介的连续不断的商品交换，题干中这一兑换过程并未涉及商品流通过程。

D 项错误，资源再生过程是指将生产和消费过程中产生的废物作为资源加以回收利用，垃圾分类能有效改善城乡环境，促进资源回收利用，但题干中这一兑换过程并未涉及资源再生过程。

故正确答案为 A。

15、本题考查微观经济的相关知识。本题考查相关商品对需求的影响，相关商品的类型包括替代品和互补品。

A 项错误，人们日常出行使用共享单车时，不是必须和地铁或公交车组合使用，当出行距离较近时，可以单独使用共享单车出行，因此选项表述错误。

B 项错误，共享单车不能完全替代出租车，共享单车只是替代了从家到公交车站这段通勤中出租车的功能，当遇到长距离出行，和恶劣天气时，共享单车不能替代出租车。

C 项正确，共享单车和地铁（公交），出租车在部分功能上可以互相替代，如从家到车站的距离可以用共享单车替代出租车。

D 项错误，共享单车与地铁（公交）或出租车之间不存在互补关系，因为具备互补关系的商品必须互相配合使用才能共同满足消费者的同一种需求，人们在日常出行中，可以结合自身情况灵活选择交通工具，因此共享单车与地铁公交、出租车之间不存在互补关系。

故正确答案为 C。

16、本题考查法律常识。

根据《中华人民共和国民法典》第十七条规定：“十八周岁以上的自然人为成年人。不满十八周岁的自然人为未成年人。”第十八条第一款规定：“成年人为完全民事行为能力人，可以独立实施民事法律行为。”甲已年满十八周岁，是完全民事行为能力人，应当独立承担偿还借款的责任。

故正确答案为 D。

17、本题考查法律常识。

根据《中华人民共和国行政处罚法》第十三条第二款规定：“尚未制定法律、法规的，前款规定的人民政府制定的规章对违反行政管理秩序的行为，可以设定警告或者一定数量罚款的行政处罚。罚款的限额由省、自治区、直辖市人民代表大会常务委员会规定。”

【备注】根据 2021 年 7 月 15 日生效的《行政处罚法》第十四条第二款规定：“尚未制定法律、法规的，地方政府规章对违反行政管理秩序的行为，可以设定警告、通报批评或者一定数额罚款的行政处罚。罚款的限额由省、自治区、直辖市人民代表大会常务委员会规定。”

故正确答案为 C。

18、本题考查法律常识。

A 项正确，《行政诉讼法》第十二条规定：“人民法院受理公民、法人或者其他组织提起的下列诉讼：（一）对行政拘留、暂扣或者吊销许可证和执照、责令停产停业、没收违法所得、没收非法财物、罚款、警告等行政处罚不服的；……”张某对行政机关对其违章经营的罚款决定不服，可以向法院提起行政诉讼。

B 项错误，《行政诉讼法》第十三条规定：“人民法院不受理公民、法人或者其他组织对下列事项提起的诉讼：……（三）行政机关对行政机关工作人员的奖惩、任免等决定……”行政机关免除李某行政职务的决定，不属于行政诉讼受案范围。

C 项正确，大学授予硕士学位时该大学属于法律、法规授权的组织，对其作出的决定不服的可以提起行政诉讼。

D 项正确，《行政诉讼法》第十二条规定：“人民法院受理公民、法人或者其他组织提起的下列诉讼：……（三）

申请行政许可，行政机关拒绝或者在法定期限内不予答复，或者对行政机关作出的有关行政许可的其他决定不服的……”林某申请行政许可，但行政机关拒绝办理或不予答复，可以向法院提起行政诉讼。

本题为选非题，故正确答案为 B。

19、本题考查法律常识。

A 项正确，D 项错误，根据《中华人民共和国公务员法》第十三条规定：“公务员应当具备下列条件：（一）具有中华人民共和国国籍；（二）年满十八周岁；（三）拥护中华人民共和国宪法，拥护中国共产党领导和社会主义制度；（四）具有良好的政治素质和道德品行；（五）具有正常履行职责的身体条件和心理素质；（六）具有符合职位要求的文化程度和工作能力；（七）法律规定的其他条件。”A 项中郭某符合公务员报考条件，D 项黄某未满十八周岁，不符合公务员报考条件。

B、C 两项错误，根据《中华人民共和国公务员法》第二十六条规定：“下列人员不得录用为公务员：（一）因犯罪受过刑事处罚的；（二）被开除中国共产党党籍的；（三）被开除公职的；（四）被依法列为失信联合惩戒对象的；（五）有法律规定不得录用为公务员的其他情形的。”B 项中陈某被依法列为失信联合惩戒对象，C 项中陆某为刑满释放人员，均不符合公务员报考条件。

故正确答案为 A。

20、本题考查法律常识。

根据《刑法》第一条规定：“为了惩罚犯罪，保护人民，根据宪法，结合我国同犯罪作斗争的具体经验及实际情况，制定本法。”又根据刑法的规定，犯罪主体分为两类，即自然人犯罪主体与单位犯罪主体。因此，犯罪主体要件也相应地分为自然人犯罪主体要件与单位犯罪主体要件。

故正确答案为 A。

21、本题考查法律常识。

A 项错误，中国共产党中央纪律检查委员会为中国共产党中央委员会的检查监督机关，担负维护党的章程和其他党内法规，检查党的路线、方针、政策和决议的执行情况，协助党的委员会加强党风廉政建设和组织协调反腐败工作的主要任务，实行书记负责制。

B 项错误，根据《宪法》第一百二十三条规定：“中华人民共和国各级监察委员会是国家的监察机关。”

C 项正确，根据《宪法》第一百三十四条规定：“中华人民共和国人民检察院是国家的法律监督机关。”

D 项错误，根据《宪法》第一百二十八条规定：“中华人民共和国人民法院是国家的审判机关。”

故正确答案为 C。

22、本题考查法律常识。

根据《宪法》第七条规定：“国有经济，即社会主义全民所有制经济，是国民经济中的主导力量。国家保障国有经济的巩固和发展。”

故正确答案为 D。

23、本题考查政治常识。

A 项错误，题干中用三个并列举例论证了我国公民逐渐有序参与政治，并没有论述我国公民是否享有更加广泛的民主权利，选项与题干无关。

B 项正确，从题干中可知，我国公民逐渐参与到政治行为中来，说明我国公民政治参与意识不断增强。

C 项错误，题干中我国公民一直享有自由参与政治决策过程的权利，重点在于公民政治参与意识的不断增强，选项非题干论述重点。

D 项错误，十七大报告中指出：“坚持国家一切权力属于人民，从各个层次、各个领域扩大公民有序政治参与。”有序参与政治生活的途径和方式分别为：“民主选举、民主决策、民主管理、民主监督”，选项与题干无关。

故正确答案为 B。

24、本题考查政治常识。

A 项错误，题干中强调常住人口享有与户籍人口同等的教育、就业创业、社会保险、医疗卫生、住房保障等基本公共服务，主要体现的是强调取消城区常住人口的落户限制，保障其与户籍人口同等的基本公共服务权利，并未明确体现保护公民的合法权益。

B 项错误，人民民主的真实性表现在人民当家做主的权利有制度、法律和物质的保障，人民能够自己管理国家，也表现在随着经济发展和社会的进步，广大人民的利益得到日益充分的实现。题干重在强调保障我国常住人口与户籍人口享有相同的权利，并未体现人民民主的真实性。

C 项正确，2019 年 12 月 25 日，中共中央办公厅、国务院办公厅印发的《关于促进劳动力和人才社会性流动体制机制改革的意见》中指出：“全面取消城区常住人口 300 万以下的城市落户限制，全面放宽城区常住人口 300 万至 500 万的大城市落户条件。完善城区常住人口 500 万以上的超大特大城市积分落户政策，精简积分项目，确保社会保险缴纳年限和居住年限分数占主要比例。推进基本公共服务均等化，常住人口享有与户籍人口同等的教育、就业创业、社会保险、医疗卫生、住房保障等基本公共服务。”题干中提到取消城区常住人口的落户限制，保障其与户籍人口同等的基本公共服务权利，充分体现了政府积极采取措施推进我国常住人口与户籍人口享有相同的权利。

D 项错误，我们党来自人民、扎根人民、造福人民，全心全意为人民服务是党的根本宗旨，满足群众意愿是我们党一切工作的出发点和落脚点，题干中强调常住人口享有与户籍人口同等的教育、就业创业、社会保险、医疗卫生、住房保障等基本公共服务，主要体现的是强调取消城区常住人口的落户限制，保障其与户籍人口同等的基本公共服务权利，满足群众意愿是我们党一切工作的出发点和落脚点的说法题干中体现不明显。

故正确答案为 C。

25、本题考查经济常识。

A 项正确，共建“一带一路”顺应世界多极化、经济全球化、文化多样化、社会信息化的潮流，秉持开放的区域合作精神，致力于维护全球自由贸易体系和开放型世界经济，因此它是我国适应全球化发展趋势的必然选

择。

B项错误，一带一路旨在借用古代丝绸之路的历史符号，高举和平发展的旗帜，积极发展与沿线国家的经济合作伙伴关系，共同打造政治互信、经济融合、文化包容的利益共同体、命运共同体和责任共同体，因此它的出发点并不是为我国谋求更多海外利益。

C项错误，共建“一带一路”致力于亚欧非大陆及附近海洋的互联互通，建立和加强沿线各国互联互通伙伴关系。因此，我国并非与“一带一路”沿线国家进行结盟，而是合作伙伴关系。

D项错误，推进“一带一路”建设既是中国扩大和深化对外开放的需要，也是加强和亚欧非及世界各国互利合作的需要。我国经济发展要突破瓶颈、解决深层次矛盾和问题，根本出路在于创新，关键是要靠科技力量。

故正确答案为A。

26、本题考查法律常识。

2019年5月，中共中央办公厅、国务院办公厅印发了《法治政府建设与责任落实督察工作规定》（以下简称规定），并发出通知，要求各地区各部门认真遵照执行。

中央依法治国办负责人就《法治政府建设与责任落实督察工作规定》答记者问时表示，为了深入贯彻落实习近平总书记全面依法治国新理念新思想新战略，充分发挥督察工作对法治政府建设与责任落实的督促推动作用，构建守责尽责、失责追责的法治政府建设与责任落实工作机制，不断把法治政府建设向纵深推进，制定本规定。规定起草突出了4个方面的考虑：一是压紧压实职责，形成责任闭环，解决好“要不要担责”的问题；二是针对党政机关职责特点，明确职责分工，解决好“担什么责”的问题；三是规范督察程序，细化工作规则，解决好“怎样督责”的问题；四是注重结果运用，做到奖惩分明，解决好“怎样追责”的问题。

A项正确，符合规定起草突出的第三个方面考虑。

B项正确，符合规定起草突出的第四个方面考虑。

C项错误，规定起草突出的第二个方面考虑是“针对党政机关职责特点，明确职责分工”而不是“明确职责分工，强调依法执政”。

D项正确，符合规定起草突出的第一个方面考虑。

本题为选非题，故正确答案为C。

27、本题考查其他。

A、B两项错误，党的十八大报告指出，“中国军队始终是维护世界和平的坚定力量，将一如既往同各国加强军事合作、增进军事互信，参与地区和国际安全事务，在国际政治和安全领域发挥积极作用。”因此“发挥主导作用”以及“主要力量”，表述错误。

C项错误，国家利益是国家生存与发展的权益，维护国家利益是主权国家对外活动的出发点和落脚点。

D项正确，中国海军的发展壮大不仅能更好地捍卫国家主权安全、发展利益，保卫国家的海洋权益，同时也将为中国的和平发展提供坚实保障，为世界和平贡献力量。体现了中国外交始终坚定维护国家主权、安全

发展利益，致力于促进世界和平与发展。

故正确答案为 D。

28、本题考查法律常识。

A 项错误，该选项本身说法正确，但与题干无关。行政权力的滥用是指在执政中存在违法行为，题干讲述的是转变、优化政府职能，推动各级政府对群众诉求快速响应、快速办理、快速反馈，与行政权力的滥用无关。

B 项错误，“接诉即办”并不是让各个部门竭尽全力多管事，党政机关必须要严格依规依纪依法履职尽责。

C 项错误，该选项本身说法正确，但与题干无关。题干讲述的是转变政府职能，帮助群众准确、快速解决问题，更好地为人民群众服务，与公众参与度无关。

D 项正确，“接诉即办”有利于打破过去各党政机关单位各自为政的局面，有利于统合各个部门的职权，帮助群众准确、快速解决问题，同时区政府同步接到派单后，对各个部门的工作开展情况也能实时监督。

故正确答案为 D。

29、A 项正确，示范基地能够为少数民族戏剧起到承载平台的作用，能够帮助其推广和传承。

B 项错误，产业化发展需要对戏剧进行市场化改造，对于已经处于名存实亡和濒临消失状态的少数民族戏剧并不适合，可能导致为适应市场需求而失去其特色，不利于传承和保护。

C 项正确，设立少数民族戏剧人才培养专项资金，能为少数民族戏剧人才队伍建设提供物质保障。

D 项正确，把少数民族戏剧的传承与发展纳入文化惠民工程，通过政府惠民工程的推广普及，有助于少数民族戏剧继承和发展。

本题为选非题，故正确答案为 B。

30、本题考查公文。

根据《党政机关公文处理工作条例》第八条规定：“（二）决定。适用于对重要事项作出决策和部署、奖惩有关单位和人员、变更或者撤销下级机关不适当的决定事项”。

A 项错误，审议机构成立或撤销用决议。决议是履行法律程序，表示肯定或否定的意见。

B 项正确，授予荣誉称号或给予处分属于奖惩有关单位和人员可以用决定。

C 项正确，决定虽然有时也经过会议讨论通过，但没有规定必须如此。

D 项正确，“决定”只有“部署性决定”才要求下级机关执行，“宣告性决定”只起知照性作用，一般不要求下级机关执行。

本题为选非题，故正确答案为 A。

31、本题可从第二、三空入手。根据文段内容可知，第二空，第三空横线处分别搭配“环境”和“天气”，且要体现目前出现了问题，并且第三空有递进词“更”，故两空之间应构成递进关系，程度上前轻后重，A 项“恶化”指向坏的方面变，和“极端”指事物发展所达顶点；C 项“反常”指异常，和“恶化”均可构成递进，A、C 两项均保留。B 项“恶劣”指坏到接近于极点，“反常”指不正常的某些东西或现象，无法构成前轻后重的递进关系，D 项“反

噬”指做事过度适得其反，填入此处不符合文意，B、D 两项均排除。

第三空，横线处搭配天气，“极端天气”搭配合理，而“恶化天气”搭配不当，通常说“天气恶化”，故排除 C 项。

代入验证第一空，“大造海堤”令污染加剧，搭配恰当。

故正确答案为 A。

【文段出处】《中国大规模海堤引担忧：损毁湿地易引发极端气候》

32、第一空，根据前文“还要野蛮其体魄”可知，横线处所填内容应为“体育”对于青少年发展是很重要的手段。C 项“行之有效”指某种方法或措施已经实行过，证明很有效用，D 项“卓有成效”指有突出的成绩和效果均能体现出体育对于身心发展是很重要的，C、D 两项均保留。A 项“立竿见影”指行事能马上看到效果或付出能马上得到收获，强调快速见效，文段并未强调“快速”，程度过重，排除。B 项“必不可少”指绝对需要的，程度过重，排除。

第二空，横线处搭配“发展”，C 项“推动发展”表述正确；D 项“督促”指监督催促，搭配“发展”不恰当，排除。故正确答案为 C。

【文段出处】《学校体育要让学生体魄“野蛮”起来》

33、第一空，根据后文“规避掉所有通讯设备”可知，有与世隔绝之意。C 项“世外桃源”指与世隔绝、安居乐业的好地方，符合文意，当选。A 项“栖息之所”指休息睡眠的地方，B 项“洞天福地”指道教神仙所居的名山胜境，现泛指名山胜境，侧重名声大，D 项“海市蜃楼”比喻虚幻的事物，侧重虚幻，三项均无法体现出文段想要“规避掉所有设备”与世隔绝的含义，故三项均排除。

带入验证第二空，根据后文“逃离，不是最好的办法”可知，横线处所填内容应同“逃离”表达意思相近，“与世隔绝”指与社会上的人们隔离，断绝来往，同文意相符。

故正确答案为 C。

【文段出处】《手机的“原罪”与救赎》

34、本题可从第四空入手，横线前有“如”可知，考查解释类对应。故横线处要体现“雅洁，少雕饰”之意。A 项“清水芙蓉”指像那刚出清水的芙蓉花，质朴明媚，毫无雕琢装饰，D 项“行云流水”比喻文章洒脱自然，不做作，两项均能体现出“雅洁、少雕饰”之意，A、D 两项均保留。B 项“一气呵成”形容诗文的气势畅达，一次写成。强调书写顺畅，C 项“大道无形”指最深刻的道理是没有办法形容的，横线前无“道理”之意，两项均不符文意，B、C 两项均排除。

对比 A、D 两项，第三空考查并列关系，横线处应同“态度亲切”构成对应关系，D 项“娓娓而谈”指连续不倦地谈论着，强调亲和，当选。A 项“侃侃而谈”指从容不迫，理直气壮的说话，无法体现态度亲切，排除。

验证第一空和第三空，第一空，“情致”搭配散文恰当，第三空，“不矜持作态”同“态度亲切”构成对应。均搭配合理。

故正确答案为 D。

【文段出处】《蒲桥集》

35、A 项，“活灵活现”形容神态生动逼真，多搭配无生命的事物，搭配“野兔”不恰当，排除；

B 项“汗牛充栋”形容书籍存放很多，与“橙子”搭配不当，排除；

C 项“生机勃勃”形容生命力旺盛的样子，此处运用修辞手法，将“周边的虫鸣、蛙鼓”比作“乐队”，形容夜晚的旷野因为这些生物显得热闹非凡，故“生机勃勃”用在此处符合文意，当选；

D 项“分庭抗礼”指平起平坐，地位相当，文段并未体现几家企业地位平等，使用错误，排除。

故正确答案为 C。

【文段出处】《聆听蛙声》

36、文段首先引出“品牌”这一话题，进而指出“中国品牌发展指数”的发布表明了品牌经济的发展和迈进，并且提出对策“中国品牌发展指数还需要完善”。最后详细提出对策如何完善，强调发挥好“中国品牌发展指数”有利于中国品牌经济的发展，能够为品牌发展注入新动能，故文段为分-总结构，D 项为文段中心句同义替换，当选。

A 项，对应文段话题引入的内容，分述句，非重点，排除；

B 项，对应文段分述句内容，且缺少主题词“中国品牌发展指数”，排除；

C 项，对应文段分述句内容，且表述不明确，排除。

故正确答案为 D。

【文段出处】《人民时评：中国品牌，有了这份“测评表”》

37、A 项，根据文段“能写无法被写出的东西，譬如塞巴尔德”可知，塞巴尔德擅长写出人们心中感知的却难以言说的东西，表述正确，排除；

B 项，根据文段“他是二十世纪晚期最有创造性的作家”“从根本上抹除并重划小说界限的作家”可知，塞巴尔德因其艺术的创造性影响了现有小说的类型界定，表述正确，排除；

C 项，根据文段“塞巴尔德的作品风格以杂糅为主……抹除并重划小说界限的作家”可知，塞巴尔德拓展了小说的规制即对小说的规则制度造成了一定的改变，表述正确，排除；

D 项，“塞巴尔德因写出无法被写出的创造性作品而成为伟大的作家”强加因果，文段并未提及，表述错误，当选。

本题为选非题，故正确答案为 D。

【文段出处】《诺贝尔文学奖最大遗珠，他笔下的文字，你读完只剩赞叹》

38、A 项，“噪音的频率范围广是……最主要难题”，表述过于绝对，文段表述为“部分原因在于人们在路上遇到的噪音频率范围非常广”，故排除；

B 项，“‘三浦折叠’能选择性地抑制处于各种频率的噪音”，偷换概念，文段表述为折纸晶格原型技术“通过调

整噪音传播要素之间的距离，选择性地抑制处于各种频率的噪音”而非“三浦折叠”，故排除；

C项，“采用不同材质的设备”无中生有，故排除；

D项，“折纸晶格原型通过调整噪音传播要素之间的距离抑制噪音”符合原文“该技术通过调整噪音传播要素之间的距离，选择性地抑制处于各种频率的噪音”，当选。

故正确答案为D。

【文段出处】《科学家提出可选择性减轻道路噪音新方法》

39、文段开篇引出“连环画”这一话题，随后提出新时代连环画家运用连环画让中国经典变得“活起来”；紧接着通过并列标志词“同时”引出新时代连环画也获取了很多的读者。故文段为并列结构，体现新时代的连环画传承中华经典，让经典“活起来”的同时，也获得了大量读者。对应B项，“新时代连环画让中华经典‘活’起来，也‘火’起来”，概括全面，当选。

A项，“连环画内容新颖且风格丰富多彩，备受人民群众喜爱”对应文段首句引出话题的内容，背景引入非重点，排除；

C项，“中华经典与新媒体合作”对策无中生有，排除；

D项，“连环画正在成为讲述中国故事、彰显中国精神的载体”对应文段“同时”之前，表述片面，排除。

故正确答案为B。

【文段出处】《“新”连环画讲好经典故事》

40、横线出现在文段结尾，且存在分句，故重点关注前文核心内容并注意与分句内容的衔接。文段开篇引出当前关于职业病的认定停留在2013年制定的目录中，随后通过转折词“但”强调随着发展，出现了新的职业危害因素，并且这些新的职业危害所导致的健康问题引起了广大关注。故尾句要总结前文，即新的职业危害导致的健康问题，对应A项，“新的职业危害引发的安全与健康问题”，且与分句衔接紧密，当选。

B项，“职业病的分类和目录”位于转折之前，非前文所强调的核心问题，故排除；

C项，“职业病的机理和发生规律”对应文段首句，非前文所强调的核心问题，故排除；

D项，“职业病的出现与新业态新技术的关系”，和后文“如何治疗”衔接不当，且非前文所强调的核心问题，故排除；

故正确答案为A。

【文段出处】《科学防治职业病亟须加强基础研究》

41、文段开篇阐述历史语境和社会环境对文学批评影响巨大，然后通过转折词“但”指出事物改变要在从外在与内在两个方面去寻找原因，尾句提出对策，强调文学批评必须在外在环境下，认识自我，寻求更新之路。故重点为尾句提出的对策，对应D项。

A项，“受历史语境和社会环境的影响很大”对应转折前的内容，非重点，排除；

B项，缺乏主题词“文学批评”，且该项“内在与外在”表述宽泛，不明确，排除；

C项，“独立的品格”文段并未提及，无中生有，排除；

故正确答案为D。

【文段出处】《真正透彻的批评为何总难出现》

42、A项，根据“随着治疗时间的延长，治疗效果将明显改观……避免关节病变和残疾的发生”可知，治疗时间延长可避免关节病变和残疾，而非“及早治疗”，表述错误，排除；

B项，文段表述为“随着治疗时间的延长，治疗效果将明显改观”，而非“治疗的时间越长效果越明显”，强加因果，排除；

C项，根据“儿童期是血友病治疗的黄金时期，标准预防治疗并不能使已有的关节病变逆转，但可降低出血频率，延缓关节病变的进展并提高生活质量”可知，表述正确，当选；

D项，文段并未提及“标准预防治疗可帮助血友病家庭消除疾病负担”，无中生有，排除。

故正确答案为C。

【文段出处】《儿童期是血友病治疗的关键时期 应及早采取规范化预防治疗》

43、文段开篇引出“女子感冒不就医，最后离世”的话题，接着描述女子不就医后的举动——喝果汁。通过转折词“但”强调，生病不接受治疗是不对的。最后解释很多人生病不吃药的原因。故文段为分总分结构，重点在转折之后的内容，强调生病后拒绝就医是错误的，对应B项。

A项，“一定要吃药”过于绝对且文段并未提及，无中生有，排除；

C项，“毒副作用”属于解释说明的内容，非重点，排除；

D项，“神奇果汁”为转折之前的内容，是话题引入，非重点，排除。

故正确答案为B。

【文段出处】《生病后到底该不该吃药？专家：应“两害相权取其轻”》

44、文段开篇引出古典经济学中的劳动定义。接着通过转折词“但”引出马克思对于人们厌恶劳动的看法，认为人类逃避的是异化劳动。最后通过“在马克思看来”总结前文，得出结论，重点强调劳动塑造了人类本身，而异化劳动只是劳动的一个历史形态，即异化劳动只是劳动演进过程中的一个阶段，会逐步被淘汰的，对应C项。

A项，“厌恶并逃避劳动”为转折之前的内容，非重点，且“共性”文段未提及，无中生有，排除；

B项，“谋生的工具”文段并未提及，无中生有，排除；

D项，“被迫性”为转折之前的内容，非重点，且“被迫性的劳动就是异化劳动”无中生有，排除。

故正确答案为C。

45、文段开篇提出“硬实力”和“软实力”的话题，程度词“越来越”强调与“硬实力”相比“软实力”更重要，通过“使”得出结论，即“软实力成为综合国力竞争的又一战略重点”。接着从软实力的提出、战略作用、战略定位三个方面分析软实力的重要性。故文段为总分结构，对应A项。

B项，“作用十分重要”表述不明确，文段重点强调在“战略”方面的重要性，排除；

C项，“硬实力和软实力”中“和”表示并列关系，表明两者都重要，没有侧重，而文段通过程度词重点强调软实力，与文段结构不相符，排除；

D项，“软实力的内涵”无中生有，同时“衡量国力重要组成部分”文段并未提及，无中生有，排除。

故正确答案为A。

【文段出处】《综合国力竞争中的软实力建设》

46、文段开篇指出上元节赏灯始于汉代，南北朝时发展较大。随后按照时间先后顺序分别论述了隋、唐、宋各个朝代上元节赏灯习俗不断丰富、壮大的发展历程，故文段为“分-分”的并列结构，应提取分述句共性，全面概括，故文段主要介绍了上元节赏灯这一习俗的发展历程，对应A项。

B项，“不同习俗”未体现随着时代变迁，赏灯习俗从无到有、从小到大的变化发展历程，无法概括全文，且文段立足于“上元节赏灯”这一种习俗进行介绍，“不同习俗”无中生有，排除；

C项，“宋代”只是发展历程中的一个朝代，表述片面，排除；

D项，“灯谜”对应文段介绍宋代上元节赏灯习俗的部分，表述片面，排除。

故正确答案为A。

47、文段开篇提出“家庭是认识农民进城逻辑最合适的单位”，随后具体解释说明，说明家庭是“三位一体”的家，紧接着通过“因此”对前文进行总结，阐释了家庭生计决策的范围不局限于户籍。文段尾句通过“因此”引出结论，强调农民城市化路径是以家为单位的接力式模式。故文段为“分-总”结构，旨在说明中国农民的城市化路径其本质是一种以家为单位的接力式进城模式，对应C项。

A项，“离土不离乡”文段并未提及，无中生有，且脱离“接力式模式”主题词，排除；

B项，“以家庭为单位”为结论前具体分析部分，非重点，文段重在强调“接力式模式”这一本质特征；

D项，“绵延性”与“伸缩性”为家庭的特点，为非重点内容，文段重在强调以家庭为单位的接力式进城模式，排除。

故正确答案为C。

【文段出处】《弹性城市化与接力式进城——理解中国特色城市化模式及其社会机制的一个视角》

48、文段开篇背景铺垫，指出传统能源很重要，接下来通过转折词“但”强调石油、煤炭、天然气等都是资源有限的化石能源，会造成环境污染与生态破坏等问题，随后通过“如何”设问，指出解决长期用能问题及用能同时保护生态环境的重要性。接着针对疑问提出解决办法，即“开发利用清洁的新能源，是可持续发展的必然选择”，尾句进一步说明清洁能源的好处。故文段为“提出问题+解决问题+解释说明（好处、意义）”的结构，重点在解决问题的对策，旨在强调应该开发利用清洁的新能源，这是可持续发展的必然选择，对应D项。

A项，“传统能源资源是世界经济的能源支柱”为背景铺垫部分，且在转折词之前，非重点，排除；

B项，“容易对环境造成危害”，为问题表述，文段强调解决问题的对策，非重点，排除；

C项，“无法比拟的优势”对应尾句好处、意义部分，非重点，且表述绝对，排除。

故正确答案为D。

【文段出处】《新能源的环境意义和战略意义》

49、A项，根据“史料记载的历史都是特定视角的历史，而非全景的历史”可知，选项表述正确，排除；

B项，根据“无不带有特定立场并反映特定主体的利益”可知，选项表述正确，排除；

C项，根据“把史料等同于真实的历史，这是历史研究中的史料陷阱”可知，表述正确，排除；

D项，根据“应该给缺失的史料留下相应的位置，研究者应该具有学术的理性，在史料和史实间建立一道‘防火墙’”可知，文段从研究者角度说明应给缺失的史料一定空间，明确史料与史实的界限，选项“意义非凡”，文段并未提及，无中生有，当选。

本题为选非题，故正确答案为D。

【文段出处】《张荣明：思想史研究指要》

50、A项，根据“总体上，COMT基因变异与大脑语言回路连接对一个成年人学好第二语言的影响占46%”可知，选项为文段论述的内容，排除；

B项，根据“发现一种叫COMT的基因变异与强化培训期间的大脑语言回路连接变化相关”可知，选项中“强化了大脑语言回路连接”，表述错误，文段只是论述“相关”并非“强化”，选项偷换概念，当选；

C项，根据“结果显示，外国学生参与沉浸式强化培训的时间越长，大脑语言回路连接越好”可知，选项为文段论述的内容，排除；

D项，根据“有些人的语言回路连接更好一些，有些人则稍差一些……发现一种叫COMT的基因变异与强化培训期间的大脑语言回路连接变化相关。”可知，选项为文段论述内容，排除。

本题为选非题，故正确答案为B。

【文段出处】《外语学不好怪基因》

51、文段首先指出中国“人工秩序与自然之物的互动”的具体体现，即“云上栖舍”设计的灵感来源，接着介绍“云上栖舍”的设计意图，旨在为客人创造清静别致的空间，让客人体悟中式雅致生活。故文段为并列结构，意在强调“云上栖舍”的设计理念，对应A项。

B项，“服务宗旨”只针对文段尾句“旨在为每位客人创造一个清静别致的空间……”，表述片面，排除；

C项，“建筑格局”仅是“云上栖舍”设计的一方面，表述片面，排除。

D项，“诗化空间”文段均未提及，无中生有，排除；

故正确答案为A。

【文段出处】《苏州园林式民宿设计》

52、文段首先讲述冬瓜是目前已知瓜类作物中基因组最大的和保留祖先基因状态最多的作物，接着阐述研究人员以冬瓜的基因特点推断出所有瓜类作物起源于一个祖先基因组，在染色体多次断裂和融合等过程中形成

了瓜类家族，最后指出现今大多数冬瓜果实巨大与基因有关。故文段围绕冬瓜大小的原因展开论述，对应 B 项。

A 项，文段并未论述冬瓜基因特点的原因，无中生有，排除；

C 项，“瓜类基因”范围扩大，文段只介绍了“冬瓜基因”，排除；

D 项，“科学探究”表述宽泛，不明确，排除。

故正确答案为 B。

【文段出处】《冬瓜为何变得这么大》

53、文段开篇引用人们的观点，论述钱的价值有两种，首先从事实层面论述，花钱出去玩虽好但很快就结束了，花钱买东西却可以永远拥有，即通过转折词“却”强调花钱买东西更好。接着通过转折词“但”强调，在心理层面与前文观点相反，即花钱出去玩更合适，并解释原因，最后通过“因此”进行总结，即“经历往往能够满足我们更多潜在的心理需求”，故文段意在强调买经历比买物质更有价值，对应选项为 A。

B 项，缺少主题词“旅行经历”，排除；

C 项，属于观点后原因解释部分，非重点，且缺少主题词“旅行经历”，排除；

D 项，文段通过两个方面的论述旨在将旅行经历与物质财富的价值进行对比，选项无法体现二者进行比较，且“丰富的旅行经历”无中生有，排除。

故正确答案为 A。

【文段出处】《金钱能买来幸福吗》

54、文段首先提出一项研究，把蚁群与一种食物来源相连，选用不同宽度的桥梁和不同规模的蚁群进行搭配，从而控制单位面积中的蚂蚁密度，研究结果显示，就算桥梁上的蚂蚁很多，蚂蚁仍然可以保持通畅，故文段意在说明道路拥挤的情况下蚁群依然能顺利通行。对应 D 项。

A 项，“任何影响”表述过于绝对，文段中阐述蚂蚁也会产生一些碰撞次数，排除；

B 项，根据“选用不同宽度的桥梁和不同规模的蚁群进行搭配”可知，“蚁群规模的大小”只为其中一个前提，根据“并记录蚂蚁的流量，速度和碰撞的次数”可知，“交通流量”只为其中一个方面，表述片面，排除；

C 项，“调整自己的行为”文段并未提及，且“适应变化的环境”范围扩大，排除；

故正确答案为 D。

【文段出处】《研究发现：蚂蚁会自我调整避免拥堵 值得人类借鉴》

55、文段首先提出新舟 700 飞机顺利完成了全机静力首项试验，随后具体阐述了其意义，最后总结其试验过程及其结果，为后续打下了良好开端。故文段为总-分-总结构，重点围绕“新舟 700 完成了全机静力首项试验”进行论述，对应 A 项。

B 项，对应文段中意义表述，非重点，且“静力试验”扩大概念，应为“全机静力试验”，排除；

C 项，根据“全机静力试验……是研制中最为重要的全机试验”可知，偷换逻辑，且“静力试验”扩大概念，应为“全机静力试验”，排除；

D 项，对应文段中的试验结果，为解释说明中的内容，非重点，且“首项试验”扩大概念，排除；

故正确答案为 A。

【文段出处】《新舟 700 飞机全机静力首项试验完成》

56、观察题干图形，汉字的组成部分分别有“个”、“十”、“百”、“千”，则“？”处应选择带有“万”结构的汉字，只有 D 项符合。

故正确答案为 D。

57、元素组成相同，优先考虑位置规律。观察发现，题干小元素依次向右平移一步，到达最右侧时再从最左侧开始平移，做循环运动，因此问号处图形最左侧应为圆形，排除 C、D 项。再次观察图形颜色变化，当每个小元素到最左侧时，进行黑白互换，则问号处最左侧圆形应为黑色，只有 A 项符合。

故正确答案为 A。

58、元素组成相似，优先考虑样式规律。观察发现，题干第一组图形中，前两个图形去同存异后得到第三个图形，第二组图应用此规律，前两个图形去同存异后得到“？”处的图形，只有 C 项符合。

故正确答案为 C。

59、元素组成不同，且无明显属性规律，优先考虑数量规律。题干图形均由独立的小元素组成，进行相邻比较发现，题干图一和图二之间有 1 个相同元素，图二和图三之间有 2 个相同元素，图三和图四之间有 3 个相同元素，图四和图五之间有 4 个相同元素，故“？”处应选择与图五之间有 5 个相同元素的图形，只有 B 项符合。

故正确答案为 B。

60、本题考查三视图。

从上往下看即图形的俯视图，可通过对比选项，结合排除法确定答案。题干图形为对称图形，因此俯视图也应该是对称图形，排除 B 项；题干中间拱桥形两侧应该是两个独立的长方形，排除 C、D 两项，只有 A 项符合。

故正确答案为 A。

61、第一步：先确定逻辑关系最为明显的逻辑顺序。

观察题干，五个事件主要围绕“咯吱自己但不会痒”的原理展开。逻辑关系的先后顺序比较明显的是事件②和③，应先有自己咯吱自己的动作，再有小脑发出信息，故事件③应在②之前，排除 A、B 两项。

第二步：逐一对照选项并判断正确答案。

根据第一步的结果可以判断只有 C、D 两项符合，通过分析事件②和④可知，应先小脑发出信息，再告诉人脑其他部分，故事件②在④前面，排除 C 项。

故正确答案为 D。

62、第一步：先确定逻辑关系最为明显的逻辑顺序。

观察题干，五个事件主要围绕“形成积雨云和雷电”的过程展开。逻辑关系的先后顺序比较明显的是事件②

和⑤，应先有热空气上升到高空，再凝结成小冰晶，故事件⑤应在②之前，排除 B、C 两项。

第二步：逐一对照选项并判断正确答案。

根据第一步的结果可以判断只有 A、D 两项符合，通过分析事件①和③可知，应先形成积雨云，再讨论云层的带电情况，故事件③在①之前，排除 D 项。

故正确答案为 A。

63、第一步：先确定逻辑关系最为明显的逻辑顺序。

观察题干，五个事件主要围绕“产生景区预约模式”的过程展开。逻辑关系的先后顺序比较明显的是事件②和④，应先有人员聚集存在安全风险的起因，再有预约消费应运而生的结果，故事件②应在④之前，排除 A、C 两项。

第二步：逐一对照选项并判断正确答案。

根据第一步的结果可以判断只有 B、D 两项符合，通过分析事件③和⑤可知，应先产生“预约游览”，后“先预约”才能成为常态，故事件③在⑤之前，排除 B 项。

故正确答案为 D。

64、第一步：先确定逻辑关系最为明显的逻辑顺序。

观察题干，五个事件主要围绕“沸水堆冷却核燃料的反应”过程展开。逻辑关系的先后顺序比较明显的是事件①和⑤，应先对沸水堆下定义，再对其反应的过程进行具体描述，故事件①应在⑤之前，排除 A、D 两项。

第二步：逐一对照选项并判断正确答案。

根据第一步的结果可以判断只有 B、C 两项符合，通过分析事件③和⑤，应先有冷却水流进堆芯带走裂变产生的热能，再有自身温度升高并逐渐气化，故事件⑤应该在事件③之前，排除 C 项。

故正确答案为 B。

65、第一步：先确定逻辑关系最为明显的逻辑顺序。

观察题干，五个事件主要围绕“改善山区发展滞后问题”的过程展开。逻辑关系的先后顺序比较明显的是事件④和⑤，先有山区发展滞后的问题，才需要有人带着使命走马上任，故事件④应在⑤之前，排除 C、D 两项。

第二步：逐一对照选项并判断正确答案。

根据第一步的结果可以判断只有 A、B 两项符合，通过分析事件①和②可知，先干出业绩才能受到表彰，故事件①在②前面，排除 B 项。

故正确答案为 A。

66、第一步：判断题干词语间逻辑关系。

淡泊是指不看重名利，澹泊是指不追求功名利禄，二者为近义关系。

第二步：判断选项词语间逻辑关系。

A 项：联播是指若干广播电台或电视台同时转播，连播是指广播电台或电视台把一个内容较长的节目分若

干次连续播出，二者为两种不同的播放方式，二者为反对关系，与题干逻辑关系不一致，排除；

B项：门槛是指门下框，门坎又称门槛，二者为全同关系，与题干逻辑关系不一致，排除；

C项：腊梅是蜡梅的别称，二者为全同关系，与题干逻辑关系不一致，排除；

D项：缥缈形容高远、隐隐约约、若有若无的样子，缥缈指高远飘忽，隐隐约约的样子，二者为近义关系，与题干逻辑关系一致，当选。

故正确答案为D。

67、第一步：判断题干词语间逻辑关系。

刀剑是冷兵器的一种，二者为种属关系。

第二步：判断选项词语间逻辑关系。

A项：火器又称热兵器，二者为全同关系，与题干逻辑关系不一致，排除；

B项：唐三彩是盛行于唐代的一种低温釉陶器，陶俑是古代墓葬雕塑艺术品的一种，有的唐三彩是陶俑，有的唐三彩不是陶俑，有的陶俑是唐三彩，有的陶俑不是唐三彩，二者为交叉关系，与题干逻辑关系不一致，排除；

C项：微博是自媒体的一种，二者为种属关系，与题干逻辑关系一致，当选；

D项：高丽参是红参，二者为种属关系，但顺序与题干顺序相反，与题干逻辑关系不一致，排除。

故正确答案为C。

68、第一步：判断题干词语间逻辑关系。

自力更生指靠自己的力量把事情办好；独立指依靠自己的力量去做某事，二者为近义关系。

第二步：判断选项词语间逻辑关系。

A项：一知半解指知道得不全面，理解得也不透彻；深入指透彻，二者为反义关系，与题干逻辑关系不一致，排除；

B项：海宴河清比喻天下太平；平静指心情平和安静，二者无明显逻辑关系，与题干逻辑关系不一致，排除；

C项：井井有条形容说话办事有条有理；纷乱指杂乱的、混杂纷乱的事情，二者为反义关系，与题干逻辑关系不一致，排除；

D项：无微不至指形容关怀、照顾得非常细致；周到指各方面都照顾到，没有疏漏，二者为近义关系，与题干逻辑关系一致，当选。

故正确答案为D。

69、第一步：判断题干词语间逻辑关系。

反和正两字为矛盾关系，两个字构成第三个词语。

第二步：判断选项词语间逻辑关系。

- A 项：横和竖为反对关系，与题干逻辑关系不一致，排除；
- B 项：矛和盾都是武器，二者是反对关系，与题干逻辑关系不一致，排除；
- C 项：因导致果，二者是因果的对应关系，与题干逻辑关系不一致，排除；
- D 项：开和关二者为矛盾关系，两个字构成第三个词语，与题干逻辑关系一致，当选。

故正确答案为 D。

70、第一步：判断题干词语间逻辑关系。

耳边风比喻对他人的话听而不见，充耳不闻是指塞住耳朵不听，形容有意不听别人的意见，二者为近义词。

第二步：判断选项词语间逻辑关系。

- A 项：打圆场指调解纠纷、缓和僵持的局面，二者为近义词关系，与题干逻辑关系一致，当选；
- B 项：哈巴狗比喻没有骨气的人，摇头摆尾原形容鱼悠然自在的样子，现用来形容人摇头晃脑、轻浮得意的样子，二者无必然联系，与题干逻辑关系不一致，排除；
- C 项：墙头草比喻善于随情势而改变立场的人，审时度势指研究时机，估量形势，二者不是近义词关系，与题干逻辑关系不一致，排除；
- D 项：地头蛇指当地有势力的欺压人民的人，称霸一方指武力横行霸道，欺压别人，二者不是近义词关系，与题干逻辑关系不一致，排除。

故正确答案为 A。

71、第一步：找出定义关键词。

“行为人为实现自己的犯罪意图”、“利用无责任能力的人或无犯罪意识的人实施犯罪行为”。

第二步：逐一分析选项。

- A 项：甲乙相约盗窃，在甲进去丙家之后，乙转身溜走，甲有盗窃的犯罪意识，不符合“利用无责任能力的人或无犯罪意识的人实施犯罪行为”，不符合定义，当选；
- B 项：甲明知前方是人却对乙说前面是只熊，乙在不明实际情况开枪导致被害人死亡，甲为间接正犯，符合“行为人为实现自己的犯罪意图”、“利用无责任能力的人或无犯罪意识的人实施犯罪行为”，符合定义，排除；
- C 项：甲教唆 11 岁的乙杀人，乙为无责任能力的人，甲为间接正犯，符合“行为人为实现自己的犯罪意图”、“利用无责任能力的人或无犯罪意识的人实施犯罪行为”，符合定义，排除；
- D 项：医生甲欲杀害病人丙，将毒针交给不知情的护士乙，乙在不明实际情况给丙注射后，致丙死亡，甲为间接正犯，符合“行为人为实现自己的犯罪意图”、“利用无责任能力的人或无犯罪意识的人实施犯罪行为”，符合定义，排除。

本题为选非题，故正确答案为 A。

72、第一步：找出定义关键词。

“年龄在 16-40 岁之间”、“不同于北上广深等一线城市的青年，他们普遍生活在县乡镇村或有长期生活在县乡镇村的经历”。

第二步：逐一分析选项。

A 项：甲，41 岁，不符合“年龄在 16-40 岁之间”，不符合定义，排除；

B 项：乙刚到云南某乡实习，生活在乡镇的时间太短，不符合“不同于北上广深等一线城市的青年，他们普遍生活在县乡镇村或有长期生活在县乡镇村的经历”，不符合定义，排除；

C 项：丙，38 岁，符合“年龄在 16-40 岁之间”，一直在家务农，符合“不同于北上广深等一线城市的青年，他们普遍生活在县乡镇村或有长期生活在县乡镇村的经历”，符合定义，当选；

D 项：丁经常下乡调研、指导农民农业技术，但前往乡镇是出于工作需要而不是生活在乡镇，不符合“不同于北上广深等一线城市的青年，他们普遍生活在县乡镇村或有长期生活在县乡镇村的经历”，不符合定义，排除。

故正确答案为 C。

73、第一步：找出定义关键词。

“各级国家机关、事业单位和团体组织”、“为了开展日常政务活动或为公众提供服务”、“在财政监督下，以法定的方式、方法和程序”、“通过公开招标、公平竞争，由财政部门以直接向供应商付款的方式，从国内、外市场上为政府部门或所属团体购买货物、工程和劳务的行为”。

第二步：逐一分析选项。

A 项：乙市统计局为修缮办公室向社会公开招标，符合“各级国家机关、事业单位和团体组织”、“为了开展日常政务活动或为公众提供服务”、“通过公开招标、公平竞争，由财政部门以直接向供应商付款的方式，从国内、外市场上为政府部门或所属团体购买货物、工程和劳务的行为”，符合定义，排除；

B 项：郑某以询价方式为甲市政府防汛抗旱购买各类救灾物资，是郑某个人进行询价采购，不符合“各级国家机关、事业单位和团体组织”，不符合定义，当选；

C 项：丙区政协以询价方式从香港采购多功能扫描仪等办公用品，符合“各级国家机关、事业单位和团体组织”、“为了开展日常政务活动或为公众提供服务”、“通过公开招标、公平竞争，由财政部门以直接向供应商付款的方式，从国内、外市场上为政府部门或所属团体购买货物、工程和劳务的行为”，符合定义，排除；

D 项：丁市博物馆以邀请招标的方式采购警用设备，符合“各级国家机关、事业单位和团体组织”、“为了开展日常政务活动或为公众提供服务”、“通过公开招标、公平竞争，由财政部门以直接向供应商付款的方式，从国内、外市场上为政府部门或所属团体购买货物、工程和劳务的行为”，符合定义，排除。

本题为选非题，故正确答案为 B。

74、第一步：找出定义关键词。

“与记忆任务无关的言语的听觉输入会干扰个体当前视觉记忆任务”、“当你在看材料进行记忆时，同时听到

了与你记忆的内容无关的言语输入，那么你的记忆效果会受到影响”。

第二步：逐一分析选项。

A 项：小明背诵古诗，听到妈妈叫他吃饭的声音，忘记背诵内容，符合“当你在看材料进行记忆时，同时听到了与你记忆的内容无关的言语输入，那么你的记忆效果会受到影响”，符合定义，当选；

B 项：婚礼进行曲与烟花爆竹声，均不涉及看材料进行记忆，不符合“当你在看材料进行记忆时，同时听到了与你记忆的内容无关的言语输入，那么你的记忆效果会受到影响”，不符合定义，排除；

C 项：音乐打断了同宿舍同学的推理思考过程，不是对刘某产生影响，不符合“当你在看材料进行记忆时，同时听到了与你记忆的内容无关的言语输入，那么你的记忆效果会受到影响”，不符合定义，排除；

D 项：隔壁班歌声盖过合唱声音，只描述出音量高低，不涉及看材料进行记忆，不符合“当你在看材料进行记忆时，同时听到了与你记忆的内容无关的言语输入，那么你的记忆效果会受到影响”，不符合定义，排除。

故正确答案为 A。

75、第一步：找出定义关键词。

“将同一个区域内的医疗资源整合在一起”、“由一个区域内的三级医院与二级医院、社区医院、村医院或村卫生服务中心，构建‘1+X’医联体”、“形成资源共享、分工协作的管理模式”。

第二步：逐一分析选项。

A 项：南京市和平专科医院联合 2 家三甲医院建成市域内专科联盟，没有和村医院或村卫生服务中心进行联合，不符合“由一个区域内的三级医院与二级医院、社区医院、村医院或村卫生服务中心，构建‘1+X’医联体”，不符合定义，排除；

B 项：三甲医院联合建立特殊群体健康智能系统，联合对象为特殊群体，不符合“由一个区域内的三级医院与二级医院、社区医院、村医院或村卫生服务中心，构建‘1+X’医联体”，不符合定义，排除；

C 项：妇幼保健院助力鲟城县妇幼保健院，派驻专家，诊治患者，指导手术，是点对点帮助，不符合“由一个区域内的三级医院与二级医院、社区医院、村医院或村卫生服务中心，构建‘1+X’医联体”、“形成资源共享、分工协作的管理模式”，不符合定义，排除；

D 项：上海交通大学医学院附属医院整合区域内医疗机构，建立医疗服务网，符合“将同一个区域内的医疗资源整合在一起”、“由一个区域内的三级医院与二级医院、社区医院、村医院或村卫生服务中心，构建‘1+X’医联体”、“形成资源共享、分工协作的管理模式”，符合定义，当选。

故正确答案为 D。

76、第一步：分析题干。

①甲 > 乙 甲 > 丙

②毅高级中学>致远中学>丙

第二步：根据题干条件分析选项。

由①②可得：甲>丙、毅高级中学>丙、致远中学>丙，故丙最多排名第四。

故正确答案为 C。

77、第一步：找出论点和论据。

论点：有人说军民融合是民营企业的必由之路。

论据：军民融合可以分为“军转民”和“民参军”两部分。

论据讨论的是军民融合的两种形式，论点讨论的是军民融合是民营企业的必由之路，论据和论点话题不一致，优先考虑拆桥，若无拆桥项，可以考虑否定论点。

*注：“军转民”指军队将非军工核心技术转化转移到民营企业，促进企业的产品升级，“民参军”，指民营企业，在通过国军标等认证后，取得给军队提供军工配套的机会。

第二步：逐一分析选项。

A 项：该项说明国家强调要“实施军民融合发展战略”，但与军民融合是否为民营企业的必由之路无关，为无关项，排除；

B 项：该项说明企业产品质量很难满足军品市场要求，即民营企业提供军品产品难度较大，说明军民融合不是民营企业的必由之路，否定论点，能够削弱，当选；

C 项：该项说明“军转民”有利于推进供给侧结构性改革，但与军民融合是否为民营企业的必由之路无关，为无关项，排除；

D 项：该项说明“民参军”有利于社会资源进入军品领域，但与军民融合是否为民营企业的必由之路无关，为无关项，排除。

故正确答案为 B。

78、第一步：找出论点和论据。

论点：今年的“虚拟币”式传销案件案值一定会比去年少。

论据：今年上半年，A 省的“虚拟币”式传销案件多达 70 余起，涉案金额 9700 万元，这个数字仅是去年全年涉案金额的 38%。

论据讨论的是今年上半年的涉案金额，论点讨论的是今年一整年的涉案金额，论点论据话题不一致，优先考虑拆桥。

第二步：逐一分析选项。

A 项：该项说明去年此类案件大部分案件都在三月前发生，与今年 A 省此类案件案值是否会比去年少无关，为无关项，排除；

B 项：该项说明人们对此类案件诈骗本质更加清晰，与今年 A 省实际上此类案件案值是否会比去年少无关，为无关项，排除；

C 项：该项说明国家加大了打击力度，与今年 A 省实际上此类案件案值是否会比去年少无关，为无关项，排除；

D 项：该项说明此类案件更多发生在下半年，说明不能通过上半年的数据来分析今年此类案件的案值，属于拆桥项，能够削弱，当选。

故正确答案为 D。

79、第一步：翻译题干。

① $A > B$ 且 $C > D \rightarrow E$ 是冠军；

② $B > A$ 或 $F > G \rightarrow H$ 是冠军；

③ $D > C \rightarrow F$ 是冠军；

④ H 是冠军；

根据④，将①逆否可得：⑤ $\neg E$ 不是冠军 $\rightarrow A \leq B$ 或 $C \leq D$ ；

③逆否可得：⑥ F 不是冠军 $\rightarrow D \leq C$ 。

第二步：逐一分析选项。

A 项：根据⑤可知 $A \leq B$ 或 $C \leq D$ ，但不确定 A 队与 B 队的分数高低，排除；

B 项：仅知 H 队为冠军，无法得知 A 队与 G 队分数是否一样，排除；

C 项：根据⑥可知 $D \leq C$ ，即 D 队的分数不比 C 队多，当选；

D 项：仅知 H 队为冠军，是对②的肯后，肯后得不到确定性的结论，即无法得知 F 队与 G 队谁的分数多，排除。

故正确答案为 C。

80、第一步：分析题干。

①每只猴子分到的桃子数都不一样

②没有猴子分到 5 个桃子

③每只猴子分到的桃子数 $<$ 全部猴子数

第二步：根据题干条件分析选项。

I. 由①和③可知，每只猴子分到的桃子数都不一样，且每只猴子分到的桃子数 $<$ 全部猴子数，设一共有 x 只猴子，如果每只猴子分到的桃子数分别是 1、2、3、4…… x ，那么一定会有一个猴子分到的桃子数 = 全部猴子数，

说明猴子分到的桃子数最大应该是 $(x-1)$ 个，即“每只猴子分到的桃子数分别是 0、1、2、3、4…… $(x-1)$ ”，一定有一只猴子一个桃子都没分到，这句话一定真实，当选；

II. 猴子数 ≥ 3 ，假设总共有两只猴子，一个分到 0 个桃子，一个分到 1 个桃子，可以满足题干全部条件，因此，猴子数 ≥ 3 不成立，本题问的是“一定真实”，这句话只是有可能为真，不能选；

III. 猴子数 ≤ 5 ，由①和③可知，题干每只猴子分到的桃子数都不一样，且每只猴子分到的桃子数 \leq 全部猴子数，设一共有 x 只猴子，猴子分到的桃子数应该是 0 个到 $(x-1)$ 个，再由②没有猴子分到 5 个桃子可知，猴子数 x 不能大于 5（假设有 6 只猴子，要想满足题干条件，则分到的桃子数为 0、1、2、3、4、5，此时，与条件 2 矛盾），因此，猴子数 ≤ 5 ，这句话一定真实，当选。

综上所述，I、III 一定真实。

故正确答案为 B。

81、逐一分析选项。

A 项：如果有 2 人两项均参加，则共有 7 人只参加舞蹈课外小组，5 人只参加合唱课外兴趣小组，共计 12 人仅参与其中一项，则剩余 3 人没参加兴趣小组，可以推出至少 3 人两项都没参加，排除；

B 项：根据题干，17 人中共 16 人参加课外兴趣小组，可能有人两项课外兴趣小组都参加了，可以推出，排除；

C 项：根据题干，17 人中共 16 人参加课外兴趣小组，假设每位同学均只参加一个兴趣小组，那么剩余 1 人一定两项课外兴趣小组都没有参加，可以推出，排除；

D 项：根据题干，17 人中共 16 人参加课外兴趣小组，每位同学可均只参加其中一个兴趣小组，未必一定有人两项课外兴趣小组都参加，无法推出，当选。

本题为选非题，故正确答案为 D。

82、第一步：翻译题干

建设理想的诚信社会 \rightarrow 构建个人诚信体系且充分发挥失信惩戒作用

第二步：逐一分析选项。

A 项：翻译为：构建好个人诚信体系 \rightarrow 建设出理想的诚信社会，是肯定了题干中箭头后且关系的其中一项，无法推出任何结论，排除；

B 项：翻译为：建设理想的诚信社会 \rightarrow 构建个人诚信体系且充分发挥失信惩戒作用，是对题干的肯前，肯前必肯后，可以推出，并与题干论述意思一致，当选；

C 项：翻译为：建设出理想的诚信社会 \rightarrow 充分发挥失信惩戒作用，是对题干的肯前，肯前必肯后，可以推

出，但与题干论述并不完全一致，排除；

D项：翻译为：¬（构建个人诚信体系且发挥失信惩戒作用）→建设理想诚信社会，是对题干的否后，否后必否前，可以推出—建设理想城新社会，排除。

故正确答案为B。

83、第一步：找出题干论点论据。

论点：小张的项目可能推荐申报国家级大创项目。

论据：小张的大创项目是我校当年优秀的省级大创项目。

论点讨论的是申报国家级大创项目，论据讨论的是我校优秀的省级大创项目，论点论据话题不一致，优先考虑搭桥。

第二步：逐一分析选项。

A项：该项说明了省级大创项目的优秀概率，但无法明确小张的项目是否能推荐申报国家级大创项目，无法加强，排除；

B项：翻译为：优秀省级大创项目→国家级大创项目，建立了论据和论点的联系，并且是从论据搭向论点，为搭桥项，可以加强，当选；

C项：翻译为：国家级大创项目→省级大创项目，建立了论点和论据的联系，但方向是从论点搭向论据，无法加强，排除；

D项：翻译为：国家级大创项目→省级大创项目，建立了论点和论据的联系，但方向是从论点搭向论据，无法加强，排除。

故正确答案为B。

84、第一步：分析题干论述逻辑。

没买房的人认为房子应该降价，买了房子的人认为房子不应该降价，对同样一件事情（房价），站在不同角度（没买房和买了房）有不同的看法。

第二步：逐一分析选项。

A项：理论能够指导实践，实践又是理论创新的主要途径，表明理论和实践之间的关系，并非站在不同角度对同一件事有不同看法，与题干逻辑不一致，排除；

B项：老人要控制盐的摄入量，有些病人需要补充盐分，对同样一件事情（摄入盐），站在不同角度（老人和有些病人）有不同的看法，与题干逻辑一致，当选；

C项：表明2016年我国智能手机产量在全球的占比较高，但国产手机操作系统市场占有率较低，并非站在不同角度对同一件事有不同看法，与题干逻辑不一致，排除；

D项：翻译为：真正的网络空间安全→全民注重网络安全，否则表明如果不这么做，黑客就会破坏网络安

全，说明实现网络安全的做法，并非站在不同角度对同一件事有不同看法，与题干逻辑不一致，排除。

故正确答案为 B。

85、第一步：分析题干推理形式。

鱼和熊掌不可兼得，即鱼和熊掌至少有一个得不到，翻译为： \neg 鱼或 \neg 熊掌；舍鱼而取熊掌，翻译为： \neg 鱼且熊掌，即在鱼和熊掌中仅取其一（熊掌）。

第二步：逐一分析选项。

A 项：翻译为： \neg 西瓜且芝麻，但西瓜和芝麻的关系未知，与题干逻辑不一致，排除；

B 项：翻译为：有的人要美食且 \neg 健康，与题干逻辑不一致，排除；

C 项：翻译为：生活有眼前的苟且且诗且远方，与题干逻辑不一致，排除；

D 项：查准率和查全率是相互矛盾的指标，即查准率和查全率不能同时满足，翻译为： \neg 查准率或 \neg 查全率；注重查准率而忽略查全率，翻译为：查准率且 \neg 查全率，即在查准率和查全率中仅取其一（查准率），与题干逻辑一致，当选。

故正确答案为 D。

86、方法一：观察数列各项都是多位数且变化幅度较乱，观察各位数上的数值发现数列中每个数均为 3 的整数倍，结合选项判断，只有 A 选项满足要求。

方法二：观察数列各项都是多位数，考虑机械划分。将每一项各位数上的数值相加，可发现各位数上的数值之和均为 3 的整数倍，结合选项可判定只有 A 选项满足要求。

故正确答案为 A。

87、观察数列每一项都为分数，优先考虑分数数列。将分子分母分开看，分母：17、23、31、（ ）、47，观察发现每一项的分母均为质数，且 17 和 23 中间间隔质数 19，23 和 31 中间间隔质数 29，可猜想分母为间隔的质数数列，所求项的分母应该为 31 后面的第二个质数，即 41。验证 41 与 47，中间间隔质数 43，因此猜想正确。而分子单独看无规律，故考虑结合分母一起看，将分子分母相加后组成新数列为 19、29、37、 a 、53，也为间隔的质数数列，所以 $a = 43$ ，则所求项的分子 = $a - \text{分母} = 43 - 41 = 2$ ，因此所求项 = $\frac{2}{41}$ 。

故正确答案为 B。

88、观察数列，项数为 8 项，优先考虑多重数列。交叉分组后，奇数项：8、64、12、16，均为 4 的整数倍；偶数项：14、18、74，除以 4 后的余数均为 2。由于所求项在偶数项，需满足除以 4 后的余数为 2 的要求，结合选项，只有 B 选项（ $22 \div 4 = 5 \cdots 2$ ）满足条件。

故正确答案为 B。

89、方法一：数列无明显特征，做差作和后均无规律，将原数列都除以 4 后发现余数分别为 1, 2, 1, 2, 1, 2, (), 2。故所求项除以 4 后余数应该为 1，结合选项判断只有 D 项符合。

方法二：数列项数为 8 项，优先考虑多重数列。交叉分组后，偶数项为 2、6、10、6，相邻两项作差后的绝对值均为 4；奇数项为 1、5、13、()，相邻两项作差得到新数列 4、8、()，观察发现 $4 = 2^2$ ， $8 = 2^3$ ，猜想下一项为 2^4 ，则所求项为 $13 + 2^4 = 29$ 。

故正确答案为 D。

90、数列无明显特征，做差作和后均无规律，将原数列都除以 3 后发现余数分别为 2, 1, 1, 2, 1, 1, ()，1，形成了 3 个数 (2, 1, 1) 的循环，故所求项除以 3 后余数应该为 2，结合选项判断只有 A 项符合。

故正确答案为 A。

91、根据题意可知，第一次卖出股票后此人的资金为 $10000 + 10000 \times 3\% = 10300$ 元，则投入股票 A 的资金为 $10300 \times 60\% = 6180$ 元。由于三天后股票 A 下跌 1%，则三天后股票 A 的市值为 $6180 \times (1 - 1\%) = 6118.2$ 元，则此时股票 B 的市值是 $9970.2 - 6118.2 = 3852$ 元。

故正确答案为 A。

92、设 4G、3G 周期内基础网络建设总投资规模分别是 x 、 y 亿元，根据题意可列方程： $x - y = 3750$...①， $x + y = 15390$...②，联立①式和②式，解得 $x = 9570$ 。2014 年至 2018 年共五年，则 4G 周期内年均投资规模为 $\frac{9570}{5} = 1914$ 亿元，故所求倍数为 $\frac{3071}{1914} \approx 1.6$ 倍。

故正确答案为 C。

93、根据 $\text{浓度} = \frac{\text{溶质质量}}{\text{溶液质量}}$ ，可得此时盐水浓度为 $\frac{100 \times 20\% + 200 \times 30\%}{100 + 200 + 20} = \frac{80}{320} = \frac{1}{4} = 25\%$ 。

故正确答案为 D。

94、根据题意可知，人数较少的班级少于 50 人，人数较多的班级大于 50 人，结合选项发现人数较多的班级人数小于 100 人。设人数较多的班级人数为 x 人，则人数较少的班级人数为 $(104 - x)$ 人，可列方程： $13(104 - x) + 11x = 1240$ ，解得 $x = 56$ ，则人数较多的班级有 56 人。

故正确答案为 D。

95、设原计划有 x 名工人， t 天完成这项工程。赋每名工人效率为 1，根据题意可列方程： $x \times 1 \times t = (x + 6) \times 1 \times (t - 1) = (x - 9) \times 1 \times (t + 2)$ ，解得 $t = 10$ ，即原计划 10 天完成。

故正确答案为 B。

96、根据题意去年该家庭消费支出 $= \frac{10000}{30\%} = \frac{100000}{3}$ 元，则今年该家庭消费支出 $= \frac{100000}{3} \times (1 + 20\%) = 40000$ 元，故今年旅游支出 $= 40000 \times 45\% = 18000$ 元。

故正确答案为 A。

97、根据题意所求制造业 PMI 为其 5 个分类指数与其各自权数乘积后加和得到，即该月份的制造业 $PMI = 50.2 \times 30\% + 53.7 \times 25\% + 50.2 \times 20\% + 50.1 \times 15\% + 48.2 \times 10\%$
 $= 15.06 + 13.425 + 10.04 + 7.515 + 4.82 = 50.86$ ，与 B 项最为接近。

故正确答案为 B。

98、根据公式： $\text{时间} = \frac{\text{路程}}{\text{速度}}$ ，由题意可知，小明骑行 1 千米所花的时间 $= \frac{1}{12}$ 小时 $= \frac{1}{12} \times 60$ 分钟 $= 5$ 分钟，则小明步行 1 千米所花的时间 $= 5 + 7 = 12$ 分钟。根据路程一定，速度和时间成反比，则 $\frac{\text{骑行速度}}{\text{步行速度}} = \frac{\text{步行时间}}{\text{骑行时间}} = \frac{12}{5} = 2.4$ 。

故正确答案为 C。

99、2021 除以 22 的余数为 19，则 2021^2 除以 22 的余数为 $19^2 = 361$ ，361 除以 22 的余数为 9，故 2021^2 除以 22 的余数为 9。按照顺序，4(红)+5(蓝)=9，故第 2021^2 个小球的颜色为蓝色。

故正确答案为 B。

100、方法一：若 50 个人得分为 51、52、53……100，则平均分为 $\frac{51 + 100}{2} \times 55 = 75.5$ ，比实际平均分多 $75.5 - 75 = 0.5$ 分，则总分多 $0.5 \times 50 = 25$ 分。所以需将假设的总分减少 25 分，要使得成绩低于 50 分的考生最多，则应让得分较低的考生减少 25 分，即： $51 - 2 = 49$ ， $52 - 4 = 48$ ， $53 - 6 = 47$ ， $54 - 8 = 46$ ， $55 - 5 = 50$ ，共减少 25 分。所以最多 4 人得分不到 50。

方法二：根据题意可知，50 名考生的总分为 $75 \times 50 = 3750$ 分。要让成绩低于 50 分的考生最多，则成绩不低于 50 分的考生成绩要尽量高，最高为 100 分；成绩低于 50 分的考生成绩要尽量接近 50 分，每人的成绩均为正整数，所以最高能取到 49 分。根据问题，从最大选项代入：

D 项：若成绩低于 50 分的考生最多有 5 个人，根据所有考生成绩均不相同，则这 5 人的得分最高情况依次为：49 分、48 分、47 分、46 分、45 分，这 5 人的得分和为 $49 + 48 + 47 + 46 + 45 = 235$ 分，则前 45 人得分需达到 $3750 - 235 = 3515$ 分；而令第 1 名为 100 分，第 2 名为 99 分……依次类推，第 45 名为 56 分，则前 45 名得分总分最大为 $100 + 99 + 98 + \dots + 56 = 3510$ 分，达不到 3515 分，排除 D 选项；

C 项：若成绩低于 50 分的考生最多有 4 个人，根据所有考生成绩均不相同，则这 4 人的得分最高情况依次

为：49分、48分、47分、46分，这4人的得分和为 $49 + 48 + 47 + 46 = 190$ 分，则前46人得分需达到 $3750 - 190 = 3560$ 分，此时令第1名为100分，第2名为99分……依次类推，第46名为55分，则前46名得分总分最大为 $100 + 99 + 98 + \dots + 55 = 3565$ 分，可以达到3560分，满足要求。

故正确答案为C。

101、A项：材料中给出数据为全国研究与试验发展（R&D）经费支出，问题为全国基础研究经费支出，无法判断每年增量多少，错误；

B项：定位图1，2010-2015年期间经费支出呈逐年上升趋势，正确；

C项：定位图1，2010年、2015年全国研究与试验发展（R&D）经费支出分别为：7062.6亿元、14169.9亿元，根据公式： $\frac{\text{现期}}{\text{基期}} = (1+r)^5 = \frac{14169.9}{7062.6} \approx 2$ ，因为 $2 > (1+10\%)^5$ ，所以全国研究与试验发展（R&D）经费的平均增幅超过10%，正确；

D项：定位图1，2010年增长率为21.7%，2015年增长率为8.9%，故总体呈现收窄趋势，正确。

备注：D项总体趋势关注整体情况，无需纠结逐年。

本题为选非题，故正确答案为A。

102、A项：定位文字材料第二段“2015年，全国研究与试验发展（R&D）经费支出14169.9亿元，比上年增加1154.3亿元，增长8.9%；研究与试验发展（R&D）经费投入强度（与国内生产总值之比）为2.07%，比上年提高0.05个百分点。”即2014年试验发展（R&D）经费支出为： $14169.9 - 1154.3 = 13015.6$ 亿元，2014年研究与试验发展（R&D）经费投入强度（与国内生产总值之比）为： $2.07\% - 0.05\% = 2.02\%$ ，可以得出2014年国内生产总值 $= \frac{13015.6}{2.02\%} \approx 644337$ 亿元，正确；

B项：定位文字材料第二段“2015年，全国研究与试验发展（R&D）经费支出14169.9亿元，…研究与试验发展（R&D）经费投入强度（与国内生产总值之比）为2.07%，比上年提高0.05个百分点。”可得2015年国内生产总值为： $\frac{14169.9}{2.07\%} \approx 684536$ 亿元，结合A项得出2014年国内生产总值为644337亿元，所以2015年国内生产总值的增幅 $= \frac{684536 - 644337}{644337} \approx 6.2\%$ ，正确；

C项：定位文字材料第二段“按研究与试验发展（R&D）人员（全时工作量）计算的人均经费支出为37.7万元，比上年增加2.6万元。”可得2014年研究与试验发展（R&D）人员的人均经费支出为： $37.7 - 2.6 = 35.1$ 万元，正确；

D项：材料中没有给出2010年国内生产总值相关数据，故无法推出全国研究与试验发展（R&D）经费投入

强度变化，错误。

本题为选非题，故正确答案为 D。

103、根据题干“2015 年，……在……中所占比是”，结合材料为 2015 年，可判定本题为现期比重问题。定位表格数据可得，2015 年全国研究与实验发展（R&D）经费支出为 14169.9 亿元，福建省研究与实验发展（R&D）

经费支出为 392.9 亿元，故福建占全国的比重 $= \frac{\text{部分}}{\text{整体}} = \frac{392.9}{14169.9} \approx \frac{392.9}{14200} \approx 2.77\%$ 。

故正确答案为 C。

104、根据题干“2015 年，…占比超过 5% 的省份有几个”，可判定本题为现期比重的比较问题。定位表格数

据，可得全国以及各省（市）数据，根据公式：比重 $= \frac{\text{部分}}{\text{总体}}$ ，各省（市）研究与试验发展（R&D）经费支出占

全国的比重大于 5%，即各省（市）研究与试验发展（R&D）经费支出大于 $14169.9 \times 5\% = 14169.9 \times \frac{1}{20} \approx 708.50$

亿元。只有北京（1384.0 亿元）、广东（1798.2 亿元）、上海（936.1 亿元）、江苏（1801.2 亿元）、浙江（1011.2 亿元）、山东（1427.2 亿元）6 个省份的研究与实验发展（R&D）经费支出大于 708.50 亿元。

故正确答案为 B。

105、A 项：定位文字材料第二段及表格数据，福建省研究与试验发展（R&D）经费为 392.9 亿元，该省（R&D）

经费投入强度为 1.51%。根据公式：研究与试验发展（R&D）经费投入强度 $= \frac{\text{研究与试验发展(RD)经费支出}}{\text{生产总值}}$ ，

则 2015 年福建省生产总值 $= \frac{2015\text{年福建研究与试验发展(RD)经费支出}}{\text{研究与试验发展(RD)经费投入强度}} = \frac{392.9}{1.51\%} \approx 26020$ 亿元，约为 26000 亿元，

正确；

B 项：定位表格数据，可得省（市）研究与试验发展（R&D）经费投入强度最高的是北京市（6.01%），正确；

C 项：定位表格数据，全国、江苏、广东、山东、北京、浙江的研究与试验发展（R&D）经费支出分别为 14169.9 亿元、1801.2 亿元、1798.2 亿元、1427.2 亿元、1384.0 亿元、1011.2 亿元，则全国研究与试验发展（R&D）

的一半 $= 14169.9 \times \frac{1}{2} \approx 7085$ 亿元，江苏、广东、山东、北京和浙江全省的研究与试验发展（R&D）经费支出总

额 $= 1801.2 + 1798.2 + 1427.2 + 1384.0 + 1011.2 \approx 1800 + 1800 + 1430 + 1380 + 1010 = 7420$ 亿元， $7420 > 7085$ ，

超过全国的一半，正确；

D 项：定位文字材料第二段“按研究与试验发展（R&D）人员（全时工作量）计算的人均经费支出为 37.7 万元，比上年增加 2.6 万元”，根据两期平均数变化判断方法： $a > b$ ，平均数上升，反之成立（平均数上升， $a > b$ ）。

2015 年人均经费支出较上年上升，故 $a(\text{研究与实验发展经费支出增幅}) > b(\text{研究与实验发展人员规模增幅})$ ，错误。

本题为选非题，故正确答案为 D。

106、由题干“2011-2019年……平均年增长率”，结合图表材料时间为2011-2019年，可判定本题为现期平均数计算问题。定位图表材料可知，2011-2019年中国电子商务市场规模的同比增长率分别为33.8%、33.2%、28.2%、57.6%、32.9%、19.8%、11.7%、8.5%、6.7%。则2011-2019年中国电子商务市场规模平均年增长率

$$= \frac{2011-2019年增长率的总量}{9} = \frac{33.8\% + 33.2\% + 28.2\% + 57.6\% + 32.9\% + 19.8\% + 11.7\% + 8.5\% + 6.7\%}{9}$$

$$= \frac{2.324}{9} \approx 25.82\%$$

故正确答案为C。

备注：题干表述“平均年增长率”，即为求2011-2019年增长率的平均数（区分：若表述为“年平均增长率”，即为求2011-2019年的年均增长率）。

107、由题干“2011-2019年，……增长平均差值……万亿”，可判定本题为年均增长量计算。定位图表材料可知，2011年、2019年中国电子商务交易额分别为6.09万亿元、34.81万亿元。根据年均增长量 $= \frac{现期量 - 基期量}{年份差}$ ，则2011年-2019年，中国电子商务规模年均增长量 $= \frac{34.81 - 6.09}{2019 - 2011} = \frac{28.72}{8} = 3.59$ 万亿元，即增长平均差值约为3.59万亿元。

故正确答案为C。

108、由题干“2018年……为多少万亿”，结合材料时间为2019年，可判定本题为基期计算问题。定位文字材料第二段可知，（2019年我国电子商务市场）对个人交易额13.30万亿元，增长15.5%。根据基期量 $= \frac{现期量}{1 + 增长率}$ ，则2018年我国电子商务市场中对个人交易额 $= \frac{13.30}{1 + 15.5\%} \approx \frac{13.30}{1.16} \approx 11.5$ ，与A项最接近。

故正确答案为A。

109、A项，材料未提及2015年-2018年电子商务从业人员情况，无法得出2015年电子商务人员逐年增长的结论，错误；

B项，材料未提及2015年-2018年网购情况，无法得出2015年以后网络购年逐渐成为电子商务主体的结论，错误；

C项，材料未提及2019年以后的电子商务情况，无法得出2019年以后中国电子商务市场规模不断减少的结论，错误；

D项，定位图表材料可知，2014年-2019年中国电子商务交易额持续增长、同比增长率持续降低。两者变化趋势相反，故2014年-2019年中国电子商务市场规模与增长率成反比，正确。

故正确答案为D。

备注：D项表述不严谨，若2014年-2019年中国电子商务市场规模与增长率是成反比，则每年电子商务市场规模与增长率的比值为定值，但2014-2019年每年二者的比值均不相同，无法构成反比关系。因此应表述为

“2014年-2019年中国电子商务市场规模与增长率变化趋势相反”更为严谨。

110、根据题干“2011-2019年……增幅最小及增长率下降最大……”，可判定本题为增长量比较及一般增长率比较问题。根据选项涉及到的年份，定位图表材料可知，2011年、2012年、2015年、2016年中国电子商务交易额分别为6.09万亿元、8.11万亿元、21.79万亿元、26.10万亿元；2012-2018年中国电子商务交易额增长率分别为33.2%、28.2%、57.6%、32.9%、19.8%、11.7%、8.5%。根据增长量=现期量-基期量，则2012年中国电子商务交易额的增长量=8.11-6.09=2.02万亿元，2016年中国电子商务交易额的增长量=26.10-21.79=4.31万亿元。由 $2.02 < 4.31$ ，排除A、C两项。2015年中国电子商务交易额增长率下降 $57.6\% - 32.9\% = 24.7\%$ ；2017年中国电子商务交易额增长率下降 $19.8\% - 11.7\% = 8.1\%$ 。由 $24.7\% > 8.1\%$ ，排除D。

故正确答案为B。

备注：题干表述“增幅”一般表示增长率，但若将“增幅最小”理解为增长率最小，读数可知应为2019年(6.7%)，无选项对应。故此题中的“增幅”表示增长量。